



مشاوره تحصیلی هیوا

تخصصی ترین سایت مشاوره کشور

مشاوره تخصصی ثبت نام مدارس ، برنامه ریزی درسی و آمادگی
برای امتحانات مدارس

برای ورود به صفحه مشاوره مدارس کلیک کنید

برای ورود به صفحه نمونه سوالات امتحانی کلیک کنید

تماس با مشاور تحصیلی مدارس

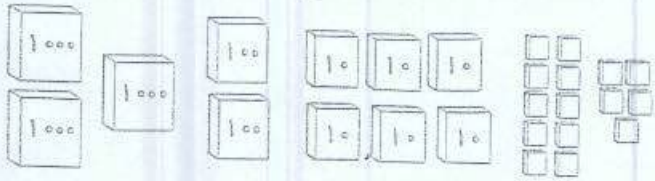
۹۰۹۹۰۷۱۷۸۹



تماس از تلفن ثابت

صفحات: تا پایان فصل ۳

۱ رضا عددی را در نظر گرفته و آن را با شکل نشان داده است. شما جدول را کامل کن و با عدد و حروف بنویس.



| یکان | دهگان | صدگان | هزارگان |
|------|-------|-------|---------|
| | | | |


با عدد: با حروف:



۲ با رقم‌های ۲، ۱، ۴ و ۷ بزرگ‌ترین و کوچک‌ترین عدد چهار رقمی را بنویس.

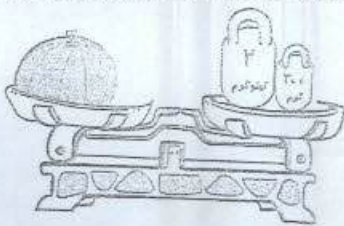


کوچک‌ترین:



بزرگ‌ترین:

۳ برای ساخت مکعب به مربع یک‌اندازه نیاز داریم.



۴ با توجه به شکل، معلوم کن جرم هندوانه چند گرم است؟

جرم هندوانه گرم است.

۹۱۲۴ متر می‌شود کیلومتر و متر.

۵ در جاهای خالی، عدد مناسب بنویس.

۷ کیلومتر و ۵۶ متر می‌شود متر.

۶ فاصله‌ی یک روستا تا شهر ۱۸ کیلومتر و فاصله‌ی آن شهر تا تبریز ۱۵۰ کیلومتر است. فاصله‌ی این

روستا تا تبریز چند کیلومتر است؟

۷ یک زمین کشاورزی مستطیل شکل را به ۸ قسمت مساوی تقسیم کرده‌اند. نصف آن را گندم و نیمه‌ی

دیگر آن را هم ۴ قسمت کردند و ۲ قسمت آن را ذرت کاشتند.


..... قسمت از قسمت مساوی را گندم کاشتند.

..... قسمت از قسمت مساوی را ذرت کاشتند.

..... قسمت از قسمت مساوی را زیر کشت نرفته است.

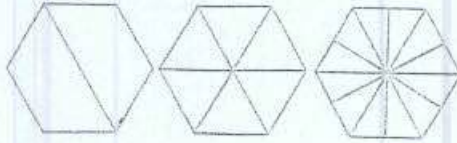



۱۳ کامل کن.



دو کیلوگرم و ۱۹۲ گرم یعنی دو کیلوگرم و از یک کیلوگرم.
۴۲۵۸ گرم یعنی کیلوگرم و از یک کیلوگرم.

۱۴ برای شکل زیر، سه کسر مساوی بنویس.



..... = =

۱۵ در جای خالی، علامت <=> قرار بده.



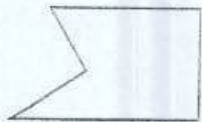
$$\frac{3}{6} \square \frac{1}{2}$$

$$\frac{4}{4} \square \frac{1}{4}$$

$$\frac{1}{5} \square \frac{3}{5}$$

۳ واحد و $\frac{1}{7}$ واحد \square ۲ واحد و $\frac{5}{7}$ واحد

۱۶ شکل مقابل چند زاویه دارد؟ زاویه های راست آن را مشخص کن.



۱۷ یک دایره با پرگار بکش که مرکز آن نقطه‌ی «م» باشد و از نقطه‌ی «ب» بگذرد. حالا کسر $\frac{5}{6}$ را روی آن نشان بده.

م ب



نیازمند تلاش بیشتر

قابل قبول

خوب

خیلی خوب

صفحات: تا پایان فصل ۳

۱ رضا عددی را در نظر گرفته و آن را با شکل نشان داده است. شما جدول را کامل کن و با عدد و حروف بنویس.

| یکان | دهگان | صدگان | هزارگان |
|------|-------|-------|---------|
| | | | |

با عدد: با حروف:



۲ با رقم‌های ۱، ۲، ۴ و ۷ بزرگ‌ترین و کوچک‌ترین عدد چهار رقمی را بنویس.

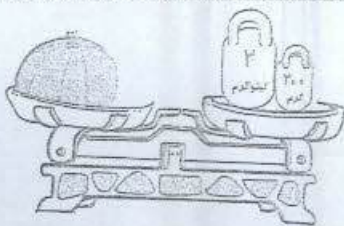


کوچک‌ترین:



بزرگ‌ترین:

۳ برای ساخت مکعب به مربع یک‌اندازه نیاز داریم.



۴ با توجه به شکل، معلوم کن جرم هندوانه چند گرم است؟

جرم هندوانه گرم است.

۵ در جاهای خالی، عدد مناسب بنویس.

۹۱۲۴ متر می‌شود کیلومتر و متر.

۷ کیلومتر و ۵۶ متر می‌شود متر.

۶ فاصله‌ی یک روستا تا شهر ۱۸ کیلومتر و فاصله‌ی آن شهر تا تبریز ۱۵۰ کیلومتر است. فاصله‌ی این

روستا تا تبریز چند کیلومتر است؟

۷ یک زمین کشاورزی مستطیل شکل را به ۸ قسمت مساوی تقسیم کرده‌اند. نصف آن را گندم و نیمه‌ی

دیگر آن را هم ۴ قسمت کردند و ۲ قسمت آن را ذرت کاشتند.

..... قسمت از قسمت مساوی را گندم کاشتند.

..... قسمت از قسمت مساوی را ذرت کاشتند.

..... قسمت از قسمت مساوی را زیر کشت نرفته است.

