



# مشاوره تحصیلی هیوا

تخصصی ترین سایت مشاوره کشور

مشاوره تخصصی ثبت نام مدارس ، برنامه ریزی درسی و آمادگی  
برای امتحانات مدارس

برای ورود به صفحه مشاوره مدارس کلیک کنید

برای ورود به صفحه نمونه سوالات امتحانی کلیک کنید

تماس با مشاور تحصیلی مدارس

۹۰۹۹۰۷۱۷۸۹



تماس از تلفن ثابت

نام و نام خانوادگی:

# هیوا تخصصی ترین سایت مشاوره کشور


به نام خدا

تاریخ:

پایه: اول

موضوع: علوم (هدف آزمون آب و منابع و موارد استفاده از آن بخش ششم)

در کدام تصویر استفاده درست از آب دیده می شود؟ علامت بزن.



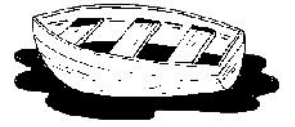
تاکنون آب را به چه شکل هایی دیده ای علامت بزن.



کدام یک از جانوران زیر در آب زندگی می کنند؟ رنگ کن.



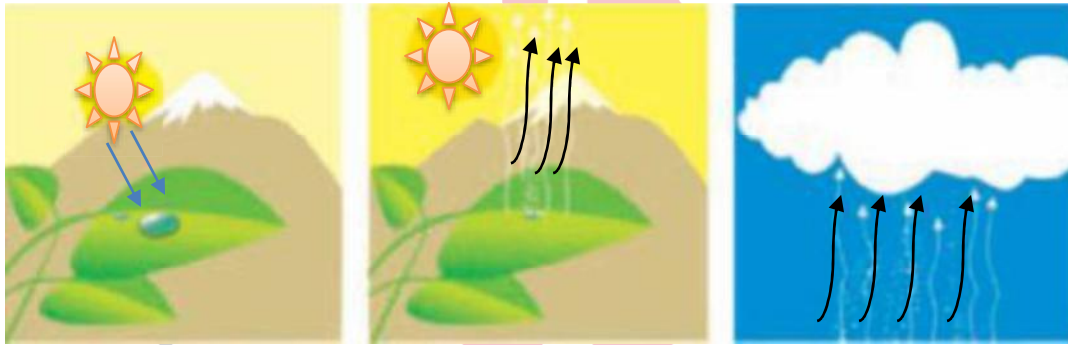
کدام یک از وسایل زیر برای حرکت نیاز بیشتری به آب دارند؟ پرنگ کن.  
**هیوا** تخصصی ترین سایت مشاوره کشور



انجام کدام کار باعث آلودگی آب می شود؟ دورش خط بکش.



مراحل تشکیل باران در شکل زیر را به ترتیب شماره گذاری کن.



سنجه ها

ردیف	انتظارات آموزشی	یادگیری کامل	یادگیری قابل قبول	نیاز به آموزش مجدد
۱	آب را به عنوان محل زندگی موجودات می شناسد؟			
۲	انواع آب برحسب حالت آن ها را می شناسد؟			
۳	موارد استفاده از آب را می شناسد؟			
۴	مراحل تشکیل ابر و باران را می شناسد؟			
۵	وسایل نقلیه ی حرکت کننده در آب را می شناسد؟			
۶	آسیب هایی که انسان به آب ها می رساند را می شناسد؟			

باز خورد توصیفی معلم:

خودسنجی

من از انجام این آزمون راضی بودم؟

