



# مشاوره تحصیلی هیوا

تخصصی ترین سایت مشاوره کشور

مشاوره تخصصی ثبت نام مدارس ، برنامه ریزی درسی و آمادگی  
برای امتحانات مدارس

برای ورود به صفحه مشاوره مدارس کلیک کنید

برای ورود به صفحه نمونه سوالات امتحانی کلیک کنید

تماس با مشاور تحصیلی مدارس

۹۰۹۹۰۷۱۷۸۹



تماس از تلفن ثابت

باسمه تعالی

نوبت امتحانی: اول  
تاریخ امتحان: / /  
نام درس: ریاضی  
ساعت شروع:  
مدت امتحان: ۹۰ دقیقه

نام: .....  
نام خانوادگی: .....  
نام پدر: .....  
پایه: سوم  
نام آموزشگاه:

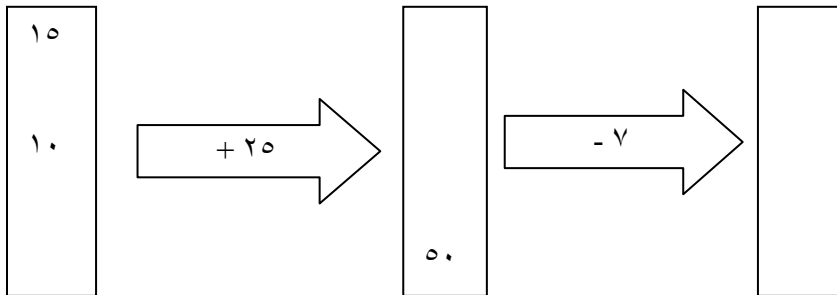
۱- واحد مناسب را بنویسید.

- جرم کتاب ریاضی من ۱۲۸.....است .
- جرم یک خربزه به طور تقریبی ۵ ..... است.
- جرم یک هندوانه ۷ ..... و ۳۴۰..... است.
- جرم یکی از دانش آموزان ۵۰ ..... است.

۲- با استفاده از ماشین حساب الگوی زیر را ادامه دهید و الگو را توضیح دهید.

..... - ..... - ..... - ..... - ..... - ۲۳ - ۱۲ - ۱

۳- جاهای خالی را کامل کنید.



۴- طول خط های زیر را اندازه گرفته و با واحد سانتی متر بنویسید.



۵- جدول زیر را کامل کنید.

زمان	۱۶			۱۷		
بعد از ظهر		۸	۳:۳۰		۶	نه و نیم

۶- عدد ۶۷۳۱ یعنی ..... صدتایی و ..... هزار تایی و ..... یکی و ..... ده تایی.  
عدد ..... یعنی ۶ هزار تایی و ۳ ده تایی.

۷- جمع و تفریق های زیر به واحد پول ریال هستند ان ها را به تومان تبدیل کنید.

$$۸۰ + ۵۰ = ۱۳۰$$

$$۵۲۴۰ + ۲۳۷۰ = ۷۶۱۰$$

$$۷۶۰۰ - ۲۶۰۰ = ۵۰۰۰$$

$$۴۷۰ - ۱۷۰ = ۳۰۰$$

۸- باز شده ی هر عدد را بنویسید.


$$۸۹۲۰ =$$

$$۷۰۶۳ =$$



$$۸۲۰۵ =$$

۹- با توجه به محور عدد های داده شده را به صورت تقریبی نشان دهید.

$$۹۲۰ - ۲۲۵۰ - ۴۷۸۱ - ۸۰۹۹ - ۹۹۹۹$$



۱۰- عدد های داده شده را روی محور نشان دهید.



۱۱- یک مستطیل رسم کنید و زاویه های آن را مشخص کنید؛ زاویه های آن چه نوع زاویه ای هستند؟

۱۲- به وسیله ی پرگار دایره ای به شعاع ۲ سانتی متر رسم کنید و ان را رنگ کنید.

۱۳- تمام سه رقمی را که رقم یکان آن ها ، ۰ ، ۶ و ۴ و رقم دهگان آن ها ۷ و رقم صدگان آن ها ۳ یا ۸ باشد؛ بنویسید.

۱۴- محمد و علی از مغازه دو کیک به مقدار مساوی خریدند. محمد یک کیک و علی یک کیک خود را خوردند. با رسم شکل نشان دهید کدام یک از این دو نفر کیک بیشتری خورده است؟

۱۵- یک ریال ایران به اندازه ی ۱۰۰۰ لیره ی کشور قندستان می ارزد ۱۵ تومان ایران با ارزش تر است یا ۳۰۰۰ لیره ی قندستان؟ چرا؟

۱۶- ۵ دانش آموز هر کدام ۲ جعبه ی مداد رنگی دارند. یک جعبه ی ۶ تایی و یک جعبه ی ۱۲ تایی ، در هر جعبه ی ۶ تایی یک رنگ زرد و در جعبه ی ۱۲ تایی ۲ رنگ زرد وجود دارد. این ۵ دانش آموز روی هم چند مداد زرد دارند؟ جعبه های مداد رنگی هر دانش آموز را نقاشی کن و به وسیله ی نقاشی جواب را پیدا کن.

موفق باشید.