



مشاوره تحصیلی هیوا

تخصصی ترین سایت مشاوره کشور

مشاوره تخصصی ثبت نام مدارس ، برنامه ریزی درسی و آمادگی
برای امتحانات مدارس

برای ورود به صفحه مشاوره مدارس کلیک کنید


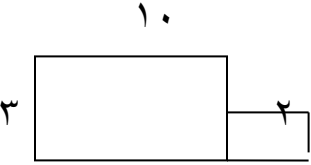
برای ورود به صفحه نمونه سوالات امتحانی کلیک کنید



تماس با مشاور تحصیلی مدارس

۹۰۹۹۰۷۱۷۸۹



تماس از تلفن ثابت

<p style="text-align: center;">بسمه تعالی آزمون ریاضی پایه سوم ابتدایی نام و نام خانوادگی:..... تاریخ:</p>	
۱	<p>در جای خالی عدد مناسب بنویس .</p> $۳۰ \times \quad = ۲۷۰۰$ $۶ \times ۱۴ = (۶ \times ۱۰) + (۶ \times \quad)$
۲	<p>ربع شکل را رنگ بزن.</p> <div style="display: flex; align-items: center;">  <div style="margin-left: 20px;"> <p>چه کسری رنگی است؟.....</p> <p>چه کسری رنگی نیست؟.....</p> </div> </div>
۳	<p>هواپیمایی در یک دقیقه ۹ کیلومتر راه را طی می کند، در یک ساعت چند کیلومتر راه را طی می کند؟</p>
۴	<p>مساحت شکل را به دست آور.</p> <div style="display: flex; align-items: center;">  </div>
۵	<p>اندازه ی عرض مستطیلی ۱۶ سانتی متر و طول آن ۳ برابر عرض است. الف) طول مستطیل چند سانتی متر است؟..... ب) مساحت مستطیل چند سانتی متر مربع است؟.....</p>
۶	<p>اگر قیمت ۷ خودکار ۴۲ تومان باشد، قیمت ۵۲۰ خودکار چند تومان می شود؟</p>
۷	<p>۱۳ یکی ، ۶ ده تایی ، ۲۴ صدتایی و ۴ هزار تایی می شود..... به حروف.....</p>
۸	<p>کیانا از گل فروشی ۵۷ شاخه گل خرید و آن ها را به طور مساوی داخل ۹ گلدان گذاشت. داخل هر گلدان چند شاخه گل گذاشته است؟ چند شاخه گل باقی مانده است؟</p>

<p>روشنک ۳۶ عدد مهره ی رنگی دارد. ربع آن ها را به دوستش سارا داد . چند مهره به سارا داده است و چند مهره برای خودش باقی مانده است؟</p>	<p>۹</p>
<p>مساحت قسمت رنگ شده را به دست آورید.</p> 	<p>۱۰</p>
<p>محیط مثلث متساوی الساقین رابه دست آورید که اندازه هر ساق آن ۲۳ سانتی متر باشد و ضلع سوم آن ۱۰ سانتی متر باشد؟</p>	<p>۱۱</p>
<p>کتابخانه ی دبستان امیرکبیر ۸ طبقه دارد در هر طبقه ۲ ردیف و در هر ردیف ۱۰ جلد کتاب گذاشته اند. در این کتابخانه چند جلد کتاب است؟</p>	<p>۱۲</p>
<p>می خواهیم با سیمی به طول ۳۱ سانتی متر یک مربع بسازیم با چند سانتی متر آن می شود مربع ساخت و چند سانتی متر را باید برید؟</p>	<p>۱۳</p>
<p>نام شکل های زیر را بنویسید.</p> 	<p>۱۴</p>