



مشاوره تحصیلی هیوا

تخصصی ترین سایت مشاوره کشور

مشاوره تخصصی ثبت نام مدارس ، برنامه ریزی درسی و آمادگی
برای امتحانات مدارس

برای ورود به صفحه مشاوره مدارس کلیک کنید

برای ورود به صفحه نمونه سوالات امتحانی کلیک کنید

تماس با مشاور تحصیلی مدارس

۹۰۹۹۰۷۱۷۸۹



تماس از تلفن ثابت

امتحان درس ریاضی پایه اول

بسمه تعالی

نام و نام خانوادگی : کلاس :

۱ عدد هایی را که به حروف نوشته شده اند را به عدد بنویس ؟

پنجاه و هفت : () چهار و سه : () هفتاد و نه : () نود و هشت ()

۲ جا های خالی را با عدد مناسب کامل کن ؟

$5 + 5 + 5 + 5 =$

$20 + 20 + 10 + 5 =$

$10 + 5 + 3 =$

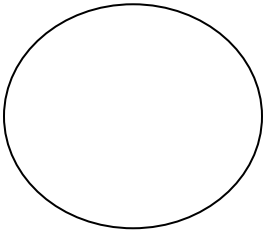
$20 - 10 + 5 - 3 =$

۳ جواب جمع و تفریق را بنویس ، مقایسه کن و علامت های مناسب را انتخاب کن ؟

$20 + 30 = \square$ $60 - 10 = \square$
 $10 + 8 = \square$ $10 + 7 = \square$

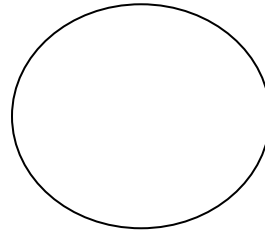
$< = >$ $< = >$

۴ زمانی که ساعت نشان می دهد را بنویس ؟



زمان بین

ساعت و است



زمان بین

ساعت و است

۵ از ۹۰ تا ۱۰۰ یکی یکی بنویس ؟

۶ عدد دسته را بشمار و عدد مربوط به آن را بنویس پس از آن جدول را کامل کن ؟

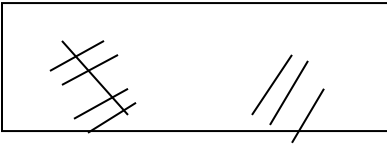
<input type="checkbox"/>	<input type="checkbox"/>	<input type="checkbox"/>	<input type="checkbox"/>
<input type="checkbox"/>	<input type="checkbox"/>	<input type="checkbox"/>	<input type="checkbox"/>
<input type="checkbox"/>	<input type="checkbox"/>	<input type="checkbox"/>	<input type="checkbox"/>
<input type="checkbox"/>	<input type="checkbox"/>	<input type="checkbox"/>	<input type="checkbox"/>
<input type="checkbox"/>	<input type="checkbox"/>	<input type="checkbox"/>	<input type="checkbox"/>
<input type="checkbox"/>	<input type="checkbox"/>	<input type="checkbox"/>	<input type="checkbox"/>

	ده تایی
	یکی

۷ برای مسئله یک شکل ساده بکش و جواب را پیدا کن و روی محور نشان بده .
 علی ۹ بادکنک داشت ، ۵ تا از بادکنک ها به هوا رفت . چند بادکنک مانده است .

حاصل جمع ها را با چوب خط پیدا کن و عبارات جمع را بنویس؟

۸



$$\dots\dots\dots + \dots\dots\dots = \dots\dots\dots$$