



مشاوره تحصیلی هیوا

تخصصی ترین سایت مشاوره کشور

مشاوره تخصصی ثبت نام مدارس ، برنامه ریزی درسی و آمادگی
برای امتحانات مدارس

برای ورود به صفحه مشاوره مدارس کلیک کنید

برای ورود به صفحه نمونه سوالات امتحانی کلیک کنید

تماس با مشاور تحصیلی مدارس

۹۰۹۹۰۷۱۷۸۹



تماس از تلفن ثابت

به نام خدا

آزمون مداد کاغذی ریاضی

سال تحصیلی ۹۳-۹۲

کلاس سوم ابتدایی

نام و نام خانوادگی:

۱. یک مغازه دار کتابی را ۳۵۰ تومان می خرد و ۴۰۰ تومان می فروشد. پس از پر کردن جدول زیر به سوال ها پاسخ دهید:

کتاب	۱						
سود							

- اگر ۳ کتاب بفروشد، چند تومان سود می کند؟
- چند کتاب بفروشد تا ۲۰۰ تومان سود کند؟
- چند کتاب بفروشد تا با آن، یک کتاب بخرد؟

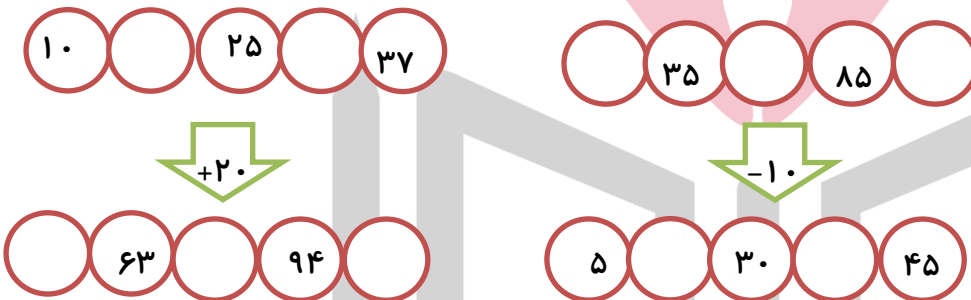
۲. الگو های زیر را ادامه دهید.

۳-۶-۹-۱۲-.....-.....-.....-.....

۱-۴-۹-۱۶-.....-.....-.....-.....

۴۵-۵۰-۵۵-.....-.....-.....-.....

۳. جا های خالی را کامل کنید.



روز	۱						
دقیقه	۱۰						

۴. محمد کلاس سوم است. روز اول او ۱۰ دقیقه مطالعه می کند. اگر او هر روز ۵ دقیقه بیشتر مطالعه کند، پس از چند روز می تواند ۴۵ دقیقه مطالعه کند.

۵. جمع های زیر را به صورت ذهنی انجام دهید.

$$۳+۵+۷+۴+۱ =$$

$$۴+۶+۳+۵ =$$

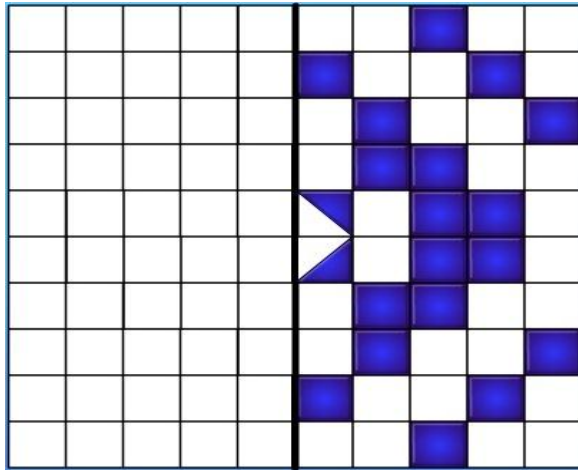
$$۲+۷+۴+۳ =$$

$$۸+۳+۵+۲+۷ =$$

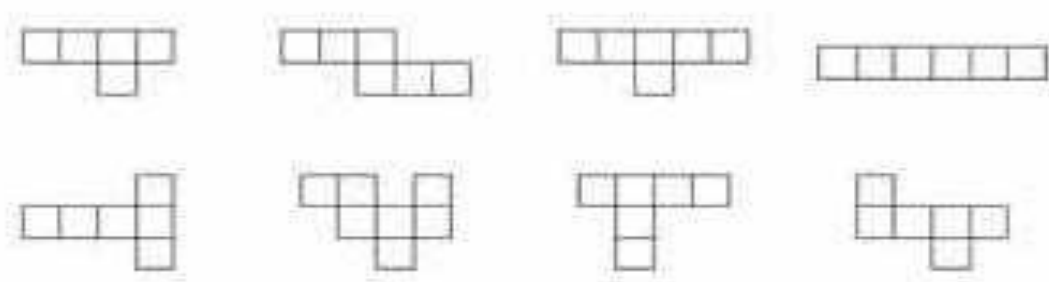
۶. جدول زیر را کامل کنید.

زمان	۱۶	www.Heyvagroup.com	۱۷:۱۵	۲۲ و ربع
بعد از ظهر		۲:۲۵		۶:۳۰

۷. الگوی های متقارن را کامل کنید.
هیوا تذ



۸. کدام یک از شکل های زیر، باز شده ی یک مکعب است؟ رنگ بزن






۹. امروز پنجشنبه دوم آبان ماه است.

تا آخر این ماه پنجشنبه ها چه روز هایی
از ماه هستند؟



۱۰. به کمک الگوهای شمارش چند تا چند تا، شکل های زیر را دسته بندی کنید و برای هر کدام یک عبارت جمع بنویسید.



.....

.....

.....

ارزیابی معلم:

