



مشاوره تحصیلی هیوا

تخصصی ترین سایت مشاوره کشور

مشاوره تخصصی ثبت نام مدارس ، برنامه ریزی درسی و آمادگی
برای امتحانات مدارس

برای ورود به صفحه مشاوره مدارس کلیک کنید

برای ورود به صفحه نمونه سوالات امتحانی کلیک کنید

تماس با مشاور تحصیلی مدارس

۹۰۹۹۰۷۱۷۸۹



تماس از تلفن ثابت

باسمه تعالی

نام آموزگار:

نام و نام خانوادگی:

پایه: اول

۱. از ۶۸ تا ۷۵ بنویس.

۲. الگو را ادامه بده.

۰ - ۵ - ۱۰ -

۱۲ - ۲۲ -

۳. عدد قبل و بعد را بنویس.

		۸۵		
--	--	----	--	--

		۳۰		
--	--	----	--	--

۴. با عدد و با حروف بنویس.

پانزده

۸۲

چهل و سه

۵۴

نود و شش

۲۷

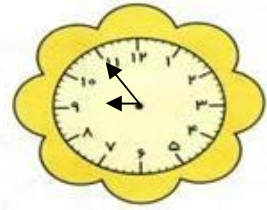
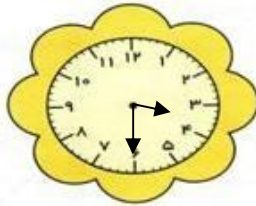
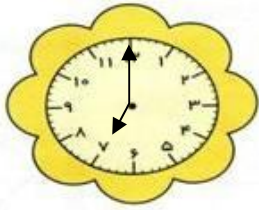
۵. برای عدد ۳۸ شکل بکش در جدول بنویس.

ده تایی	یکی

شکل حروف

۶. ۹ ده تایی و ۵ یکی می شود

۶۷ می شود ده تایی و یکی



ساعت

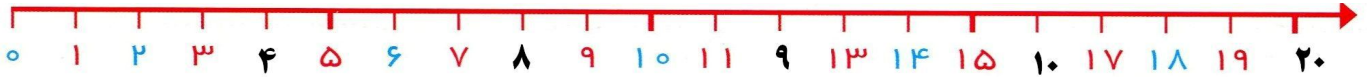
ساعت بین و است.

ساعت کمی مانده به


۸. علی ۴ بسته ده تایی و ۳ یکی مداد داشت پدرش ۳ بسته ده تایی دیگر مداد به او داد. حالا علی چند مداد دارد؟

۹. آذر ۲۷ مازیک داشت. ۷ مازیک را به ثریا داد. حالا چند مازیک دارد؟

۱۰. رضا ۱۴ شاخه گل داشت ۶ گل را به پدرش و ۶ گل را به مادرش داد. چند گل برایش مانده؟



۱۱. ۷ بچه در کلاس بودند. زنگ اول ۴ نفر و زنگ دوم ۵ نفر دیگر به کلاس آمدند. حالا چند بچه در کلاس است؟



۱۲. جمع و تفریق کنید.

$$۱۰ + ۲۰ + ۱۰ + ۹ =$$

$$۴۸ - ۸ =$$

$$۳۰ + ۲۰ + ۷ =$$

$$۳۰ - ۱۰ - ۵ =$$

۱۳. با دو رقم ۷ و ۵ عددهای دو رقمی بنویس.

۱۴. جدول را کامل کن.

۵	۹	۷	۴	۶	۸
۶		۸	۹	۵	
۷	۶			۴	۹
۴	۸			۷	۶
	۷	۴	۶		۵
۸	۵		۷	۹	

۱۵. علامت مناسب > = < بنویس.

$$۷۳ \square ۳۷$$

$$۴۰ - ۲۰ \square ۳۰ + ۱۰$$

۱۶. یک مثلث بکش و داخل آن یک مربع بکش.