


کد کنترل

316

C



316C

آزمون ورودی دوره‌های کارشناسی ارشد ناپیوسته - سال ۱۴۰۴

صبح پنج‌شنبه

۱۴۰۳/۱۲/۰۲



جمهوری اسلامی ایران
وزارت علوم، تحقیقات و فناوری
سازمان سنجش آموزش کشور

«علم و تحقیق، کلید پیشرفت کشور است.»
مقام معظم رهبری

باستان‌شناسی (کد ۱۱۳۲)

مدت زمان پاسخگویی: ۱۲۰ دقیقه

تعداد سؤال: ۱۲۵ سؤال

عنوان مواد امتحانی، تعداد و شماره سؤال‌ها

ردیف	مواد امتحانی	تعداد سؤال	از شماره	تا شماره
۱	زبان عمومی و تخصصی (انگلیسی)	۲۵	۱	۲۵
۲	ماد و هخامنشی	۲۰	۲۶	۴۵
۳	پارت و ساسانی	۲۰	۴۶	۶۵
۴	دوره اسلامی	۲۰	۶۶	۸۵
۵	ماقبل تاریخ ایران	۲۰	۸۶	۱۰۵
۶	ماقبل تاریخ بین‌النهرین	۲۰	۱۰۶	۱۲۵

این آزمون نمره منفی دارد.

استفاده از ماشین حساب مجاز نیست.

حق چاپ، تکثیر و انتشار سؤالات به هر روش (الکترونیکی و...) پس از برگزاری آزمون، برای تملک اشخاص حقیقی و حقوقی تنها با مجوز این سازمان مجاز می‌باشد و با متخلفین برابر مقررات رفتار می‌شود.

* داوطلب گرامی، عدم درج مشخصات و امضا در مندرجات کادر زیر، به منزله عدم حضور شما در جلسه آزمون است.

اینجانب با شماره داوطلبی با آگاهی کامل، یکسان بودن شماره صندلی خود با شماره داوطلبی مندرج در بالای کارت ورود به جلسه، بالای پاسخنامه و دفترچه سؤالات، نوع و کد کنترل درج شده بر روی جلد دفترچه سؤالات و پایین پاسخنامه‌ام را تأیید می‌نمایم.

امضا:

زبان عمومی و تخصصی (انگلیسی):

PART A: Vocabulary

Directions: Choose the word or phrase (1), (2), (3), or (4) that best completes each sentence. Then mark the answer on your answer sheet.

- 1- One theory holds that humans became highly because evolution selected those of our forefathers who were especially good at solving problems.
1) successive 2) concerned 3) passionate 4) intelligent
- 2- Is it true that the greenhouse, the feared heating of the earth's atmosphere by burning coal and oil, is just another false alarm?
1) effect 2) energy 3) force 4) warmth
- 3- In most people, the charitable and motives operate in some reasonable kind of balance.
1) obvious 2) high 3) selfish 4) prime
- 4- Whatever the immediate of the Nigerian-led intervention, West African diplomats said the long-term impact of recent events in Sierra Leone would be disastrous.
1) reciprocity 2) outcome 3) reversal 4) meditation
- 5- The last thing I would wish to do is to a sense of ill will, deception or animosity in an otherwise idyllic environment.
1) postpone 2) accuse 3) foster 4) divest
- 6- While the movie offers unsurpassed action, script makes this the least of the three "Die Hards."
1) an auspicious 2) a stirring 3) an edifying 4) a feeble
- 7- Relations between Communist China and the Soviet Union have unfortunately begun to again after a period of relative restraint in their ideological quarrel. We can only hope that common sense prevails again.
1) ameliorate 2) deteriorate 3) solemnize 4) petrify

PART B: Cloze Test

Directions: Read the following passage and decide which choice (1), (2), (3), or (4) best fits each space. Then mark the correct choice on your answer sheet.

Before the 1970s, the Olympic Games were officially limited to competitors with amateur status, but in the 1980s, many events(8) to professional athletes. Currently, the Games are open to all, even the top professional athletes in basketball and football. The ancient Olympic Games included several of the sports(9) of the Summer Games program, which at times has included events in as many as 32

different sports. In 1924, the Winter Games were sanctioned for winter sports.(10) regarded as the world's foremost sports competition.

- 8- 1) to be opened 2) that were opening
3) were opened 4) opening
- 9- 1) that are now part 2) which now being part
3) now are parts 4) had now been parts
- 10- 1) The Olympic Games came to have been
2) The Olympic Games have come to be
3) The fact is the Olympic Games to be
4) That the Olympic Games have been

PART C: Reading Comprehension

Directions: Read the following three passages and answer the questions by choosing the best choice (1), (2), (3), or (4). Then mark the correct choice on your answer sheet.

PASSAGE 1:

Archaeologists define prehistory as that portion of the human past that starts around 3.3 million years ago, with the appearance of the first human stone-tool technology (the Lomekwi 3 culture from Lake Turkana in Kenya), and finishes with the creation of written documents and archives (or history). History consists of the study of human experience through written documents and has a very much shorter time span. Thus, the world's oldest written records come from Western Asia and date to before 5,000 years ago.

A century ago, most archaeologists worked in Europe and Western Asia. They thought of human prehistory in very provincial terms and were convinced that all significant developments, such as agriculture and civilization itself, had originated in the area between Mesopotamia and the Nile. Today, archaeologists are at work all over the globe—in Africa, Alaska, and Australia. Thanks to universal dating methods such as radiocarbon dating, we can date and compare prehistoric developments in widely separated parts of the world. We know, for example, that agriculture began in Syria in about 10,000 BC and in central Africa about 2,000 years ago. We can date the start of the modern human colonization of Europe to around 45,000, and that of North America to about 15,000 years before the present. This is the study of world prehistory, the prehistory of humankind evaluated not just from the perspective of a single region such as Western Asia, but from a global viewpoint.

- 11- The underlined word “date” in paragraph 2 is closest in meaning to
- 1) regularly spend time with someone
2) write the days' time on a letter or a cheque
3) say when something old existed or was made
4) eat the sweet, fleshy, brown fruit of the date palm

- 12- The underlined phrase “that of” in paragraph 2 can best be replaced with
- 1) prehistoric developments in widely separated parts of
 - 2) start of the modern human colonization of
 - 3) beginning of agriculture in Syria
 - 4) the study of world prehistory
- 13- According to paragraph 1, all of the following are true about prehistory EXCEPT that
- 1) the oldest records of prehistory come from Western Asia
 - 2) it deals with the human history that can date back to 3.3 million years ago
 - 3) the Lomekwi 3 culture from Lake Turkana in Kenya belongs to prehistory
 - 4) creation of written documents and archives marks the ending of prehistory
- 14- According to paragraph 2, how did the archeologists think about human prehistory one hundred years ago?
- 1) They believed that agriculture first appeared in Syria and then in central Africa.
 - 2) They used radiocarbon dating methods in Africa, Alaska, and Australia.
 - 3) They regarded the area between Mesopotamia and the Nile as the birthplace of civilization.
 - 4) They avoided provincial, regional perspectives and evaluated the prehistory of humankind from a global viewpoint.
- 15- The passage provides sufficient information to answer which of the following questions?
- I. How did the early humankind master the first human stone-tool technology?**
- II. Who were the biggest colonizers during European colonization?**
- III. In which regions did the archeologists work in the past to investigate prehistory?**
- 1) Only I
 - 2) Only II
 - 3) Only III
 - 4) I and III

PASSAGE 2

The twentieth century saw archaeologists develop, or make use of, an impressive array of often highly specialized methods for reconstructing the past, often drawing on other disciplines. These included aerial photography and other remote sensing techniques, including satellite imagery; Laser Altimetry (LIDAR); pollen analysis; radiocarbon dating; trace element analysis for artifact sourcing; and flotation—to mention only a few. The new millennium will witness equally spectacular advances in high-technology archaeology, many of them developing in the crucible of CRM, where the use of such approaches is both commonplace and economic.

It is difficult to predict long-term trends in archaeological method, for the advances are cumulative rather than dramatic. Without question, however, the greatest changes will come in the ways in which archaeologists investigate sites without resorting to destructive excavation. Quantum jumps in the efficiency and accuracy of subsurface radar and other sensing devices may well make much excavation unnecessary, especially on large sites like cities and towns, where remote sensing will allow the reconstruction of street plans and even individual structures with much greater definition than we can imagine today. Such research combined with Geographic Information Systems (GIS) approaches and new survey methods will revolutionize the study of settlement patterns and ancient landscapes.

For all the major scientific developments that lie ahead, the basic processes of archaeological method will always remain the same, including establishing context in time and space, precise recording, and full publication of the results.

- 16- The underlined word “spectacular” in paragraph 1 is closest in meaning to
 1) great 2) recent 3) damaging 4) unnecessary
- 17- All of the following are mentioned in paragraph 1 among the methods used in the twentieth century by the archeologists EXCEPT
 1) aerial photography 2) radiocarbon dating
 3) satellite imagery 4) subsurface radar
- 18- According to the passage, which of the following is NOT stated as a consequence of major advances in remote sensing or GIS?
 1) Reconstruction of street plans
 2) Full publication of archaeological results
 3) High definition of reconstructed structures
 4) Revolution in exploration of ancient landscapes
- 19- According to the passage, which of the following is true about archaeologists’ methods for reconstructing the past?
 1) All their methods were just taken from the discipline of archaeology.
 2) Destructive excavation of the large sites will reduce due to the future advances.
 3) It is hard to expect any new development in high-technology archaeology in the new millennium.
 4) The basic processes of archaeological method will completely change for all the major scientific developments.
- 20- Which of the following topics does the passage mainly discuss?
 1) The role of subsurface radars in archaeology
 2) The future of archeological methods in light of the past
 3) The future of archeology compared to competing disciplines
 4) The role LIDAR has played in archeological explorations

PASSAGE 3

With the onset of the Napoleonic Wars, Egypt’s strategic importance increased rapidly. The Nile Valley and the Red Sea lay across a major route to India, Britain’s most prized possession. In 1798, General Napoleon Bonaparte invaded Egypt. [1] Napoleon fancied himself a scientist, so he took with him a team of experts, who were charged with describing and mapping Egypt ancient and modern. His soldiers called them “Napoleon’s donkeys.” After the French defeated the Egyptian army at the Battle of the Pyramids, the scientists spread over the Nile Valley, sketching, mapping, and collecting. On occasion, they accompanied military expeditions and sketched under fire. [2] The scientists collected crate after crate of artifacts, mummies, and sculpture, and also Egypt’s most famous artifact—the Rosetta Stone.

In 1799, an artillery officer was supervising the construction of a fortification at the town of Rosetta (Rashid in the low-lying Delta, downstream of Cairo). [3] One of the stone slabs collected for a wall bore an inscription in Greek and Egyptian hieroglyphs. The army sent the stone to the French experts in Cairo. The scientists realized at once that the Rosetta Stone had the potential to unlock the secrets of ancient Egyptian

script. It is an interesting reflection on the warfare of the day that Napoleon immediately ordered that accurate plaster casts of the stone be made, to be sent to scientists all over Europe, including those in enemy nations.

Napoleon's expedition ended in failure in 1804. [4] By then, he had slipped out of the country, leaving his army and his scientists behind. The "donkeys" were given safe passage to France, with all their crates. Only the Rosetta Stone was handed over to the British, which is why it can be seen in the British Museum in London, and not in the Louvre in Paris. They claimed it knowing it was the most important find of all.

- 21- According to the passage, which of the following is true about the Rosetta Stone?**
- 1) It was Britain's most prized possession in India.
 - 2) As Egypt's most famous artifact, it is kept in Britain now.
 - 3) It was the only crate the French scientists could safely take back home.
 - 4) The heavy stone was sent to Rosetta town on Rashid's boats down the stream.
- 22- According to the passage, which of the following is NOT true about "Napoleon's donkeys"?**
- 1) They were responsible for describing and mapping ancient and modern Egypt.
 - 2) The French scientists went back home without problem after Napoleon left Egypt.
 - 3) Most of their sketches and maps of Egypt were destroyed due to a heavy military fire.
 - 4) The French experts instantly understood how valuable the hieroglyphs of Rosetta Stone could be.
- 23- Which of the following statements can best be inferred from the passage?**
- 1) Napoleon's experts were Egyptian and lived in Cairo.
 - 2) It was due to Napoleon's scientists that the soldiers could defeat the Egyptian army.
 - 3) Before 1799, the ancient Egyptian script was still a mystery for the scientists to be solved.
 - 4) The hieroglyphic inscriptions on the Rosetta Stone had been translated by the scientists of enemy nations long before 1799.
- 24- Which of the following techniques is mainly used in the passage?**
- 1) Narration
 - 2) Definition
 - 3) Classification
 - 4) Comparison and contrast
- 25- In which position, [1], [2], [3], or [4], can the following sentence best be inserted in the passage?**
- They were extremely excited with the exotic civilization that unfolded before them: the Pyramids of Giza, the temples of Luxor and Karnak with their columns covered with hieroglyphs, and the Valley of the Kings with its rock-cut royal tombs—all these monuments and many others were quite unlike the familiar architecture of Greece and Rome.**
- 1) [1] 2) [2] 3) [3] 4) [4]

ماد و هخامنشی:

۲۶- کدام یک، بر این عقیده بود که گنجینه نقره نوشیجان، مجموعه دارایی یک نقره‌کار بوده است؟

(۱) استروناخ (۲) پیتر وارگیس (۳) جان کرتیس (۴) دیوید بیوار

۲۷- کدام طبقه استقرار گودین، مربوط به دوره اصلی دژ مادی است؟

(۱) II:1 (۲) II:2 (۳) III:1 (۴) III:2

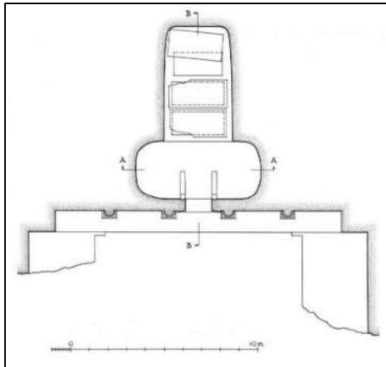
- ۲۸- کدام مورد، طبقه‌بندی سفال طبقه I باباجان تپه، توسط گوف است؟
 (۱) معمولی، ترد، متوسط و خشن
 (۲) معمولی، خاکستری، متوسط و خشن
 (۳) معمولی، خشن، متوسط، مرغوب و ترد
 (۴) معمولی، خشن، متوسط، مرغوب و غیرمعمول
- ۲۹- طاقچه با پوشش مثلثی محوطه گونسپان، مشابه طاقچه‌های کدام محوطه است؟
 (۱) باباجان - ازبکی (۲) گودین - نوشیجان (۳) گودین - باباجان (۴) نوشیجان - ازبکی
- ۳۰- سالنامه گد متعلق به کدام شاه است و به اعتقاد زاوادیکی هدف از نگارش آن چه بوده است؟
 (۱) آشوربانیپال - شرح لشکرکشی به ماد (۲) سارگن - یادبود پیروزی بر مادها
 (۳) نبوکد نصر - یادبود اتحاد بین ماد و بابل (۴) نبوپلسر - کم‌رنگ کردن نقش مادها در سقوط آشور
- ۳۱- در دژ مادی ازبکی، اولین بخش ساخته شده کدام است؟
 (۱) تالار شمالی (۲) تالار جنوبی (۳) حصار مدور دژ (۴) حصار مستطیل شکل دژ
- ۳۲- سامرز، محوطه کرکنس داغ را با کدام شهر مادی مطابقت داده است؟
 (۱) اوتیرنا (۲) اوریکی (۳) پتیریا (۴) نیپاریا
- ۳۳- در گوردخمه قیزقاپان، از شانه سنگ تراشی در کدام بخش استفاده شده است؟
 (۱) قاب درگاه (۲) فضای تدفینی
 (۳) ستون‌ها و سرستون‌ها (۴) قسمت‌های مختلف ایوان
- ۳۴- کمان‌های دو قوسی، متعلق به کدام قوم بوده است؟
 (۱) سکاها (۲) فراه‌داران (۳) گدروزیاها (۴) لیدی‌ها
- ۳۵- براساس تقسیم‌بندی لیورانی، تاریخ سیاسی ماد به چند دوره تقسیم می‌شود؟
 (۱) دو دوره (۲) سه دوره
 (۳) چهار دوره (۴) دو دوره اصلی و یک دوره فرعی
- ۳۶- دلیل احداث کدام مجموعه بناهای هخامنشی، احتمالاً نزدیکی آن به محل جنگ هخامنشیان با مادی‌ها بوده است؟
 (۱) پاسارگاد (۲) پارسه (۳) شوش (۴) هگمتانه
- ۳۷- برای اشاره به خنجر موجود در تصویر، از کدام اصطلاح استفاده می‌شود و این اصطلاح را کدام قوم یا ملت باستانی به کار برده است؟
 (۱) اکیناکس - یونانی‌ها
 (۲) کندیس - لیدیایی‌ها
 (۳) خنجر سکایی - مادها
 (۴) خنجر مادی - پارسی‌ها



۳۸- بقایای پایه ستون‌های کتیبه‌دار هخامنشی مکشوف از همدان، مربوط به کدام شاه هخامنشی است؟


- (۱) داریوش یکم (۲) اردشیر دوم
 (۳) اردشیر سوم (۴) کوروش دوم

- ۳۹- کدام باستان‌شناس، سرپرستی نخستین هیئت حفاری در محوطه دهانه غلامان را برعهده داشت؟
 (۱) امبرتو شراتو
 (۲) اریک اشمیت
 (۳) علی سامی
 (۴) سید منصور سیدسجادی
- ۴۰- تدفین تابوتی (تابوت برنزی) شوش، از کدام بخش این محوطه کشف شده و مربوط به کدام سده قبل از میلاد است؟
 (۱) اکروپل - اواخر ۵
 (۲) اکروپل - ۴
 (۳) کاخ شائور - ۵
 (۴) کاخ شائور - اواخر ۳
- ۴۱- «سارکوفازهای» قبور ایونیه چیست و اغلب آن‌ها متعلق به کدام مقطع زمانی قبل از میلاد هستند؟
 (۱) ظروف سنگی - ۳۳۱ تا ۵۵۰
 (۲) نوعی ابزار جنگی - ۴۵۰ تا ۳۵۰
 (۳) تابوت‌های سنگی آهنی - حدود ۵۵۰ تا ۴۷۰
 (۴) ظروفی با دسته‌هایی به شکل سر جانور - ۵۰۰ تا ۴۰۰
- ۴۲- نقشه زیر، آرامگاه کدام شاه هخامنشی را در نقش رستم نشان می‌دهد؟



- (۱) اردشیر یکم
 (۲) اردشیر دوم
 (۳) خشایارشا یکم
 (۴) داریوش سوم

- ۴۳- طرح زیر، اثر مکشوف از تل‌المسخوتا در مصر، مربوط به کدام شاه هخامنشی است؟



- (۱) داریوش یکم
 (۲) اردشیر دوم
 (۳) کمبوجیه دوم
 (۴) خشایارشا یکم

- ۴۴- تنها قطعات کشف شده قالی هخامنشی، از کدام منطقه به دست آمده است؟

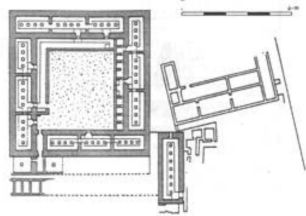
- (۱) آناتولی
 (۲) سیبری
 (۳) فلات ایران
 (۴) حاشیه جنوب خلیج فارس

- ۴۵- بنای خزانه تخت جمشید، توسط کدام شاه هخامنشی بنیان‌گذاری شده است؟

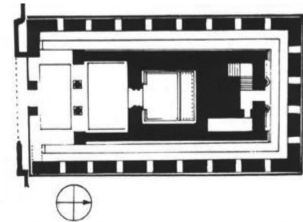
- (۱) اردشیر یکم
 (۲) اردشیر سوم
 (۳) خشایارشا یکم
 (۴) داریوش یکم

پارت و ساسانی:

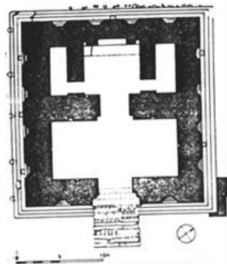
- ۴۶- گورهای چاهی از دوران پارتیان، از کدام محوطه گزارش شده است؟
 (۱) پالمیر (۲) شهر شاهی (۳) گرمی (۴) شهر صنعتگران
- ۴۷- خنیاگران عصر پارتی، به کدام نام مشهور بودند؟
 (۱) گوسان (۲) آشوت (۳) سورسخون (۴) آشیک
- ۴۸- کدام پلان، مربوط به معبد محوطه آی خانم است؟



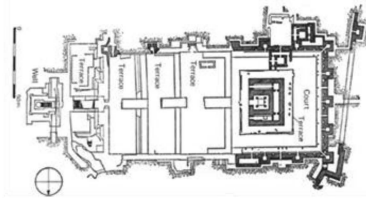
(۲)



(۱)



(۴)



(۳)

- ۴۹- قطعه سفال‌نوشته مکشوف از لایه V قلعه سام، به کدام خط است؟
 (۱) آرامی (۲) پارتی (۳) یونانی (۴) پارتی - یونانی
- ۵۰- به نظر اشمیت، تپه ناریشان در دوران پارتیان، کدام کاربری را داشته است؟
 (۱) تدفینی (۲) صنعتی (۳) مذهبی (۴) نظامی
- ۵۱- سرستون‌های محوطه خورعه، به کدام سبک است؟
 (۱) ایونیک (۲) دوریک (۳) کامپوزیت (۴) کورینتی
- ۵۲- تپه بولجیه در کجا واقع است و کدام نوع تدفین از آن کشف شده است؟
 (۱) سه کیلومتری جنوب شوش - خمره‌ای
 (۲) سه کیلومتری جنوب چغامیش - خمره‌ای
 (۳) سه کیلومتری جنوب شوش - با تابوت آنتروپوئید
 (۴) سه کیلومتری جنوب چغامیش - با تابوت آنتروپوئید
- ۵۳- در پرستشگاه کماژن، مجسمه کدام شاه در کنار مجسمه چهار خدا قرار دارد؟
 (۱) آنتیوخوس (۲) مهرداد اول (۳) کالینکوس (۴) مهرداد دوم
- ۵۴- مرو در عهد پارتیان، مرکز مهم کدام صنایع بوده است؟
 (۱) پارچه‌بافی - شیشه‌سازی (۲) پارچه‌بافی - سفالگری
 (۳) سفالگری - فلزکاری (۴) فلزکاری - شیشه‌سازی
- ۵۵- پارتیکا نوشته کدام مورخ عهد باستان و مربوط به کدام دوره است؟
 (۱) ژولتینوس - آغاز حکومت پارت (۲) تاسیدوس - اواخر حکومت پارت
 (۳) کاسیوس - اواخر حکومت پارت (۴) فلاویوس آریان - آغاز حکومت اشکانی

۵۶- کدام سکه، مربوط به بگدات از شاهان محلی پارس است؟



۵۷- آذرمهر اسبندان موبد بزرگ ساسانی، هم‌عصر با حکومت کدام شاه این سلسله بود؟

(۱) خسرو انوشیروان (۲) شاپور اول (۳) یزدگرد اول (۴) شاپور دوم

۵۸- نقاشی پادشاه و ملکه، در کدام قسمت از مجموعه کوه خواجه نقاشی شده است؟



(۱) دروازه جنوبی
(۲) دروازه شمالی
(۳) گالری منقوش
(۴) ورودی بنا

۵۹- غار کانهری در نزدیکی کدام شهر واقع شده است و چند سنگ‌نوشته به خط پهلوی دارد؟

(۱) بمبئی - ۵ (۲) چیلاس - ۳
(۳) چیلاس - ۵ (۴) بمبئی - ۳

۶۰- پیکره‌های گچ‌بری شاپور دوم، از کدام محوطه‌ها شناسایی شده است؟

(۱) کیش - بیشاپور (۲) کیش - حاجی‌آباد (۳) کیش - دامغان (۴) بیشاپور - حاجی‌آباد

۶۱- بندهش در کنار نام سه آتشکده آذرگشنسب، آذر فرنیغ و آذربرزین، از کدام آتش‌ها نام برده است؟

(۱) هرمز و بهرام (۲) ناهید و بهرام
(۳) در مهر و هرمز (۴) در مهر و دادگاه

۶۲- خندق شاپور به کدام نام مشهور است و توسط کدام شاه ساسانی کامل شد؟

(۱) دیوار فیروز شاپور - شاپور دوم (۲) دیوار اعراب - شاپور دوم
(۳) دیوار اعراب - خسرو اول (۴) دیوار فیروز شاپور - خسرو اول

۶۳- در کدام‌یک از سالنامه‌های شاهان آشوری، به اهالی پارتاکا اشاره شده است؟

(۱) اسرحدون (۲) تیگلات پیلسر سوم
(۳) سارگن دوم (۴) شلمانسر سوم

۶۴- به‌دست آمدن سفال با تزئین باربوتین در لایه ۳ شهر شاهی، بیانگر کدام موضوع است؟

(۱) ثروت شهر (۲) تجارت شهر
(۳) فقر شهر (۴) منطقه صنعتی

۶۵- کوره سفالگری، در کدام محوطه کشف شده است؟

- (۱) تل ملیان (۲) تل برگوتیات (۳) حاجی آباد (۴) قلعه دختر فیروزآباد

دوره اسلامی:

۶۶- تاریخ ساخت کدام بنا، به دو صورت قمری و یزدگردی (شمسی) آمده است؟

- (۱) میل رادکان غربی (۲) مسجد جامع نیریز
(۳) مسجد تاریخانه دامغان (۴) برج مقبره قابوس بن وشمگیر

۶۷- نقاشی سردر بازار قیصریه در ضلع شمالی میدان نقش جهان، مربوط به کدام دوره است و کدام صحنه را نشان می‌دهد؟

- (۱) افشاریه - نبرد نادر با هندیان در کرنال (۲) صفویه - پذیرایی شاه‌عباس دوم از سفیر هند
(۳) صفویه - پیروزی شاه‌عباس اول بر شیبانیان (۴) صفویه - پذیرایی شاه‌عباس اول از محمدخان ازبک

۶۸- مسجد جامع کدام شهر، فاقد گنبد است و به جای آن، یک ایوان عمیق از صحن تا محراب دارد؟

- (۱) ساوه (۲) گلپایگان (۳) نایین (۴) نیریز

۶۹- کدام کاخ، جزو کاخ‌های امویان نیست؟

- (۱) اخضر (۲) قصر عمره (۳) قصر الحیر غربی (۴) قصر الحیر شرقی

۷۰- مجموعه گنجعلیخان کرمان، متعلق به کدام دوره تاریخی ایران است و علاوه بر میدان مرکزی، حمام و کاروانسرا

دارای کدام بنای دیگر است؟

- (۱) قاجار - مسجد کوچک در شرق (۲) قاجار - آب‌انبار در مرکز میدان
(۳) صفوی - مسجد کوچک در شرق (۴) صفوی - آب‌انبار در مرکز میدان

۷۱- در کدام محل، بقایای یک قصر از دوره سامانی با گنبدخانه‌ای مزین با گچ‌بری کشف شده است؟

- (۱) بخارا (۲) لشکری بازار (۳) شهر کهن نیشابور
(۴) افراسیاب یا سمرقند قدیم

۷۲- کدام کاروانسرا، دارای پلان مدور است و بر سر کدام راه واقع شده است؟

- (۱) زین‌الدین - کاشان به یزد (۲) زین‌الدین - یزد به کرمان
(۳) خان‌خوره - کاشان به یزد (۴) خان‌خوره - اصفهان به شیراز

۷۳- ساخت «سرداب» به عنوان عنصری بدیع و جدید در معماری آرامگاه‌ها، از کدام دوره و منطقه آغاز شد؟

- (۱) ایلخانی - آذربایجان (۲) ایلخانی - خراسان
(۳) سلجوقی - آذربایجان (۴) سلجوقی - خراسان

۷۴- پس از سمرقند، کدام شهر و در عهد کدام سلطان، به عنوان پایتخت تیموریان برگزیده شد؟

- (۱) هرات - تیمور (۲) هرات - شاهرخ
(۳) بخارا - شاهرخ (۴) بخارا - تیمور

۷۵- کدام‌یک، از آثار شاخص عصر صفوی محسوب می‌شود؟

- (۱) پاتیل‌های مفرغی بزرگ و حجیم
(۲) دوات یا مرکب‌دان مفرغی با درپوش گنبدی‌شکل
(۳) کلاه‌خود شبیه به ناقوس با دو شکاف در جلوی چشم
(۴) شمعدان‌هایی با پایه‌های حجیم و بزرگ چندضلعی یا مدور و جاشمعی چندشاخه

۷۶- تکنیک «ترصیع در فلزکاری»، در کدام دوره تاریخ ایران دوره اسلامی و از کدام ناحیه آغاز شد؟

- (۱) ایلیخانی - عراق
(۲) ایلیخانی - آذربایجان
(۳) سلجوقی - خراسان
(۴) سلجوقی - عراق

۷۷- نخستین قلمی که از خط کوفی استخراج شد، کدام خط بود؟

- (۱) محقق (۲) ریحان (۳) نسخ (۴) ثلث

۷۸- سکه‌هایی با خطوط کوفی و هندی و تصاویر اسلامی و هندی، در عهد کدام فرمانروا ضرب شد؟

- (۱) سلطان محمود غزنوی (۲) سلطان مسعود غزنوی
(۳) هولاکوخان مغول (۴) نادرشاه افشار

۷۹- امضای معماران شیرازی و کاشی‌کاران تبریزی، به ترتیب، در کدام یک از این دوره تیمور گورکانی ثبت شده است؟

- (۱) آرامگاه شیخ احمد یسوی - گور امیر (۲) آرامگاه شیخ احمد یسوی - کاخ آق‌سرای
(۳) مسجد بی‌بی‌خانم - کاخ آق‌سرای (۴) مسجد بی‌بی‌خانم - گور امیر

۸۰- کدام شهر، از مراکز شناخته‌شده تولید گونه سفالی معروف به ساری بود؟

- (۱) بابل (۲) جرجان (۳) ساری (۴) نیشابور

۸۱- عبارت «الخلیفه موسی»، روی سکه‌های کدام خلیفه عباسی دیده می‌شود؟

- (۱) مأمون (۲) منصور (۳) هادی (۴) هارون‌الرشید

۸۲- نخستین کتیبه‌های کوفی جانورسان در هنر اسلامی، از کدام قرن هجری شناسایی شده است؟

- (۱) چهارم (۲) پنجم (۳) ششم (۴) هفتم

۸۳- سکه زیر، متعلق به کدام دوره است؟



- (۱) اموی

- (۲) مأمون عباسی

- (۳) عضالدوله دیلمی

- (۴) ولایت‌عهدی امام رضا(ع)

۸۴- تصویر زیر، از کدام کاخ به‌دست آمده و مربوط به کدام سده‌های هجری قمری است؟



- (۱) سبزویشان نیشابور - ۳ و ۴

- (۲) مسعود سوم در غزنه - ۴ و ۵

- (۳) محمود در لشکری بازار - ۴ و ۵

- (۴) آق‌سرا در شهر سبز - ۸ و ۹

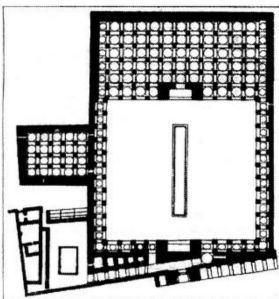
۸۵- پلان زیر، متعلق به کدام مسجد است؟

- (۱) جامع فردوس

- (۲) فریومد سبزواری

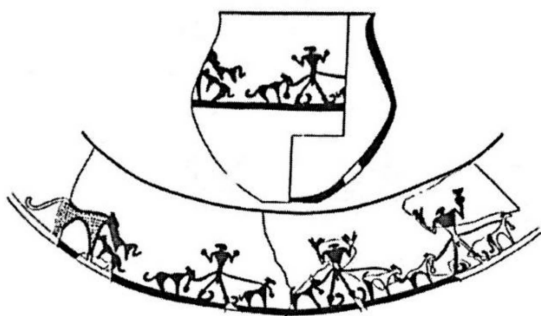
- (۳) وکیل شیراز

- (۴) گوهرشاد مشهد




ماقبل تاریخ ایران:

- ۸۶- از کدام محوطه دوران پارینه‌سنگی، دندان انسان یافت شده است؟
 (۱) غار خر (۲) غار بوف (۳) پناهگاه بابا یوان (۴) پناهگاه ورواسی
- ۸۷- کهن‌ترین سفال دوره نوسنگی در فلات مرکزی ایران، از کدام محوطه گزارش شده است؟
 (۱) تپه زاغه (۲) تپه پوکردوال (۳) تپه سیلک شمالی (۴) تپه شورابه
- ۸۸- سفال‌های معروف سوراخ‌دار یا آبکش که مشخصه فرهنگ «هاراپا» نیز محسوب می‌شوند، از کدام استقرارهای خراسان و شمال شرق ایران گزارش نشده است؟
 (۱) دامغانی (۲) تپه‌حصار
 (۳) شهرک فیروزه (۴) کلاته شوری (قاراجشمه)
- ۸۹- صفه مرتفع شوش، هم‌زمان با کدام لایه‌های شناسایی شده در آکروپل، ساخته شده است؟
 (۱) ۱۳ تا ۱۱ (۲) ۱۷ تا ۹ (۳) ۲۵ تا ۲۳ (۴) ۲۷ تا ۲۵
- ۹۰- در لایه‌نگاری صفه آکروپل، نخستین مجموعه از لوحه‌های آغاز ایلامی، از کدام دوره کشف شد؟
 (۱) I (۲) II (۳) III (۴) IV
- ۹۱- نشانه انجام جراحی بر روی جمجمه سر انسان در عصر مفرغ، از کدام محوطه باستانی ایران گزارش شده است؟
 (۱) سیلک (۲) شهر سوخته (۳) شهر یری (۴) گودین
- ۹۲- براساس مطالعات گرده‌شناسی بستر دریاچه زریوار، نخستین ظهور درختان بلوط و پسته وحشی در ارتفاعات زاگرس، در کدام هزاره قبل از میلاد پدیدار شد؟
 (۱) شش (۲) نه (۳) دوازده (۴) سیزده
- ۹۳- مجموعه اشیای مرمی یافت‌شده از تپه‌حصار، به کدام طبقه دوره تعلق دارند؟
 (۱) II-C (۲) II-B (۳) III-C (۴) III-A
- ۹۴- بازنگری تپه آسیاب طی سال‌های اخیر، توسط تیم‌های مشترک باستان‌شناسی کدام دانشگاه‌ها انجام شده است؟
 (۱) بوعلی و لندن (۲) تهران و ردینگ (۳) کاشان و مونیخ (۴) رازی و کپنهاگ
- ۹۵- مهم‌ترین ویژگی سفال‌های «استاندارد نوع زاغه» که آن را از انواع دیگر «سفال نوع زاغه» متفاوت می‌کند، عبارت است از تفاوت در پوشش سطح
 (۱) داخلی و داغدار کردن (۲) خارجی و داغدار کردن
 (۳) داخلی و استفاده از دست‌تر (۴) خارجی و غلطانیدن سطح خارجی در بستری از شن نرم
- ۹۶- سفال‌های هم‌افق آنو علاوه بر جنوب غرب ترکمنستان، در شمال شرق و شرق شمالی ایران در کدام محوطه‌ها، شناسایی شده است؟
 (۱) آق تپه - سنگ چخماق - شاه تپه (۲) آق تپه - سنگ چخماق - یاریم تپه
 (۳) تورنگ تپه - تپه قلعه‌خان - آق تپه (۴) تورنگ تپه - سنگ چخماق - آق تپه
- ۹۷- طرح سفال زیر، از کدام تپه به دست آمده و مربوط به کدام افق سفالی است؟
 (۱) قبرستان دشت قزوین - سیلک III6
 (۲) حصار - سیلک III5
 (۳) سیلک - چشمه‌علی
 (۴) چشمه‌علی - چشمه‌علی



- ۹۸- سینی‌های پوست‌کنی حاجی فیروز، نشان‌دهنده ارتباط با کدام محوطه‌هاست؟
 (۱) حسونا و ام‌الدباغیه
 (۲) حسونا و سراب
 (۳) تپه زاغه و سیلک
 (۴) سراب و ام‌الدباغیه
- ۹۹- تصویر زیر، مربوط به سفال‌های یافت‌شده از کدام محوطه است؟



- (۱) سیلک
 (۲) سنگ چخماق
 (۳) حصار
 (۴) چشمه‌علی

- ۱۰۰- در توالی دوره‌های فرهنگی «حوضه رودکر مرودشت»، مرحله بانس در کدام تسلسل درست است؟

- (۱) باکون - بانس - لپویی - کفتری
 (۲) باکون - لپویی - بانس - کفتری
 (۳) بانس - لپویی - کفتری - باکون
 (۴) بانس - باکون - کفتری - لپویی

- ۱۰۱- قدیم‌ترین شواهد دوران پارینه‌سنگی، از کاوش کدام محوطه به‌دست آمده است؟

- (۱) غار قلعه کرد
 (۲) غار قلعه بزی
 (۳) کشف‌رود
 (۴) لادیز

- ۱۰۲- نظریه دموند درباره دلیل افزایش جمعیت در توسعه تمدن کدام است؟

- (۱) نتیجه توسعه تکنیک‌های مربوط به معاش است.
 (۲) در پرتو بهبود شرایط اقلیمی و توسعه کشاورزی رخ داد.
 (۳) صرفاً در پی پیشرفت‌های پزشکی و بهداشتی رخ داده است.
 (۴) در نتیجه ایجاد استقرار بشر در مناطق حاصلخیز شکل گرفت.

- ۱۰۳- کدام مورد، به اهمیت محوطه نوسنگی توله‌ای اشاره دارد؟

- (۱) پیکرک‌های گلی T شکل
 (۲) بقایای معماری سنگچین
 (۳) سفال‌های منقوش و متنوع
 (۴) بقایای استقرار فصلی جوامع دامپرور


- ۱۰۴- اولین شواهد شروع روستانشینی، مربوطه به کدام محوطه‌ها است؟

- (۱) چغاگلان و گنج‌دره
 (۲) چغاگلان و شیخی‌آباد
 (۳) چغاگلان و علی‌کش
 (۴) شیخی‌آباد و گنج‌دره

- ۱۰۵- قدیم‌ترین شواهد اهلی‌سازی بز، از کدام محوطه به‌دست آمده و مربوط به کدام هزاره قبل از میلاد است؟

- (۱) آسیاب - دهم
 (۲) شیخی‌آباد - دهم
 (۳) گنج‌دره - اواخر نهم
 (۴) علی‌کش - هشتم

ماقبل تاریخ بین‌النهرین:



۱۰۶- تصویر سفال با نقش کنده هندسی زیر، از کدام محوطه یافت شده است؟

- (۱) جارمو
- (۲) حسونا
- (۳) حلف
- (۴) ام‌الدباغیه

۱۰۷- کدام مورد، در خصوص تل نمریک درست است؟

- (۱) خانه‌های مدور هزاره نهم ق. م
- (۲) خانه‌های مدور هزاره هشتم ق. م
- (۳) کلبه‌های راست‌گوشه حدود ۶۵۰۰ ق. م
- (۴) کلبه‌های راست‌گوشه حدود ۶۰۰۰ ق. م

۱۰۸- سنت ابزارسازی کباری - هندسی (Geometric-Kebaran) در منطقه لوانت (شامات)، به کدام دوره فرهنگی تعلق دارد؟

- (۱) فراپارینه‌سنگی
- (۲) پارینه‌سنگی میانه
- (۳) پارینه‌سنگی جدید
- (۴) پارینه‌سنگی قدیم

۱۰۹- تاریخ انقراض انسان نئاندرتال در غرب آسیا، به چند هزار سال قبل مربوط است؟

- (۱) سی
- (۲) چهل
- (۳) پنجاه
- (۴) شصت

۱۱۰- تاکنون، کهن‌ترین بقایای معماری مدور خشکه‌چین، از کدام محوطه در بین‌النهرین شناسایی شده است؟

- (۱) بابخال
- (۲) شنیدار
- (۳) زاوی شمی
- (۴) حاجیه

۱۱۱- در قرمزرده، حداقل چند مرحله از معماری نیمه‌زیرزمینی «کومه‌ای» شناسایی شده است؟

- (۱) سه
- (۲) شش
- (۳) نه
- (۴) دوازده

۱۱۲- حصار دفاعی ساخته‌شده بر دور محوطه استقرار «تل‌الصوان»، مربوط به کدام طبقه و دوره است؟

- (۱) III-A
- (۲) III-B
- (۳) IV-A
- (۴) IV-B

۱۱۳- مهم‌ترین منبع معاش ساکنان روستای ام‌الدباغیه، از دوره حسونا بر کدام مورد استوار بوده است؟

- (۱) شکار انواع گراز و بزسانان
- (۲) کشت و زرع گونه‌های گندم و جو اهلی
- (۳) شکار انواع اسب‌سانان و گاو وحشی
- (۴) گردآوری گونه‌های گندم، جو و میوه‌های وحشی

۱۱۴- تعریف فیتولیت گیاهی به‌مثابه یک داده مرتبط در بازشناسی منشأ کشت و زرع، کدام است؟

- (۱) نشانه‌هایی از رد و اثر گیاهان در نهشته‌های باستان‌شناسی است.
- (۲) رسوباتی که حین دروی غلات بر روی لبه تیغه‌های داس برجای می‌ماند.
- (۳) انگل‌های گیاهی که با شناورسازی بقایای کهن گیاهی استحصال می‌شوند.
- (۴) نوعی انتقال صفات ژنتیکی از گونه‌های گیاهان وحشی به اهلی و بالعکس است.

۱۱۵- در ارتباط با اهلی‌سازی در دوره نوسنگی آغازین، «منشأ مونوفیلیتیک» به کدام معنی است؟

- (۱) به کانون اهلی شدن هر گیاه و نقطه توزیع آن اطلاق می‌شود.
- (۲) به منشأ ژنتیکی گیاه و مبادله آن با ژن‌های گونه‌های مشابه اشاره دارد.
- (۳) به شباهت گونه‌های متجانس در یک محدوده مشخص زیستی اشاره دارد.
- (۴) به نقطه آغازین شکل‌گیری گیاهان قابل اهلی‌سازی در زیست‌بوم اطلاق می‌شود.

- ۱۱۶- واضع نظریه «غار تگران محصول» به‌مثابه الگویی برای اهلی‌سازی حیوانات توسط انسان، کیست؟
 (۱) آندره مور
 (۲) فریدریک زوئیر
 (۳) مایکل روزنبرگ
 (۴) دایانا کرک براید
- ۱۱۷- از دیدگاه «جویدیت برمن»، سبک واحد نقوش سفال‌های دوره عبید، ناشی از کدام وضعیت است؟
 (۱) وجود کارگاه‌های تخصصی ناشی از پیچیدگی‌های اجتماعی هزاره پنجم
 (۲) تسلط طبقه نخبگان بر ارکان اساسی فن تولید و توزیع کالاهای مصرفی
 (۳) یک باور ایدئولوژیکی و آیینی گسترده و عام در تمام مناطق تحت‌نفوذ فرهنگ عبید
 (۴) تولید انبوه سفال در مناطق هسته‌ای و سپس تجارت و توزیع آنها در کل منطقه تحت‌نفوذ
- ۱۱۸- کهن‌ترین زیست‌گاه شناخته‌شده انسان در بین‌النهرین، کدام است؟
 (۱) المصنعه
 (۲) بریالکا
 (۳) شنیدار
 (۴) پناهگاه صخره‌ای برک
- ۱۱۹- داس‌های سفالی، از داده‌های شاخص باستان‌شناسی کدام فرهنگ در بین‌النهرین محسوب می‌شود؟
 (۱) حسونا
 (۲) سامره
 (۳) حلف
 (۴) عبید
- ۱۲۰- پیکرک‌های گلی پخته به فرم سرهای مخروطی و چشمان اریبی، از مختصات کدام دوره فرهنگی بین‌النهرین محسوب می‌شود؟
 (۱) جارمو
 (۲) حسونا
 (۳) عبید
 (۴) حلف
- ۱۲۱- کدام مورد، با مهم‌ترین ویژگی‌های موردنظر گیلرموالغازه درباره دوره اورک مطابقت ندارد؟
 (۱) نگارش و کتابت
 (۲) پدیده نظام پادشاهی
 (۳) تولید تخصصی - صنعتی کالا در مقیاس انبوه
 (۴) عدم کنترل دولتی امور و نظارت بر طبقه کارگری
- ۱۲۲- تحقیقات کدام باستان‌شناس در بین‌النهرین، بر جنبه‌های مشترک پیدایش شهرها و توسعه شهرنشینی در چارچوب سازگاری با محیط زیست و بوم‌شناسی فرهنگی متمرکز بوده است؟
 (۱) هانس نیسن
 (۲) رابرت بریدوود
 (۳) رابرت آدامز
 (۴) سوزان پلاک
- ۱۲۳- رابرت بریدوود برای پاسخ به فرضیات آغاز کشاورزی و عصر نوسنگی، در کدام محوطه به کاوش پرداخت؟
 (۱) یاریم‌تپه
 (۲) تپه حسونا
 (۳) تل اریاچیه
 (۴) تپه جارمو
- ۱۲۴- عصر «مس سنگی»، با کدام دوران پیش از تاریخ بین‌النهرین، هم‌زمان است؟
 (۱) حلف و عبید
 (۲) حسونا و سامره
 (۳) حسونا و حلف
 (۴) عبید و جمدت‌نصر
- ۱۲۵- ویژگی اصلی هنر مهرسازی دوره عبید، ساخت کدام نوع از مهرهاست؟
 (۱) استوانه‌ای
 (۲) ترکیبی
 (۳) استامپی
 (۴) مشبک فلزی