



مشاوره تحصیلی هیوا

تخصصی ترین سایت مشاوره کشور

مشاوره تخصصی ثبت نام مدارس ، برنامه ریزی درسی و آمادگی
برای امتحانات مدارس

برای ورود به صفحه مشاوره مدارس کلیک کنید

برای ورود به صفحه نمونه سوالات امتحانی کلیک کنید

تماس با مشاور تحصیلی مدارس

۹۰۹۹۰۷۱۷۸۹



تماس از تلفن ثابت

بِسْمِ اللّٰهِ الرَّحْمٰنِ الرَّحِیْمِ

اللّٰهُمَّ صَلِّ عَلٰی مُحَمَّدٍ وَّآلِ مُحَمَّدٍ وَّعَجِّلْ فَرَجَهُمْ

زمین شناسی

رشته های علوم تجربی - ریاضی و فیزیک

پایه یازدهم

دوره دوم متوسطه



وزارت آموزش و پرورش سازمان پژوهش و برنامه‌ریزی آموزشی

زمین‌شناسی - پایه یازدهم دوره دوم متوسطه - ۱۱۱۲۳۷
سازمان پژوهش و برنامه‌ریزی آموزشی
دفتر تألیف کتاب‌های درسی عمومی و متوسطه نظری
محمدحسن بازوبندی، هاله تیمورزاده، فرزانه رجایی، مریم عابدینی و حمیدرضا ملک محمدی (اعضای شورای برنامه‌ریزی)

محمدحسن بازوبندی، بهروز صاحب‌زاده، مریم عابدینی، ناهید کرپاسیان، سروش مدبری، حمیدرضا ناصری و با همکاری احمد حسینی (اعضای گروه تألیف) - محمدحسن بازوبندی (ویراستار علمی) - علی‌اکبر میرجعفری (ویراستار ادبی)

اداره کل نظارت بر نشر و توزیع مواد آموزشی

احمدرضا امینی (مدیر امور فنی و چاپ) - جواد صفری (مدیر هنری، طراح گرافیک) - مریم وثوقی انباردان (صفحه‌آرا) - علیرضا امری کاظمی (عکاس) - الهام محبوب (رسام) - فاطمه باقری‌مهر، شاداب ارشادی، علیرضا ملکان، فاطمه پزشکی و ناهید خیام‌باشی (امور آماده‌سازی)

تهران: خیابان ایرانشهر شمالی - ساختمان شماره ۴ آموزش و پرورش (شهید موسوی)

تلفن: ۹-۸۸۸۳۱۱۶۱، دورنگار: ۹۲۶۶-۸۸۳۰، کد پستی: ۱۵۸۴۷۴۷۳۵۹

وبگاه: www.irtextbook.ir و www.chap.sch.ir

شرکت چاپ و نشر کتاب‌های درسی ایران تهران: ۱۷ جاده مخصوص کرج - خیابان ۶۱ (داروپخش) تلفن: ۵-۴۴۹۸۵۱۶۱، دورنگار: ۴۴۹۸۵۱۶۰، صندوق پستی: ۳۷۵۱۵-۱۳۹

شرکت چاپ و نشر کتاب‌های درسی ایران «سهامی خاص»

چاپ چهارم ۱۳۹۹

نام کتاب:

پدیدآورنده:

مدیریت برنامه‌ریزی درسی و تألیف:

شناسه افزوده برنامه‌ریزی و تألیف:

مدیریت آماده‌سازی هنری:

شناسه افزوده آماده‌سازی:

نشانی سازمان:


ناشر:

چاپخانه:

سال انتشار و نوبت چاپ:

شابک ۹۷۸-۹۶۴-۰۵-۲۸۰۵-۱

ISBN: 978.964.05.2805.1



جوان‌ها قدر جوانیشان را
بدانند و آن را در علم و
تقوی و سازندگی خودشان
صرف کنند که اشخاصی
امین و صالح بشوند.
مملکت ما با اشخاص امین
می‌تواند مستقل باشد.
امام خمینی «قَدِیسِ سِرِّه»

کلیه حقوق مادی و معنوی این کتاب متعلق به سازمان پژوهش و برنامه‌ریزی آموزشی وزارت آموزش و پرورش است و هرگونه استفاده از کتاب و اجزای آن به صورت چاپی و الکترونیکی و ارائه در پایگاه‌های مجازی، نمایش، اقتباس، تلخیص، تبدیل، ترجمه، عکس‌برداری، نقاشی، تهیه فیلم و تکثیر به هر شکل و نوع، بدون کسب مجوز از این سازمان ممنوع است و متخلفان تحت پیگرد قانونی قرار می‌گیرند.

محتوای این کتاب تا پایان سال تحصیلی ۱۴۰۲ - ۱۴۰۱ تغییر نخواهد کرد.

فهرست

۹	فصل اول: آفرینش کیهان و تکوین زمین
۱۰	■ آفرینش کیهان
۱۰	■ کهکشان راه شیری
۱۱	■ منظومه شمسی
۱۲	■ حرکات زمین
۱۴	■ تکوین زمین و آغاز زندگی در آن
۱۵	■ سن زمین
۱۷	■ زمان در زمین‌شناسی
۱۸	■ پیدایش اقیانوس‌ها
۲۳	فصل دوم: منابع معدنی و ذخایر انرژی، زیربنای تمدن و توسعه
۲۴	■ منابع معدنی در زندگی ما
۲۶	■ غلظت عناصر در پوسته زمین
۲۹	■ کانسنگ
۳۱	■ اکتشاف معدن
۳۱	■ استخراج معدن و فراوری ماده معدنی
۳۲	■ گوهرها، زیبایی شگفت‌انگیز دنیای کانی‌ها
۳۶	■ سوخت‌های فسیلی
۴۱	فصل سوم: منابع آب و خاک
۴۳	■ آب جاری
۴۴	■ آب زیرزمینی
۵۲	■ منابع خاک
۵۳	■ خاک و فرسایش
۵۹	فصل چهارم: زمین‌شناسی و سازه‌های مهندسی
۶۰	■ مکان‌یابی سازه‌ها
۶۰	■ تنش
۶۲	■ رفتار مواد در برابر تنش
۶۲	■ نفوذپذیری

۶۳	■ مکان مناسب برای ساخت سد
۶۵	■ مکان مناسب برای ساخت تونل و فضاهای زیرزمینی
۶۶	■ مکان مناسب برای ساخت سازه‌های دریایی
۶۷	■ پایداری سازه‌ها
۶۸	■ مصالح مورد نیاز برای احداث سازه‌ها
۶۹	■ رفتار خاک‌ها و سنگ‌ها در سازه‌ها
۷۰	■ کاربرد مصالح خاک و خرده سنگی در راه‌سازی
۷۳	فصل پنجم: زمین‌شناسی و سلامت
۷۴	■ زمین‌شناسی پزشکی
۷۵	■ پراکندگی و تمرکز عناصر
۷۹	■ منشأ بیماری‌های زمین‌زاد
۸۶	■ کاربرد کانی‌ها در داروسازی
۸۹	فصل ششم: پویایی زمین
۹۰	■ شکستگی‌ها
۹۲	■ زمین لرزه
۹۳	■ امواج لرزه‌ای
۹۵	■ مقیاس اندازه‌گیری زمین لرزه
۹۶	■ پیش‌بینی زمین لرزه
۹۷	■ ایمنی در برابر زمین لرزه
۹۸	■ چین خوردگی
۹۹	■ آتشفشان
۱۰۰	■ فواید آتشفشان‌ها
۱۰۳	فصل هفتم: زمین‌شناسی ایران
۱۰۴	■ تاریخچه زمین‌شناسی ایران
۱۰۶	■ نقشه‌های زمین‌شناسی
۱۰۷	■ پهنه‌های زمین‌شناسی ایران
۱۰۹	■ منابع معدنی ایران
۱۱۲	■ ذخایر نفت و گاز ایران
۱۱۴	■ گسل‌های اصلی ایران
۱۱۴	■ آتشفشان‌های ایران
۱۱۵	■ زمین‌گردشگری
۱۱۵	■ ژئوپارک
۱۱۹	فهرست منابع

پیشگفتار

در دهه‌های اخیر همگام با توسعه فناوری، فرایند آموزش، دچار تغییرات و تحولات فراوانی شده است. پیش از این بیشتر کتاب‌های درسی با رویکرد موضوعی و دانش محور به رشته تحریر در می‌آمد، اما امروزه رویکرد حاکم بر تألیف کتاب‌های درسی، رویکرد پیامد محور و مبتنی بر کاربردی بودن محتوای آنها است. از این رو مؤلفین این کتاب تلاش کرده‌اند که با نگاه تلفیقی از پرداختن به مطالب غیر کاربردی پرهیز کنند. آموزش زمین‌شناسی در این کتاب بیشتر با نگاه تصویر محور و با استفاده از فعالیت‌هایی با عناوین: فکر کنید، جمع‌آوری اطلاعات، با هم بیندیشید، بیشتر بدانید، یادآوری و... مطرح شده است.


از آنجایی که بسیاری از مطالب زمین‌شناسی مانند چرخه آب و سنگ، نظریه زمین ساخت ورقه‌ای، نجوم و ساختمان درونی زمین در دوره ابتدایی و متوسطه اول مطرح شده‌اند، از تکرار آنها پرهیز شده و با عنوان **فعالیت یادآوری** به آنها اشاره شده است. بنابراین از شما همکاران گرامی خواهشمند است قبل از تدریس این کتاب، مطالب زمین‌شناسی که دانش‌آموزان در کتاب‌های علوم تجربی پایه‌های تحصیلی قبلی خوانده‌اند را مورد مطالعه قرار دهید.

منظور از فعالیت یادآوری این است که دانش‌آموزان در سال‌های قبل با مفهوم مورد بحث آشنا شده‌اند، بنابراین مطالب با توجه به آموخته‌های قبلی آنها تدریس می‌شود.

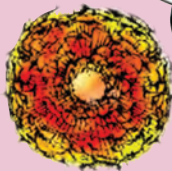
در فعالیت فکر کنید، دانش‌آموز با توجه به مطالب موجود در کتاب قادر به پاسخگویی آن می‌باشد. در فعالیت جمع‌آوری اطلاعات، دانش‌آموزان با مراجعه به منابع مختلف، مطالب بیشتری راجع به آن موضوع درسی جمع‌آوری کرده و به اشکال مختلف (گزارش، پوستر، روزنامه دیواری و پرده‌نگار) در کلاسی ارائه می‌دهند.

در فعالیت با هم بیندیشید، دانش‌آموزان به صورت فعال و مشارکتی با طرح پرسش‌هایی، هم‌افزایی کرده و پاسخ آن را می‌دهند.

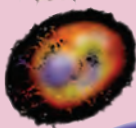
در بیشتر بدانید، دانش‌آموز به فعالیت‌های تکمیلی، جمع‌آوری اطلاعات و آشنایی با مفاخر علوم زمین در ایران و جهان می‌پردازد. این بخش‌ها در ارزشیابی دانش‌آموزان قرار نمی‌گیرند. حفظ اعداد نیز جزء اهداف آموزشی کتاب نیست.



رخداد مه بانگ



کهکشان راه شیری



تشکیل منظومه شمسی





فصل

آفرینش کیهان و تکوین زمین

«وَالسَّمَاءَ بَنَيْنَاهَا بِأَيْدٍ وَإِنَّا لَمُوسِعُونَ وَالْأَرْضَ فَرَشْنَاهَا فَنِعْمَ الْمَاهِدُونَ»
و آسمان را با قدرتی وصف‌ناپذیر بنا کردیم و آن را گسترش دادیم و زمین را
گسترانیدیم، پس چه نیکو گسترش دهنده‌ایم.

آیه‌های ۴۷ و ۴۸ سوره ذاریات

ذهن کنجکاو بشر، همواره به دنبال کشف اسرار شگفت‌انگیز جهان هستی است. مشاهده منظره زیبای آسمان شب یا رصد آن، توجه آدمی را به مطالعه و شناخت اجرام و پدیده‌های آسمانی جلب می‌کند. در کیهان، پدیده‌های متنوعی مانند کهکشان‌ها، منظومه‌ها، ستاره‌ها، سیاره‌ها و ... وجود دارد. ستاره‌ها و سیاره‌هایی که در آسمان شب می‌توان دید، تنها، تعداد اندکی از میلیاردها جرم آسمانی در کهکشان راه شیری هستند.

برخی از اجرام و پدیده‌های آسمانی به وسیله کاوشگران شناسایی شده‌اند و برخی دیگر، تاکنون حتی رصد هم نشده‌اند و اطلاعی از آنها در دست نیست. اندازه‌گیری‌های نجومی نشان می‌دهند که کیهان در حال گسترش است و کهکشان‌ها در حال دور شدن از یکدیگر هستند. در این زمینه، پرسش‌هایی نظیر: گسترش کیهان از چه زمانی آغاز شده است؟ آینده کیهان، چگونه خواهد بود؟ سرنوشت منظومه شمسی و تکوین زمین چیست؟ ساز و کار تشکیل اقیانوس‌ها چگونه است؟ و ... مطرح می‌شود.



آفرینش کیهان

دانشمندان بر این باورند که خداوند، جهان هستی را بر اساس اصول و قوانین آفریده است. آنها با مطالعه و شناخت نظام حاکم بر آفرینش کیهان، به دنبال کشف رازهای خلقت هستند.

جمع آوری اطلاعات

- در سال گذشته خواندید که دانشمندان پیدایش جهان را با نظریه مه بانگ توضیح می دهند. در این باره، اطلاعات بیشتری جمع آوری و درباره پیدایش اجرام آسمانی با هم گفت و گو کنید.

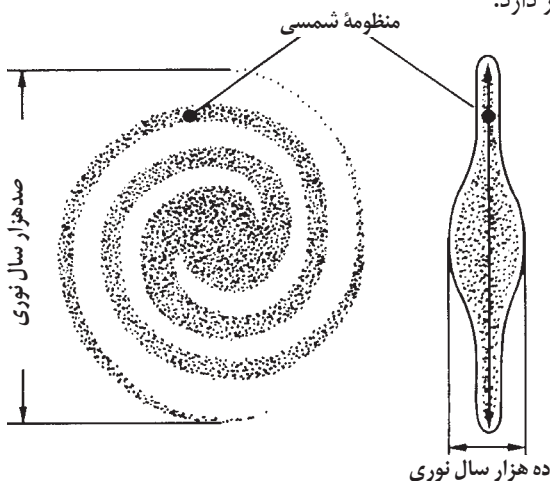
کهکشان راه شیری

در کیهان، صدها میلیارد کهکشان وجود دارد. کهکشان ها، از تعداد زیادی ستاره، سیاره و فضای بین ستاره ای (اغلب گاز و گرد و غبار) تشکیل شده اند که تحت تأثیر نیروی گرانش متقابل، یکدیگر را نگه داشته اند.

اگر در شب های صاف و بدون ابر، در مکانی که آلودگی نوری ندارد، به آسمان نگاه کنید، نواری مه مانند و کم نور، شامل انبوهی از اجرام می بینید. این نوار که کهکشان راه شیری نام دارد، یکی از بزرگ ترین کهکشان های شناخته شده است. کهکشان راه شیری، شکلی مارپیچی دارد که منظومه شمسی ما، در لبه یکی از بازوهای آن قرار دارد.

پیوند با عکاسی

- عکس زیر بخشی از کهکشان راه شیری در آسمان شب است که از رصدگاه کویر خارا در اصفهان تهیه شده است. شما هم در مکانی مناسب، از کهکشان راه شیری و سایر اجرام آسمانی، عکس بگیرید و آن را به کلاس ارائه کنید.



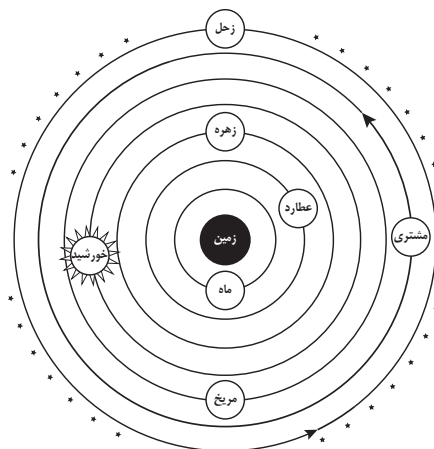
شکل ۱-۱- طرح شماتیک یک کهکشان مارپیچ مانند کهکشان راه شیری



در سال‌های گذشته با برخی از ویژگی‌های منظومه شمسی و اجزای آن آشنا شدید. حرکت ظاهری خورشید از شرق به غرب است؛ بنابراین آیا زمین، مرکز جهان است و سایر اجرام به دور آن می‌گردند؟ از هزاران سال قبل، بشر برای پاسخ به این پرسش و پرسش‌های مشابه آن، در جست‌وجو و کاوشگری بوده است. در این زمینه، دو نظریه زیر مطرح شده است:

نظریه زمین مرکزی: بطلمیوس، دانشمند یونانی بیش از دو هزار سال پیش، با مشاهده حرکت ظاهری ماه و خورشید، به این نتیجه رسید که زمین، در مرکز عالم قرار دارد و اجرام آسمانی دیگر به دور آن می‌گردند.

بر اساس این نظریه، که نظریه زمین مرکزی نام‌گذاری شد، زمین، ثابت است و ماه و خورشید و پنج سیاره شناخته شده آن روزگار، یعنی عطارد، زهره، مریخ، مشتری و زحل، در مدارهایی دایره‌ای به دور زمین می‌گردند.



شکل ۱-۲- نمایش نظریه زمین مرکزی

مفخر ایرانی

● ابوسعید سجزی (۴۱۴-۳۳۰ ه.ق)، ریاضی‌دان و ستاره‌شناس برجسته ایرانی در سیستان به دنیا آمد و در خراسان و شیراز به علم‌آموزی و مطالعه پرداخت. سجزی، نوعی اسطرلاب ساخت و کتاب «ترکیب الافلاک»، «رساله فی کیفیت صنع آلات النجومیه» و همچنین «رساله الاسطرلاب» از تألیفات او در ستاره‌شناسی و ریاضیات هستند که هر کدام دارای نوآوری‌ها و یافته‌های علمی فراوان می‌باشند.

برخی دانشمندان ایرانی مانند ابوسعید سجزی و خواجه نصیرالدین طوسی، با اندازه‌گیری‌های دقیق و تفسیر درست یافته‌های علمی، ایرادهایی بر نظریه زمین مرکزی وارد کردند. این نظریه در اروپا نیز مخالفانی داشت؛ ولی تا حدود قرن ۱۶ میلادی مطرح بود.

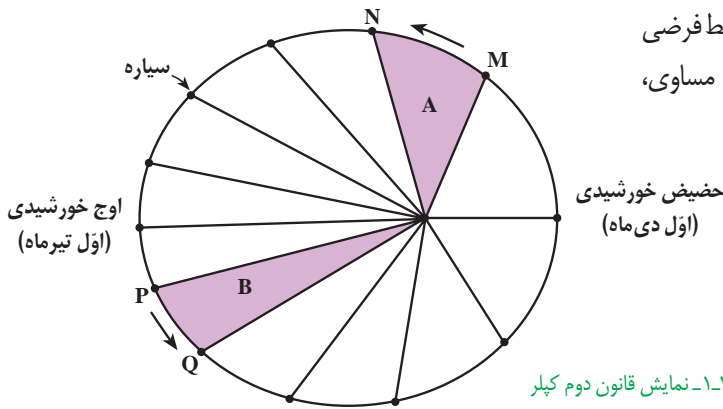
نظریه خورشید مرکزی: نیکولاس کوپرنیک، ستاره‌شناس لهستانی که با علم ریاضی نیز به خوبی آشنا بود، با مطالعه حرکت سیارات در زمان‌های مختلف، نظریه خورشید مرکزی را به شرح زیر بیان کرد:

- زمین همراه با ماه، مانند دیگر سیاره‌ها در مدار دایره‌ای و مخالف حرکت عقربه‌های ساعت به دور خورشید می‌گردد.

- حرکت روزانه خورشید در آسمان، ظاهری و نتیجه چرخش زمین به دور محور خود است. پس از آنکه کوپرنیک، نظریه خورشید مرکزی را مطرح کرد، یوهانس کپلر، به بررسی دقیق یادداشت‌های ستاره‌شناسان پرداخت و دریافت که سیارات در مدارهای بیضوی، به دور خورشید در حرکت می‌باشند. او با ارائه سه قانون زیر، نظریه خورشید مرکزی را اصلاح نمود.

قانون اول: هر سیاره در مداری بیضوی، چنان به دور خورشید می‌گردد که خورشید همواره، در یکی از دو کانون آن قرار دارد.

- با توجه به اینکه، نور خورشید حدود $8/3$ دقیقه نوری طول می کشد تا به زمین برسد فاصله متوسط زمین تا خورشید چند کیلومتر است؟
- به این فاصله در اصطلاح ستاره شناسی چه گفته می شود؟



قانون دوم: هر سیاره، چنان به دور خورشید می گردد که خط فرضی که سیاره را به خورشید وصل می کند، در مدت زمان های مساوی، مساحت های مساوی ایجاد می کند.

قانون سوم: زمان گردش یک دور سیاره به دور خورشید (p)، با افزایش فاصله از خورشید (d) افزایش می یابد، به طوری که مربع زمان گردش سیاره به دور خورشید، معادل مکعب فاصله آن سیاره تا خورشید است ($p^2 \propto d^3$). در این رابطه، p بر حسب سال زمینی و d بر حسب واحد نجومی است.

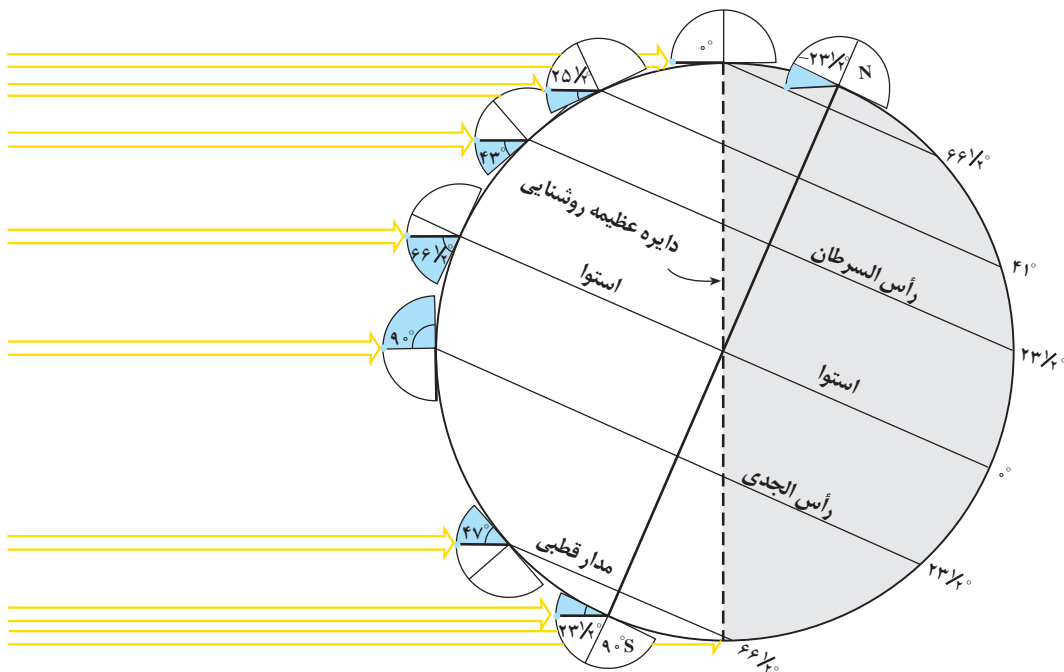
- اگر مدار سیاره ای در فاصله $10^6 \times 600$ کیلومتری خورشید قرار داشته باشد، زمان گردش آن به دور خورشید چند سال است؟

حرکات زمین

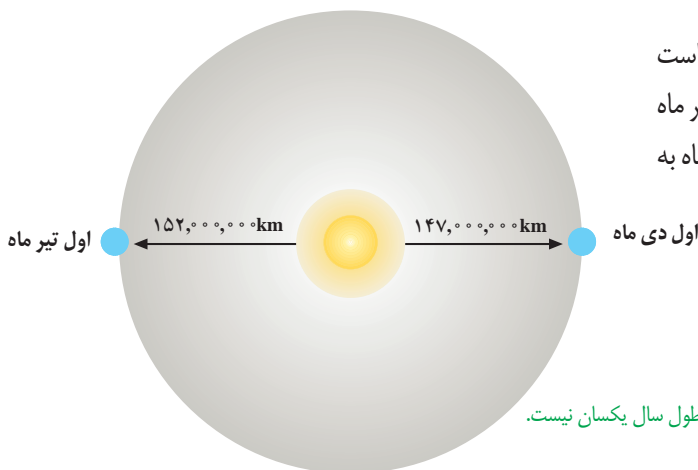
کره زمین دارای حرکت وضعی و انتقالی است. چرخش زمین به دور محورش را حرکت وضعی می گویند. این چرخش در جهت خلاف حرکت عقربه های ساعت است و در مدت زمان حدود ۲۴ ساعت انجام می شود.

شب و روز بر اثر حرکت وضعی به وجود می آید. انحراف $23/5$ درجه ای محور زمین، نسبت به خط عمود بر سطح مدار گردش زمین به دور خورشید، سبب ایجاد اختلاف مدت زمان روز و شب در عرض های جغرافیایی مختلف می شود. به صورتی که به جز در مدار استوا «مدار صفر درجه»، طول مدت شب و روز در تمام مدت سال با هم برابر و ۱۲ ساعت است، با افزایش عرض جغرافیایی این اختلاف ساعت بیشتر می شود.

به گردش زمین بر روی مدار بیضوی به دور خورشید، حرکت انتقالی گفته می شود که در جهت خلاف حرکت عقربه های ساعت انجام می شود.



شکل ۴-۱. مقدار انحراف محور زمین و تأثیر آن در مقدار زاویه تابش خورشید در عرض‌های جغرافیایی مختلف



میانگین فاصله خورشید از زمین، حدود ۱۵۰ میلیون کیلومتر است که به آن، یک واحد نجومی می‌گویند. البته این مقدار در اول تیر ماه به حداکثر مقدار خود، یعنی ۱۵۲ میلیون کیلومتر و در اول دی ماه به حداقل خود، یعنی حدود ۱۴۷ میلیون کیلومتر می‌رسد.

شکل ۵-۱. فاصله زمین نسبت به خورشید در طول سال یکسان نیست.

● با توجه به فاصله حداکثر زمین تا خورشید در اول تیر و فاصله حداقلی در اول دی ماه، علت گرمای تیرماه و سرمای دی ماه چیست؟

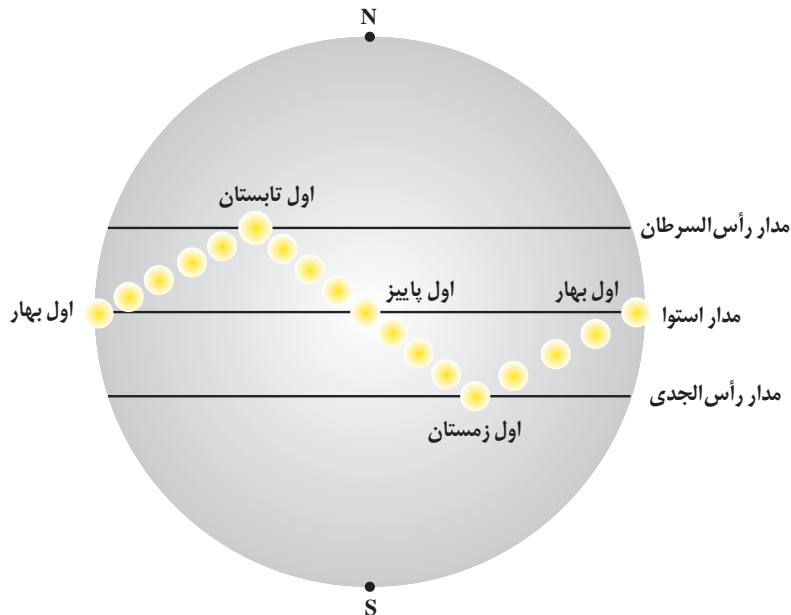
تحقیق کنید

پیدایش فصل‌ها، حاصل حرکت انتقالی زمین و انحراف ۲۳/۵ درجه‌ای محور زمین است؛ به علت کروی بودن زمین، زاویه تابش خورشید در عرض‌های جغرافیایی مختلف، در یک زمان، متفاوت است. همچنین به علت انحراف محور زمین، زوایای تابش خورشید در یک عرض جغرافیایی نیز در طول سال تفاوت دارد. این تفاوت زاویه، سبب ایجاد فصل‌ها در نقاط مختلف کره زمین شده است (شکل ۶-۱).

حرکت زمین و زاویه انحراف محور آن به گونه‌ای است که می‌توان موقعیت خورشید را نسبت به زمین به صورت شکل ۶-۱ تصوّر کرد.

خود را بیازماید

- وضعیت فصل‌ها در نیمکره شمالی و جنوبی را مقایسه کنید.
- جهت تشکیل سایه، در نیمکره شمالی و جنوبی چه تفاوتی دارد؟
- در طول یک سال، خورشید در چه روزهایی بر استوا عمود می‌تابد؟



شکل ۶-۱. موقعیت فرضی تابش عمود نور خورشید نسبت به مدارهای مختلف زمین (براساس نیمکره شمالی)

براساس شکل بالا در ابتدای بهار، خورشید بر مدار استوا عمود می‌تابد و در طول بهار بر عرض‌های جغرافیایی بالاتر در نیمکره شمالی عمود می‌تابد به طوری که، در آخر خرداد و اول تیرماه حداکثر بر مدار رأس السرطان، تابش قائم دارد. سپس در طول تابستان بر مدارهای کمتر از $23\frac{1}{2}$ درجه شمالی، قائم است و مجدداً اول پاییز بر استوا و در ادامه در شش ماهه دوم سال، بر عرض‌های جغرافیایی صفر تا $23\frac{1}{2}$ درجه جنوبی قائم می‌تابد.

تکوین زمین و آغاز زندگی در آن

حدود ۶ میلیارد سال قبل، با نخستین تجمعات ذرات کیهانی، شکل‌گیری منظومه شمسی آغاز شد و در حدود $\frac{4}{6}$ میلیارد سال قبل، سیاره زمین به صورت کره‌ای مذاب، تشکیل و در مدار خود قرار گرفت. با گذشت زمان و سرد شدن این گوی مذاب، حدود ۴ میلیارد سال قبل، سنگ‌های آذرین به عنوان نخستین اجزای سنگ‌کره تشکیل شدند؛ سپس با فوران آتشفشان‌های متعدد، گازهایی که از داخل زمین خارج شدند، به تدریج گازهای مختلف مانند اکسیژن، هیدروژن، نیتروژن، هواکره را به وجود آوردند. در ادامه، کره زمین سردتر شد و بخار آب به صورت مایع در آمد و آب‌کره تشکیل شد. با تشکیل اقیانوس‌ها و تحت تأثیر انرژی خورشید، شرایط برای تشکیل زیست‌کره فراهم و زندگی انواع تک‌یاخته‌ها در دریاها کم‌عمق آغاز شد.

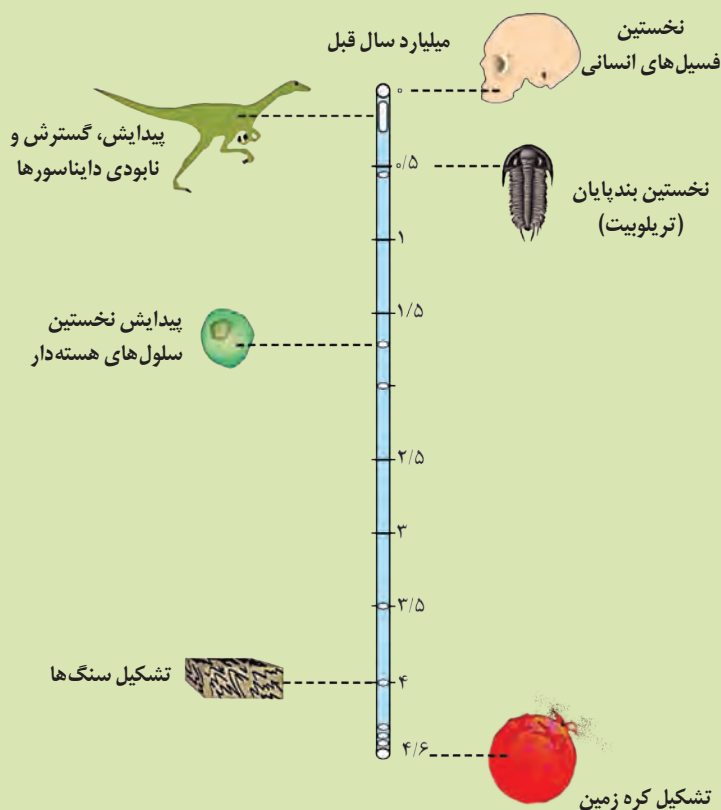
به وجود آمدن چرخه آب، باعث فرسایش سنگ‌ها، تشکیل رسوبات و سنگ‌های رسوبی گردید. در ادامه، با حرکت ورقه‌های سنگ کره

و ایجاد فشار و گرمای زیاد در مناطق مختلف، سنگ‌های دگرگونی به وجود آمدند. دانشمندان معتقدند شرایط محیط زیست فعلی به تدریج و در طی صدها میلیون سال مهیا شده است.

با توجه به شواهد زمین‌شناسی، دانشمندان دریافتند که خداوند در آفرینش جهان، ابتدا شرایط محیط زیست را مهیا کرده و سپس جانداران را از ساده تا پیچیده آفریده است. در دوران‌های مختلف، شرایط آب و هوایی و محیط زیست تغییرات فراوانی داشته‌اند و بر این اساس، گونه‌های مختلف جانداران در سطح زمین ظاهر و منقرض شده‌اند. به عنوان مثال، خزندگان در دوره کربونیفر، ظاهر و در طی ۸۰-۷۰ میلیون سال، جثه آنها بزرگ شد و در کره زمین گسترش یافتند. با نامساعد شدن شرایط محیط زیست و عدم توانایی دایناسورها برای سازگاری با تغییرات محیطی، این موجودات حدود ۶۵ میلیون سال پیش منقرض شدند.

تفسیر کنید

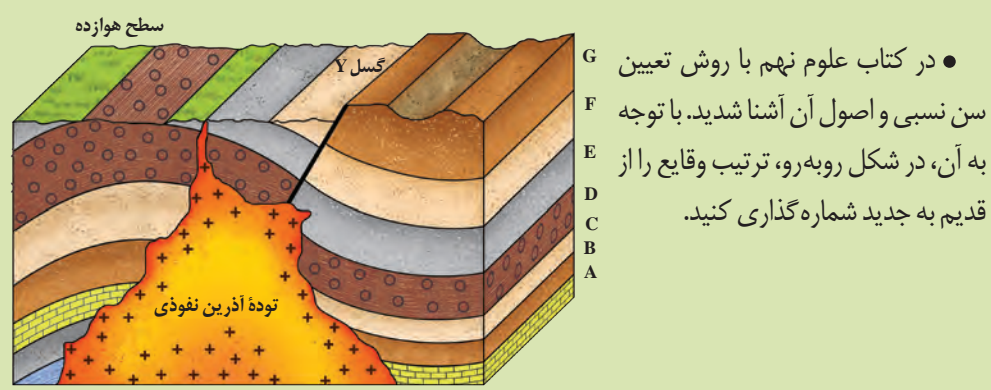
● با توجه به شکل زیر، ترتیب تشکیل هوا کره، سنگ کره، زیست کره و آب کره را از قدیم به جدید ذکر کنید.



سن زمین

از آغاز پیدایش کره زمین تاکنون، مدت زمان بسیار زیادی می‌گذرد و در این مدت، حوادث و وقایع فراوانی در آن رخ داده است. آیا می‌دانید سن زمین و وقایع گذشته را چگونه تعیین می‌کنند؟ تعیین سن سنگ‌ها و پدیده‌های مختلف، از نظر بررسی تاریخچه زمین، اکتشاف ذخایر و منابع موجود در زمین، پیش‌بینی حوادث احتمالی آینده و ... اهمیت زیادی دارد. در زمین‌شناسی، سن سنگ‌ها و پدیده‌ها را به دو روش نسبی و مطلق تعیین می‌کنند.

یادآوری



- در کتاب علوم نهم با روش تعیین سن نسبی و اصول آن آشنا شدید. با توجه به آن، در شکل روبه‌رو، ترتیب وقایع را از قدیم به جدید شماره گذاری کنید.

در تعیین سن نسبی، ترتیب تقدم، تأخر و هم‌زمانی وقوع پدیده‌ها، نسبت به یکدیگر مشخص می‌شود. در تعیین سن مطلق (پرتوسنجی)، سن واقعی نمونه‌ها با استفاده از عناصر پرتوزا اندازه‌گیری می‌شود. عناصر پرتوزا به‌طور مداوم، با سرعت ثابت در حال واپاشی هستند. این عناصر پس از واپاشی به عنصر پایدار تبدیل می‌شوند. مدت زمانی که نیمی از یک عنصر پرتوزا به عنصر پایدار تبدیل می‌شود را، نیم‌عمر آن عنصر می‌گویند. در تعیین سن مطلق با استفاده از رابطه‌ی زیر می‌توان سن مطلق نمونه‌هایی مانند (سنگ، چوب، استخوان و...) را تعیین کرد.

$$\text{نیم‌عمر} \times \text{تعداد نیم‌عمر} = \text{سن نمونه}$$

پیوند با ریاضی

- در جدول زیر، نیم‌عمر برخی از عناصر پرتوزا و عنصر پایدار حاصل از آنها نشان داده شده است. با استفاده از اطلاعات موجود در آن، به پرسش‌های زیر پاسخ دهید:
 - ۱- برای تعیین سن نخستین سنگ‌هایی که در کره زمین تشکیل شده‌اند، استفاده از کدام عنصر پرتوزا مناسب‌تر است؟ چرا؟
 - ۲- برای تعیین سن فسیل ماموت و یا جمجمه انسان اولیه، از کربن ۱۴ استفاده می‌شود. دلیل آن را توضیح دهید.
 - ۳- اگر مقدار کربن ۱۴ باقی‌مانده در یک نمونه استخوان قدیمی حدود $\frac{1}{8}$ مقدار اولیه آن باشد، سن استخوان را محاسبه کنید.

نیم‌عمر برخی از عناصر پرتوزا

عناصر پرتوزا	نیم‌عمر (تقریبی)	عناصر پایدار
اورانیوم ۲۳۸	۴/۵ میلیارد سال	سرب ۲۰۶ ←
اورانیوم ۲۳۵	۷۱۳ میلیون سال	سرب ۲۰۷ ←
توریوم ۲۳۲	۱۴/۱ میلیارد سال	سرب ۲۰۸ ←
کربن ۱۴	۵۷۳۰ سال	نیترژن ۱۴ ←
پتاسیم ۴۰	۱/۳ میلیارد سال	آرگون ۴۰ ←

مفهوم زمان در مقیاس‌های مختلفی به کار می‌رود. شما با واحدهای زمان مانند: ثانیه، دقیقه، ساعت، شبانه روز، هفته، ماه، سال، دهه، سده (قرن) و هزاره آشنا هستید؛ اما، واحدهای بزرگ‌تر زمان نیز وجود دارند که در زندگی روزمره ما، کاربرد زیادی ندارند، ولی در علوم زمین بسیار مهم‌اند. مانند عهد، دوره، دوران و ائون (آبردوران) که واحدهای زمانی مورد استفاده در زمین‌شناسی هستند. معیار تقسیم‌بندی این واحدهای زمانی مختلف، به حوادث مهمی همچون پیدایش یا انقراض گونه خاصی از جانداران، حوادث کوهزایی، پیشروی یا پسروی جهانی دریاها، عصرهای یخبندان و... بستگی دارد (شکل ۱-۷).

ائون	دوران	دوره	رویدادهای زیستی	میلیون سال قبل
فانروزویک	مئوزوئیک	کواترنری	انسان	۶۶
		نئوژن	تنوع پستانداران	
		پالئوژن		
	مزوزوئیک	کرتاسه	انقراض دایناسورها نخستین گیاهان گل‌دار	۲۵۱
		ژوراسیک	نخستین پرنده	
		تریاس	نخستین پستاندار نخستین دایناسور	
	پالئوزوئیک	پرمن	انقراض گروهی	۵۴۱
		کربنیفر	نخستین خزنده	
		دوین	نخستین دوزیست	
		سیلورین	نخستین گیاهان آونددار	
		اردوویسین	نخستین ماهی‌ها	
	کامبرین	نخستین تریلوبیت	۲۵۰۰	
	پروتروزوئیک			
آرکئن				۴۶۰۰
پراکامبرین				
هادئن				

شکل ۱-۷- مقیاس زمان زمین‌شناسی و رویدادهای مهم آن

در سال‌های گذشته، با مفهوم سنگ کره و ساز و کار حرکت ورقه‌ها آشنا شدید. ورقه‌های سنگ کره، به دو نوع قاره‌ای و اقیانوسی تقسیم می‌شوند. البته گاهی ممکن است بخشی از یک ورقه، جنس قاره‌ای و در بخش دیگر از جنس اقیانوسی باشد (مانند ورقه هند) و یا در همه جا از آب پوشیده شده و از جنس اقیانوسی باشد (مانند ورقه اقیانوس آرام). سنگ کره قاره‌ای، نسبت به سنگ کره اقیانوسی ضخامت بیشتر و چگالی کمتری دارد. از طرفی سن ورقه‌های قاره‌ای زیاد و حدود ۳/۸ میلیارد سال بوده و در حالی که سنگ‌های بستر اقیانوس‌ها حداکثر ۲۰۰ میلیون سال قدمت دارند.

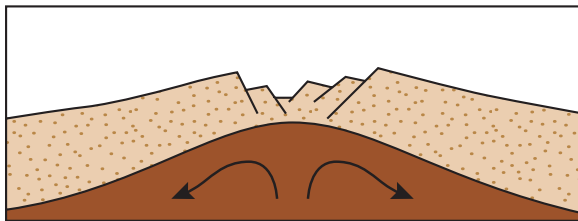
یادآوری

- در فصل زمین ساخت ورقه‌ای کتاب علوم نهم، در مورد حرکت ورقه‌های سنگ کره و پیامدهای آن مطالبی آموختید. در این باره به پرسش‌های زیر پاسخ دهید:
 - ۱- علت حرکت ورقه‌های سنگ کره چیست؟
 - ۲- انواع حرکت ورقه‌ها را بیان کنید.
 - ۳- پیامدهای حاصل از حرکت ورقه‌ها را ذکر کنید.

مفاخر جهان


● در ادامه نظریه‌های جابه‌جایی قاره‌ها و گسترش بستر اقیانوس‌ها، توزو ویلسون زمین‌شناس کانادایی، نخستین بار، ایده وجود ورقه‌های تشکیل دهنده سنگ کره زمین و مرز آنها را عنوان کرد که منجر به ارائه نظریه زمین ساخت ورقه‌ای شد. مراحل تشکیل اقیانوس‌ها نیز، توسط وی ارائه و بعدها به چرخه ویلسون معروف شد. مطالعات علمی او، مورد تحسین جهان قرار گرفت.

نخستین بار ساز و کار حرکت ورقه‌های سنگ کره توسط دانشمند کانادایی به نام توزو ویلسون در قالب چرخه‌ای به نام چرخه ویلسون مطرح شد. خلاصه مراحل چرخه ویلسون به شرح زیر می‌باشد:
۱- مرحله بازشدگی: تحت تأثیر جریان‌های همرفتی سست کره، بخشی از پوسته قاره‌ای شکافته می‌شود و مواد مذاب سست کره، صعود نموده و به سطح زمین می‌رسند. نمونه‌ای از آن در شرق آفریقا ایجاد شده است (شکل ۸-۱-الف).



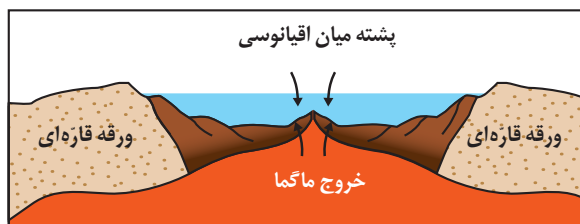
شکل ۸-۱-الف) ایجاد شکاف در پوسته قاره‌ای

۲- مرحله گسترش: در این مرحله، در محل شکاف ایجاد شده، مواد مذاب سست کره به بستر اقیانوس رسیده و پشته‌های میان اقیانوسی تشکیل می‌شوند و پوسته جدید ایجاد شده به طرفین حرکت کرده و باعث گسترش بستر اقیانوس می‌شود مانند بستر اقیانوس اطلس (دور شدن آمریکای جنوبی از آفریقا) و دریای سرخ (دور شدن عربستان از آفریقا) (شکل ۸-۱-ب).



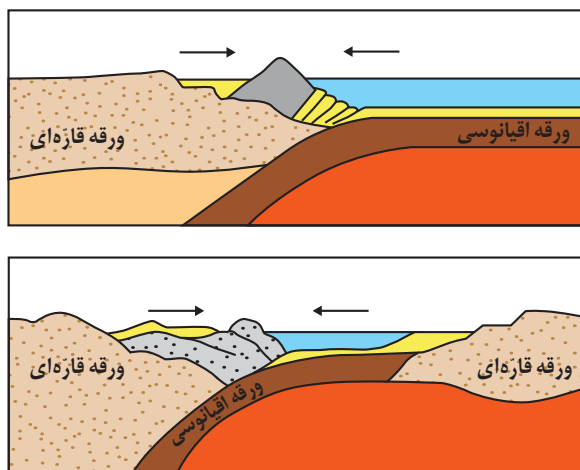
توزو ویلسون

۱۵ آوریل ۱۹۹۳ - ۱۲۴ اکتبر ۱۹۰۸



شکل ۸-۱ (ب) ایجاد و گسترش پوسته اقیانوسی

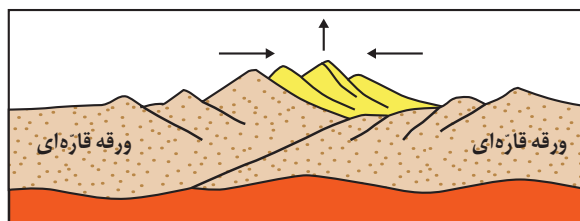
۳- مرحله بسته شدن: در این مرحله، ورقه اقیانوسی از حاشیه به زیر ورقه قاره‌ای مجاور خود فرو رانده می‌شود (دراز گودال اقیانوسی) و با ادامه فروانش در نهایت اقیانوس بسته می‌شود (مانند بسته شدن اقیانوس تیتیس) (شکل ۸-۱-پ).



شکل ۸-۱ (پ) بسته شدن حوضه اقیانوسی ایجاد شده

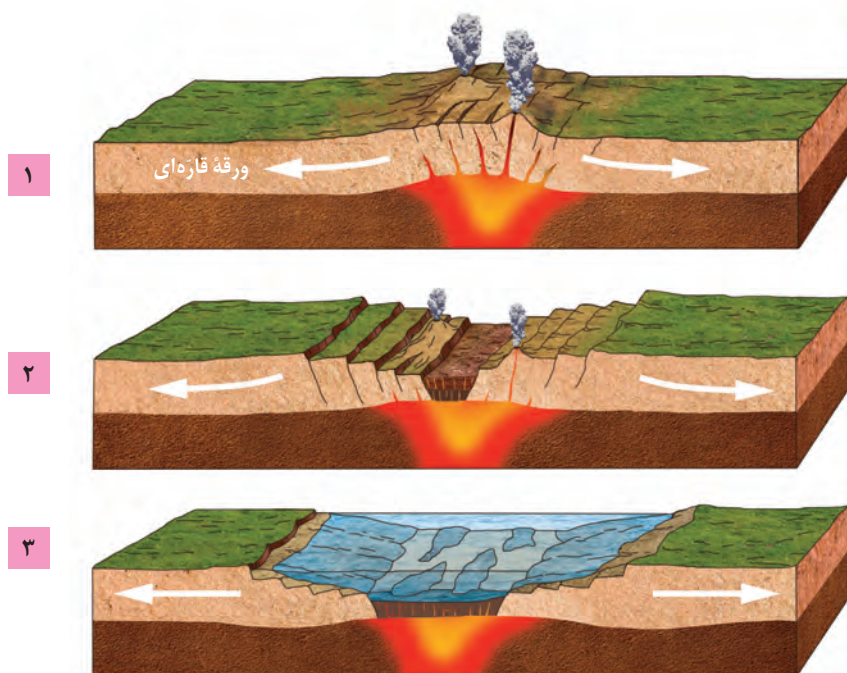
در برخی از اقیانوس‌ها مانند اقیانوس آرام در بخشی از آن، ورقه اقیانوسی به زیر ورقه اقیانوسی دیگر فرو رانده شده و منجر به تشکیل دراز گودال اقیانوسی و جزایر قوسی می‌شود.

۴- مرحله برخورد: با بسته شدن اقیانوس و برخورد ورقه‌ها، رسوبات فشرده شده و رشته کوه‌هایی مانند هیمالیا (برخورد هندوستان به آسیا)، زاگرس (برخورد عربستان به ایران) و ... را به وجود می‌آورند (شکل ۸-۱-ت).



شکل ۸-۱ (ت) برخورد ورقه‌ها و ایجاد رشته کوه

- ۱- عامل باز و بسته شدن اقیانوس‌ها چیست؟
- ۲- چرا با وجود گسترش بستر اقیانوس‌ها، وسعت سطح زمین افزایش نمی‌یابد؟
- ۳- نتیجه فرورانش ورقه اقیانوسی - قاره‌ای و اقیانوسی - اقیانوسی چیست؟




شکل ۹-۱- مراحل تشکیل اقیانوس جدید




● **دیرینه‌شناسی**: شاخه‌ای از علم زمین‌شناسی که به بررسی آثار و بقایای موجودات گذشته زمین در لایه‌های رسوبی می‌پردازد. بر پایه مطالعه فسیل‌ها، پیدایش و نابودی آنها می‌توان به سن نسبی لایه‌های زمین و محیط زندگی موجودات در گذشته پی برد.

● **سنجش از دور:** علم و فن جمع‌آوری اطلاعات از عوارض سطح زمین، بدون تماس فیزیکی با آنها است. سنجش از دور شامل اندازه‌گیری و ثبت انرژی بازتابی از سطح زمین و جو پیرامون آن، از یک نقطه مناسب در بالاتر از سطح زمین است. پرتوهای بازتابی که از نوع امواج الکترومغناطیس هستند، می‌توانند دارای منابع گوناگونی مانند پرتوهای خورشیدی، پرتوهای حرارتی اجسام یا حتی پرتوهای مصنوعی باشند. به‌دست آوردن اطلاعات از سطح زمین و سطح دریاها، با استفاده از تصاویر اخذ شده از فراز آنها، از بخش‌هایی از طیف الکترومغناطیس که از سطح زمین تابیده یا بازتابیده شده‌اند، انجام می‌شود. سنجش از دور، از انرژی الکترومغناطیسی بهره می‌گیرد. قوی‌ترین منبع تولیدکننده این انرژی، خورشید است که انرژی الکترومغناطیس را در تمام طول موج‌ها، تابش می‌کند.

متخصصان این رشته‌ها، در مراکزی مانند سازمان زمین‌شناسی و اکتشافات معدنی کشور، شرکت ملی نفت ایران و... می‌توانند به کمک آن حوادثی مانند: وقوع سیل، تغییرات سطح زمین، پراکندگی ریزگردها و... را بررسی کنند و در کیفیت‌بخشی و بهبود اجرای پروژه‌های اکتشافی و آموزشی کمک شایانی داشته باشند.





معدن مس سونگون ورزقان (شهرستان اهر - استان آذربایجان شرقی)

فصل ۲

منابع معدنی و ذخایر انرژی، زیربنای تمدن و توسعه

زیربنای اقتصادی کشورهای مختلف، متنوع است. مبنای اقتصادی برخی از کشورها، صنعت، کشاورزی یا گردشگری است و برخی دیگر، اقتصاد خود را بر مبنای منابع و ذخایر معدنی بنا نهاده‌اند. مبنای اقتصاد کشور ما، کدام مورد است؟ بسیاری از کالاهایی که در زندگی روزمره از آنها استفاده می‌کنید، یا با آنها سروکار دارید، از منابع فلزی (آهن، آلومینیم، طلا و منیزیم)، غیر فلزی (رس‌ها، زغال سنگ و ...) و یا مواد نفتی و فراورده‌های پتروشیمی مانند پلاستیک، بنزین و ... به دست می‌آیند. در علم زمین‌شناسی با مواردی مانند نحوه تشکیل، ذخیره و اکتشاف منابع معدنی و سوخت‌های فسیلی مانند زغال سنگ، نفت و گاز آشنا می‌شوید.



کانی گارنت



کانی کوارتز



سکوی نفتی



مجتمع پتروشیمی

منابع معدنی در زندگی ما

بخش عمده مواد مورد نیاز برای زندگی ما، از منابع معدنی تأمین می‌شوند. مس موجود در کابل‌های برق، آهن مورد استفاده در ریل راه آهن، پلاتین استفاده شده در ساخت گوشی تلفن همراه، مدادی که با آن می‌نویسیم، از کانی گرافیت، خمیردندان از کانی فلوئوریت و... از منابع معدنی تهیه می‌شوند. منابع معدنی پس از شناسایی توسط زمین‌شناسان، از معادن استخراج و پس از فراوری، به کالاهای مورد نیاز تبدیل می‌شوند. تعدادی از کاربردهای مواد معدنی (فلزی - غیر فلزی) در جدول ۱-۲ آورده شده است.

جدول ۱-۲- فراوانی و کاربرد برخی از کانی‌ها و منابع معدنی

فراوانی	فلزها بر اساس فراوانی
فراوان: آهن، آلومینیم، منیزیم، منگنز، تیتانیم	
کمیاب: مس، سرب، روی، نیکل، کروم، طلا، نقره، قلع، تنگستن، مولیبدن، اورانیم، پلاتین و ...	
غیرفلزها بر اساس کاربرد	صنایع شیمیایی: هالیت، سدیم کلرید، فلوئوریت، (کلسیم فلوراید)
	کودهای شیمیایی: آپاتیت (کلسیم فسفات)، سیلویت (پتاسیم کلرید)، گوگرد، کلسیت و سنگ آهک (کلسیم کربنات)، شوره (سدیم نیترات)
	ساختمان‌سازی: ژئیس (گچ ساختمانی)، سنگ آهک (سیمان)، رس (آجر و کاشی و سرامیک)، شن و ماسه، سنگ‌های تزئینی و نما، فلدسپار (کاشی و سرامیک)، سیلیس (شیشه‌سازی)، پوزولان و پرلیت (مصالح سبک وزن)
	گوهرها و کانی‌های نیمه قیمتی: الماس، کربنوم (یاقوت)، گارنت (بیجاده)، آمیتیست (کوارتز بنفش)، بریل (زمرد)، فیروزه، آگات (عقیق)، الیوین (زبرجد)، اسپینل (لعل)، لاجورد، یشم و ...
	پزشکی و داروسازی: باریت (عکس برداری رادیولوژی)، انواع کانی‌های رسی (آنتی‌بیوتیک‌ها، ضد اسید معده)، فلوئوریت (خمیر دندان)، تالک (پودر بچه، لوازم آرایشی، کرم‌های ضد آفتاب)
	کانی‌های صنعتی: بنتونیت (گل حفاری، خاک رنگ‌بر، جاذب آب و آلاینده‌ها، صنعت فولاد، سرامیک، صنایع رنگ، کاغذسازی، تصفیه آب و فاضلاب، داروسازی، تصفیه و رنگ‌بری روغن، قند، نوشیدنی‌ها و...)، کائولن (سرامیک، کاغذسازی، پرکننده و لاستیک‌سازی)، کوارتز (ساعت‌سازی، شیشه‌سازی، قطعات الکترونیکی و ...)
	کشاورزی: کانی زئولیت در (سبک کردن و هوارسانی به خاک و جاذب رطوبت)، دامپروری (مکمل غذای دام و طیور)، پرورش ماهی، تصفیه آب و فاضلاب
	سایر موارد: تالک (کاغذسازی، رنگ)، باریت (گل حفاری)، گرافیت (نوک مداد، پیل الکتریکی، تایر خودروها)، ساینده (الماس، گارنت، کربنوم، کوارتز)

● افزون بر موارد ذکر شده در جدول، فهرستی از وسایل و موادی که در زندگی روزمره، به کار می‌برید یا با آن سروکار دارید، تهیه کنید و مشخص کنید کدام، به صورت مستقیم و کدام به صورت غیرمستقیم از زمین به دست می‌آید؟ کدام یک از این منابع، فلزی و کدام غیرفلزی است؟

در سال ۱۹۶۴ میلادی، دو زمین‌شناس به نام‌های کلارک^۱ و رینگ‌وود^۲ برای تعیین ترکیب شیمیایی پوسته زمین و بررسی پراکندگی عناصر در بخش‌های مختلف آن، تعداد بسیار زیادی از انواع سنگ‌های مناطق مختلف را نمونه‌برداری و ترکیب شیمیایی آنها را تعیین کردند. امروزه، فراوانی میانگین عناصر پوسته زمین با عنوان غلظت کلارک عناصر شناخته می‌شود (جدول ۲-۲).

جدول ۲-۲- غلظت کلارک عناصر فراوان در پوسته جامد زمین

عنصر	درصد براساس جرم
اکسیژن	۴۵/۲۰
سیلیسیم	۲۷/۲۰
آلومینیم	۸/۰۰
آهن	۵/۸۰
کلسیم	۵/۰۶
سدیم	۲/۳۲
پتاسیم	۲/۷۷
منیزیم	۱/۶۸
تیتانیوم	۰/۸۶
فسفر	۰/۱۲
منگنز	۰/۱۰
روی	۰/۰۱۳
مس	۰/۰۰۷
سرب	۰/۰۰۰۱۶

اندازه‌گیری و تعیین غلظت میانگین عناصر، کاربردهای زیادی دارد. پژوهشگران با اندازه‌گیری مقدار غلظت عناصر در سنگ‌ها و خاک‌های هر منطقه و مقایسه آن با مقادیر غلظت میانگین، به فرایندهای زمین‌شناسی مانند حرکت ورقه‌های سنگ کره، تاریخچه تکوین یک منطقه، آلودگی‌های زیست‌محیطی و ... پی می‌برند.

اگر در منطقه‌ای، غلظت عناصر از میانگین کلارک بالاتر باشد، بی‌هنجاری مثبت و اگر غلظت آنها از میانگین، پایین‌تر باشد، آن را بی‌هنجاری منفی می‌نامند. زمین‌شناسان در پی جوی‌های اکتشافی عناصر، به دنبال یافتن مناطقی با بی‌هنجاری مثبت آن عنصر هستند.

۱- Clark

۲- Ringwood

● نتایج حاصل از تجزیه شیمیایی سنگ‌های یک منطقه، در جدول زیر ارائه شده است. در کدام عناصر، بی‌هنجاری مثبت و در کدام عناصر، بی‌هنجاری منفی دیده می‌شود؟

عنصر	درصد براساس جرم
Si	۱۷
Fe	۵
Ca	۵/۹
Na	۱
Cu	۰/۷
Pb	۲
Zn	۳
K	۱


● در کتاب‌های درسی علوم تجربی، با مفهوم ویژگی‌ها و کاربرد برخی از کانی‌ها آشنا شدید. تعیین کنید کدام یک از تصاویر زیر، کانی می‌باشند؟ چرا؟



ب) یخ



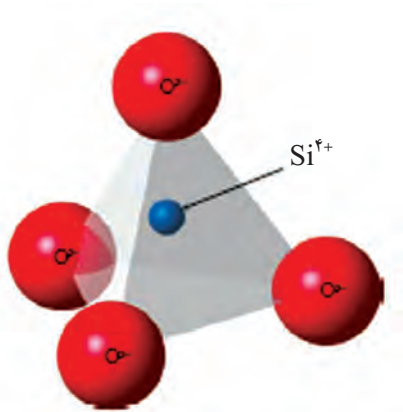
الف) نبات



ت) گوگرد



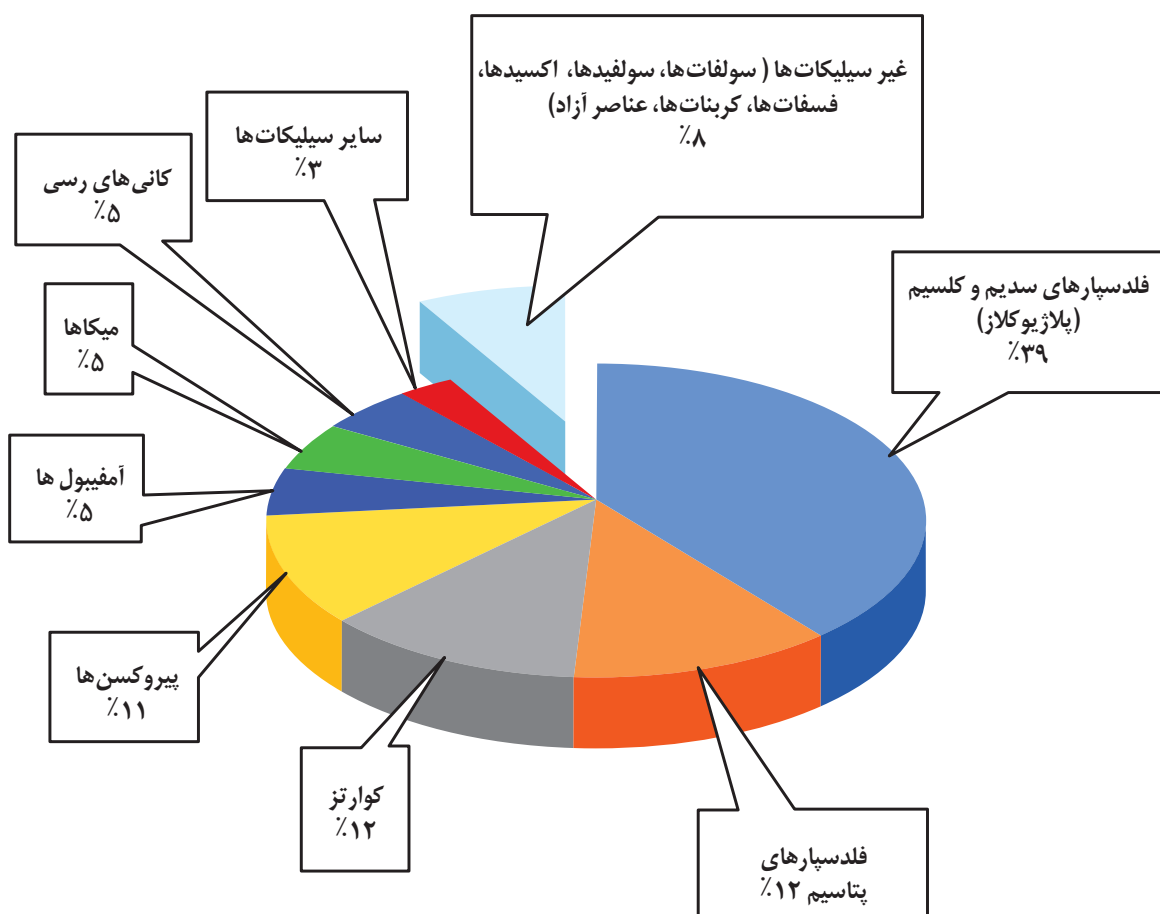
پ) نفت



شکل ۲-۱. از اتصال چهار اتم اکسیژن به یک اتم سیلیسیم، هرم چهاروجهی تشکیل می‌شود که واحد بنیادی سیلیکات‌ها است.

کانی‌ها، براساس ترکیب شیمیایی به دو گروه سیلیکات‌ها و غیرسیلیکات‌ها رده‌بندی می‌شوند.

سیلیکات‌ها، کانی‌هایی هستند که بیش از ۹۰ درصد از پوسته زمین را تشکیل می‌دهند و در ترکیب شیمیایی خود، بنیان سیلیکاتی (SiO_4^{4-}) دارند. کانی‌های سیلیکاتی در سنگ‌های آذرین، رسوبی و یا دگرگونی یافت می‌شوند (شکل ۲-۲). کانی‌های غیرسیلیکاتی، گروهی از کانی‌ها هستند که در ترکیب خود، فاقد بنیان سیلیکاتی هستند. این کانی‌ها نیز در انواع سنگ‌ها یافت می‌شوند.



شکل ۲-۲. درصد وزنی کانی‌های سازنده پوسته زمین

به گروهی از کانی‌ها که در آن یک فلز ارزشمند اقتصادی وجود دارد، کانه اطلاق می‌شود. مانند مگنتیت که از آن آهن و یا گالن که از آن سرب استخراج می‌شود. برخی از کانه‌ها به صورت آزاد یافت می‌شوند: مانند طلا، نقره و مس.

- در ساخت سرامیک و شیشه، از چه کانی‌هایی استفاده می‌شود؟
- در مورد کانه‌های زیر، اطلاعات جمع‌آوری و جدول زیر را کامل کنید.

عنصر اقتصادی	ترکیب شیمیایی	کانه
		هماتیت
		مگنتیت
		کالکوپیریت
		گالن

کانسنگ

سنگ معدن یا کانسنگ، از دو بخش کانه، و باطله تشکیل شده است. کانه، بخش ارزشمند کانسنگ است و باطله، به موادی که ارزش اقتصادی قابل توجهی ندارند، گفته می‌شود.

برای مثال کالکوپیریت، به فرمول شیمیایی $CuFeS_2$ مهم‌ترین کانه کانسنگ فلز مس است. در معادن مس، این کانی همراه با کانی‌های باطله مختلفی مانند کوارتز، فلدسپار، میکا، کانی‌های رسی، پیریت و ... کانسنگ مس را تشکیل می‌دهند.



شکل ۳-۲. کالکوپیریت مهم‌ترین کانه مس (زمینه کانی کوارتز)

در بخش‌هایی از پوسته زمین، غلظت عناصر در یک منطقه نسبت به غلظت میانگین، افزایش می‌یابد و حجم زیادی از ماده معدنی در آنجا متمرکز می‌شود (بی‌هنجاری مثبت)، به طوری که استخراج آن از نظر اقتصادی، مقرون به صرفه است که به این مناطق، کانسار می‌گویند.

استخراج ماده معدنی یا کانسنگ، اغلب پرهزینه است و تنها در صورتی بهره‌برداری آغاز می‌شود که یک عنصر با حجم و غلظت کافی در ماده معدنی وجود داشته باشد. با شروع بهره‌برداری یا معدن کاری، یک معدن شکل می‌گیرد.



شکل ۴-۲. کاربرد کانی‌های صنعتی در سفالگری لالجین همدان، به دلیل وجود ذخایر مناسب خاک رس در آن منطقه

افزون بر کانسنگ‌ها، مواد معدنی دیگری هم برای کاربردهای صنعتی یا روزمره استخراج می‌شوند که فلزی نیستند. مانند: شن و ماسه در ساختمان‌سازی، خاک رس در ساخت آجر یا کاشی و سرامیک، سنگ‌های ساختمانی که در نمای ساختمان‌ها، کفپوش، پله و دیوارها به کار می‌روند. به این نوع از سنگ‌ها و کانی‌های غیرفلزی، سنگ‌ها و کانی‌های صنعتی نیز می‌گویند.

فکر کنید

- در مورد عوامل مؤثر بر مقرون به صرفه بودن یک معدن، اطلاعاتی جمع‌آوری و به پرسش زیر پاسخ دهید.
- علاوه بر عوامل حجم و غلظت، چه عواملی در مقرون به صرفه شدن یک معدن دخالت دارند؟

در برخی موارد، بخش غیراقتصادی یا باطله یک کانسنگ، به عنوان شن و ماسه در زیرسازی جاده‌ها و... استفاده می‌شود.

گفت‌وگو کنید

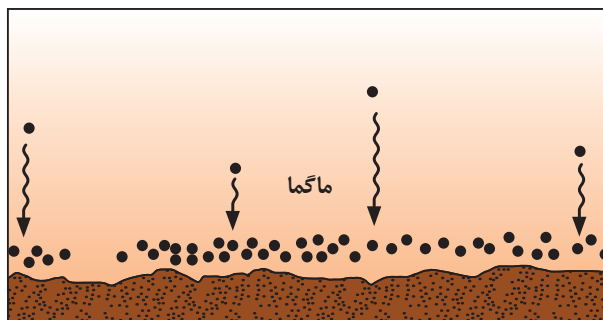
- ۱- در آب دریاها، مقداری عنصر طلا وجود دارد. به چه دلیل، طلا را از دریا استخراج نمی‌کنیم؟
- ۲- به چه دلیل برخی از معادن متروکه، پس از مدتی مورد بهره‌برداری مجدد قرار می‌گیرد؟

کانسنگ‌ها بر اساس منشأ و نحوه تشکیل، به سه دسته ماگمایی، گرمابی و رسوبی تقسیم‌بندی می‌شوند.

الف) کانسنگ‌های ماگمایی: کانسنگ‌های برخی عناصر فلزی مانند کروم، نیکل، پلاتین و آهن می‌توانند از یک ماگمای در حال سرد شدن، تشکیل شوند. با سرد شدن و تبلور یک ماگما، این عناصر که چگالی نسبتاً بالایی دارند، در بخش زیرین ماگما ته‌نشین می‌شوند و این کانسنگ‌ها را می‌سازند (شکل ۲-۵ الف).



ب) معدن آهن چُغارت - بافق یزد



الف) ته‌نشست کانسنگ کرومیت در کف مخزن ماگمایی

شکل ۲-۵



شکل ۲-۶ - سنگ پگماتیت

اگر پس از تبلور بخش اعظم ماگما، مقدار آب و مواد فرّار مانند کربن‌دی‌اکسید و... فراوان و از طرفی زمان تبلور بسیار کند و طولانی باشد، شرایط برای رشد بلورهای تشکیل دهنده سنگ، فراهم و سنگ‌هایی با بلورهای بسیار درشت، به نام پگماتیت تشکیل می‌شود (شکل ۲-۶) که می‌تواند کانسار مهمی برای بعضی عناصر خاص مانند لیتیم و بعضی کانی‌های گوهری مانند زمرد یا کانی‌های صنعتی مانند مسکوویت طلق نسوز باشد.

ب) کانسنگ‌های گرمابی: در پوسته زمین، به ازای هر 10° متر افزایش عمق، ۳ درجه سانتی‌گراد دما افزایش می‌یابد. به این تغییرات



شکل ۷-۲- رگه کانسنگ حاوی طلا

دما در پوسته زمین، شیب زمین گرمایی می‌گویند. در بخش‌های عمیق پوسته، به علت گرمای ناشی از شیب زمین گرمایی و یا توده‌های مذاب، دمای آب‌های موجود در این مناطق افزایش می‌یابد. منشأ این آب‌ها ممکن است از ماگما، آب‌های نفوذی بستر اقیانوس‌ها و یا آب‌های زیرزمینی راه‌یافته به اعماق زمین باشد که باعث انحلال برخی از عناصر می‌شوند. این آب‌ها، برخی عناصر را به شکل کانسنگ در داخل شکستگی‌های سنگ ته‌نشین می‌کنند و رگه‌های معدنی را می‌سازند (شکل ۷-۲). از آنجا که عامل تشکیل این کانسنگ‌ها، آب گرم است، کانسنگ‌های گرمابی نامیده می‌شوند. بسیاری از ذخایر مس، سرب، روی، مولیبدن، قلع و برخی فلزات دیگر، منشأ گرمابی دارند.

پ) کانسنگ‌های رسوبی: ذخایر سرب و روی موجود در سنگ‌های آهکی، مس و اورانیم موجود در ماسه سنگ‌ها، نمونه‌هایی از کانسنگ‌های رسوبی مهم هستند. گاهی هوازدگی سنگ‌ها، باعث می‌شود تا کانی‌های آن در رسوبات تخریبی رودخانه به علت چگالی زیاد ته‌نشین شده و به صورت خالص قابل بهره‌برداری شود، مانند پلاسره‌های طلا، الماس، پلاتین و... . از هزار سال پیش تاکنون در منطقه تخت سلیمان تکاب، از رودخانه زرشوران، طلا برداشت می‌شود.

اکتشاف معدن

تشکیل ذخایر فلزی و غیرفلزی در برخی از مناطق پوسته زمین رخ می‌دهد. با آگاهی از اصول تشکیل و عوامل کنترل‌کننده آنها، می‌توان ذخایر معدنی را پیدا کرد.

در اولین مرحله اکتشاف، زمین‌شناسان با بررسی نقشه‌های زمین‌شناسی و بازدید صحرایی، مناطقی را که احتمال تشکیل ذخایر معدنی در آن وجود دارد، شناسایی می‌کنند. برای مثال زمین‌شناسان می‌دانند که ذخایر زغال‌سنگی را همواره باید در سنگ‌های رسوبی جست‌وجو کرد و یا اینکه آب‌وهوای گرم و خشک، مستعد تشکیل سنگ رسوبی تبخیری مانند گچ و نمک و ژپس است. در مرحله بعد، آنها با آگاهی از ویژگی‌های فیزیکی کانسنگ‌ها، مانند خواص مغناطیسی کانسنگ، رسانایی الکتریکی سنگ‌ها، تغییرات میدان گرانش زمین و... با کمک روش‌های ژئوفیزیکی، ذخایر زیرسطحی و پنهان را شناسایی می‌کنند.

پس از مشخص شدن موقعیت تقریبی یک توده معدنی در زیر زمین، حفاری با دستگاه‌های پیشرفته و نمونه‌برداری از عمق، تا حدی که ماده معدنی وجود دارد، انجام می‌گیرد. این حفاری‌ها ممکن است تا صدها متر ادامه یابد. نمونه‌های تهیه شده از حفاری، برای شناسایی کانی‌های موجود در آنها و تعیین عیار فلز یا کیفیت ماده معدنی به آزمایشگاه حمل و در آنجا توسط میکروسکوپ و یا دستگاه‌های تجزیه شیمیایی مورد بررسی قرار می‌گیرند. در نهایت، زمین‌شناسان یا مهندسان اکتشاف، تمامی داده‌های به دست آمده را با نرم‌افزارها تحلیل و مقدار ذخیره معدن و عیار میانگین ماده معدنی را تعیین می‌کنند.

استخراج معدن و فراوری ماده معدنی

پس از پایان عملیات اکتشاف، با تعیین اقتصادی بودن ذخایر، عملیات استخراج آغاز می‌شود. روش استخراج، بر اساس شکل و چگونگی قرارگیری توده معدنی در پوسته، تعیین می‌شود. استخراج به

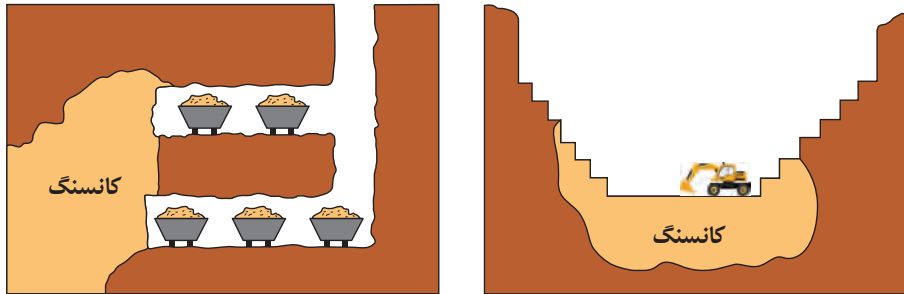
جمع‌آوری اطلاعات

- در مورد ذخایر پلاسره‌های ایران اطلاعات جمع‌آوری کنید و محل آنها را بر روی نقشه ایران نشان دهید.

لذت زمین شناسی

● باز دیده‌های صحرایی در شرایط هیجان‌انگیز، در مناطق مختلف انجام می‌شود. دیدن مناطق جدید و بکر، کار کردن در روز و اقامت شبانه در صحرا (فیلد) و دور از هیاهوی شهرها و کشف رازهای زمین، از بخش‌های لذت‌بخش و جذاب زندگی زمین‌شناسان است. در واقع محل اصلی کار زمین‌شناس، طبیعت است.

روش‌های روباز یا زیرزمینی صورت می‌گیرد (شکل ۸-۲). همان‌طور که گفته شد، در کانسنگ استخراج شده از معدن، افزون بر کانه، کانی‌های باطله نیز وجود دارند. برای مثال در کانسارهای مس، عنصر مس در کانه‌های مختلفی مانند کالکوپیریت و تعدادی کانه دیگر، یافت می‌شود. عیار عنصر مس در این کانسنگ‌ها کمتر از یک درصد است. بنابراین بیش از نود و نه درصد کانسنگ استخراج شده، باطله است که باید از آن جدا شود.



(ب) روش زیرزمینی

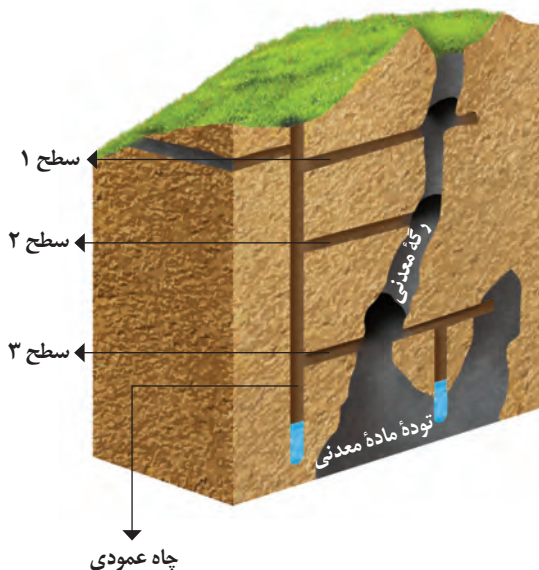
(الف) روش روباز

شکل ۸-۲- روش‌های استخراج ماده معدنی

پیوند با ریاضی

● عیار اقتصادی طلا در ذخایر آن، حدود ۲ ppm است. محاسبه کنید در یک معدن طلا، از ۳ تن سنگی که استخراج می‌شود، چند گرم طلا به دست می‌آید؟

به فرایند جداسازی کانی‌های مفید اقتصادی از باطله، کانه‌آرایی (فراوری) ماده معدنی گفته می‌شود که در کارخانه‌های کنار معدن انجام می‌شود. محصول نهایی (کنسانتره) که همان کانه جدا شده از کانسنگ می‌باشد، برای جداسازی فلز به کارخانه ذوب، منتقل، یا به‌طور مستقیم یا با تغییر اندک در صنعت استفاده می‌شود.



شکل ۹-۲- نحوه بهره‌برداری از معدن زیرزمینی

گوهرها، زیبایی شگفت‌انگیز دنیای کانی‌ها

از روزگاران کهن، انسان از زیبایی

و ویژگی‌های خیره‌کننده کانی‌ها، برای زیباتر جلوه دادن خود استفاده می‌کرده است. این موضوع، به فطرت زیادوستی و زیبایی‌شناسی که خداوند متعال در نهاد انسان تعبیه کرده است، برمی‌گردد. شاید این یکی از مهم‌ترین دلایل ایجاد علم گوهرشناسی و پیشرفت‌های بعدی آن بوده است. لازم به ذکر است که تنها از میان حدود ۴۰۰۰ کانی شناخته شده، حدود ۱۰۰ کانی، ویژگی‌های لازم یک گوهر را دارند. گوهرها یا جواهر، شامل سنگ‌ها و کانی‌های قیمتی و نیمه‌قیمتی است که به دلیل زیبایی، درخشش، سختی زیاد، رنگ و کمیاب بودن، از سایر کانی‌ها و سنگ‌ها متمایز هستند و مورد توجه

جمع‌آوری اطلاعات

● در مورد فرایند فراوری طلا از کانسنگ، اطلاعات جمع‌آوری کرده و در کلاس ارائه دهید.

خاص انسان‌ها قرار می‌گیرند. سختی کانی‌ها، براساس مقیاس سختی موهس توصیف می‌شود. در این مقیاس که بین عدد ۱ (نرم‌ترین در تالک) تا عدد ۱۰ (سخت‌ترین در الماس) تقسیم‌بندی می‌گردد زیبایی رنگ و درخشندگی گوهرهایی مانند یاقوت، زمرد، فیروزه، عقیق و آمیتیست (کوارتز بنفش)، توجه هر کسی را به خود جلب می‌کند. گوهرها، نمونه‌های بسیار زیبا و خاص و کمیاب دنیای کانی‌ها هستند که توسط فرایندهای ماگمایی، گرمایی و دگرگونی، اکثراً تحت شرایط خاصی مانند دما و فشار زیاد در اعماق زمین و گاهی با حضور مواد فرّار به وجود می‌آیند.

بیشتر بدانید

- استفاده از گوهرها به حدود ۹۰۰۰ سال پیش از میلاد برمی‌گردد. احتمالاً اولین بار هندی‌ها و ایرانیان و پس از آنها مصریان در ۷۰۰۰ سال قبل از میلاد مسیح، از گوهرها استفاده می‌کردند. وجود آویزها و مهره‌های آرایشی از جنس تالک، اسلیت، مرمر و صدف در آثار مربوط به ۱۰۶۵۰ سال پیش در بلندی‌های برادوست کردستان نشانگر این مطلب است. همچنین کشف مهره‌های زینتی از جنس فیروزه و سنگ لاجورد در تپه زاغه در جنوب قزوین، مربوط به ۸ تا ۹ هزار سال پیش و نیز پیدا شدن مهره‌های فیروزه‌ای در قبرهای دره محمد جعفر متعلق به ۶ هزار سال پیش، و داد و ستد تالک، سنگ چخماق، مرمر سفید، عقیق، فیروزه، صدف دریایی و سنگ لاجورد، بین عیلامیان و سومری‌ها در شهر تپه یحیی در ۵ تا ۶ هزار سال قبل، همگی نشان‌دهنده قدمت و تاریخ استفاده از گوهرها و سنگ‌های زینتی در ایران هستند.
- در ایران، از قرن دوم تا یازدهم هجری قمری، حدود ۳۵ کتاب در زمینه کانی‌شناسی و گوهرشناسی تألیف شده که معتبرترین آنها از لحاظ علمی، کتاب‌های الجواهر ابوریحان بیرونی و تنسوق نامه خواجه نصیرالدین توسی است.
- جواهرات، اغلب در ابعاد کوچک یافت می‌شوند و جرم آنها برحسب قیراط اندازه‌گیری می‌شود. هر قیراط معادل ۰/۲ گرم می‌باشد.

پاسخ دهید

- حداقل یک دلیل بیاورید که کانی کلسیت یا ژئیس نمی‌تواند یک کانی قیمتی باشد؟


اگر یک گوهر، سختی کافی نداشته باشد، در برابر خراشیدگی مقاوم نیست و از بین می‌رود. برخی خواص دیگر، مانند بازی رنگ، به کانی‌ها درخشندگی و زیبایی خاصی می‌دهد. مانند کانی کریزوبریل با درخشندگی چشم‌گره و نوعی گوهر سیلیسی به نام اُپال (معروف به اُپال گرانبها) که درخشش رنگین‌کمانی دارد (شکل ۲-۱۰).



پ) درخشش رنگین‌کمانی در گوهر اُپال



ب) شباهت گوهر کریزوبریل با چشم‌گره



الف) درخشندگی در کانی کریزوبریل (گوهر چشم‌گره)

شکل ۲-۱۰

- گوهرها را چگونه تراش می دهند؟
- تفاوت الماس و برلیان در چیست؟
- از الماس در سر مته حفاری استفاده می کنند. علت چیست؟



الماس: گوهری با ترکیب کربن خالص است که در دما و فشار بسیار زیاد، در گوشته زمین تشکیل می شود. این کانی، افزون بر استفاده گوهری، در ساینده ها نیز کاربرد دارد (شکل ۱۱-۲).

شکل ۱۱-۲ الماس

یاقوت: نام علمی آن کزندوم (اکسید آلومینیم) است. کانی کزندوم به رنگ آبی و سرخ دیده می شود، رنگ آبی آن یاقوت کبود و رنگ قرمز آن را یاقوت سرخ می گویند. این کانی بعد از الماس، سخت ترین کانی می باشد (شکل ۱۲-۲).



شکل ۱۲-۲ انواع کزندوم

زمرد: معروف ترین و گران ترین سیلیکات بریلیم که به رنگ سبز یافت می شود را «زمرد» می نامند (شکل ۱۳-۲).



شکل ۱۳-۲ زمرد

گارنت: از کانی‌های سیلیکاتی است که در سنگ‌های دگرگونی یافت می‌شود و معمولاً به رنگ سبز، قرمز، زرد، نارنجی و ... دیده می‌شود. فراوان‌ترین رنگ آن، قرمز تیره است (شکل ۲-۱۴).



شکل ۲-۱۴- گارنت



عقیق: کانی سیلیسی با ترکیب شیمیایی SiO_2 با رنگ‌های متنوع است که به نام‌ها و تراش‌های مختلف در بازار عرضه می‌شود. عقیق، یک نوع کوارتز نیمه قیمتی است که در بسیاری از نقاط ایران یافت می‌شود (شکل ۲-۱۵).



شکل ۲-۱۵- عقیق

زبرجد: به نوع شفاف و قیمتی کانی الیون، زبرجد می‌گویند. این کانی، سیلیکاتی و به رنگ سبز زیتونی است به همین دلیل به آن الیون گفته می‌شود (شکل ۲-۱۶).



شکل ۲-۱۶- زبرجد

فیروزه: از گوهرهای قدیمی شناخته شده که دارای ترکیب فسفاتی است و برای اولین بار در سنگ‌های آتشفشانی اطراف نیشابور یافت شد و به دیگر نقاط جهان صادر گردید. (شکل ۲-۱۷).

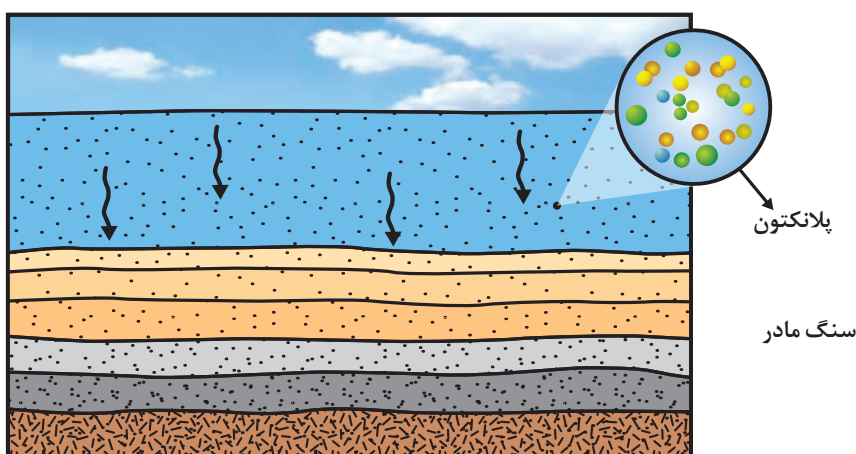


شکل ۲-۱۷. فیروزه (تورکوایز)

سوخت‌های فسیلی

انرژی، برای انجام تمامی فعالیت‌های انسان ضروری است. انسان از گذشته دور، از منابع طبیعی برای تولید انرژی استفاده کرده است. از میان منابع مختلف انرژی در دسترس، سوخت‌های فسیلی اهمیت زیادی دارند و در بیشتر کشورهای جهان، به عنوان منابع اصلی تولید انرژی به شمار می‌روند. سوخت‌های فسیلی از تجزیه مواد آلی گیاهی و جانوری به وجود می‌آیند که در رسوبات یا سنگ‌های رسوبی ذخیره شده‌اند.

نفت و گاز: هیدروکربن‌هایی هستند که به طور طبیعی، به صورت مایع، گاز و نیمه جامد در زمین وجود دارند. برخلاف زغال سنگ که در محیط‌های خشکی مانند محیط مردابی (اکسیژن اندک) تشکیل می‌شود، نفت خام در محیط دریایی کم عمق (کمتر از ۲۰۰ متر) به وجود می‌آید. در این محیط‌ها، جاندارانی مانند پلانکتون‌ها، مهم‌ترین منشأ مواد آلی هستند. بقایای این موجودات پس از مرگ، در رسوبات ریزدانه بستر دریا مدفون می‌شوند. ماده آلی (نظیر اسیدهای چرب) باقیمانده که توسط لایه‌های بالایی پوشیده و حفظ شده، در لایه‌های



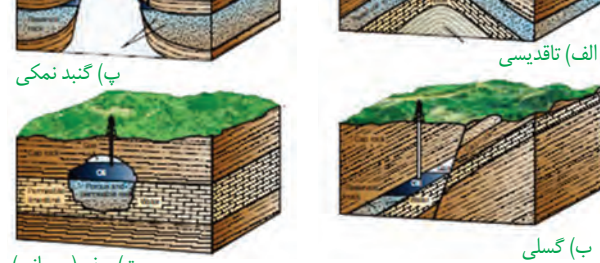
شکل ۲-۱۸. تشکیل ذخایر نفت و گاز در محیط‌های دریایی

رسوبات ریز یعنی سنگ منشأ (سنگ مادر) نفت را تشکیل می‌دهد (شکل ۲-۱۸). مواد آلی در طی تبدیل رسوب ریزدانه به سنگ مادر، از طریق یک سری واکنش‌های شیمیایی به نفت خام تبدیل می‌شود. در فرایند تشکیل ذخایر نفتی، عواملی مانند دما، فشار، وجود باکتری غیرهوازی، زمان و محیطی بدون اکسیژن اهمیت فراوانی دارند (شکل ۲-۱۸).

● اگر در فرایند تشکیل نفت خام، فشار و دما از حد مورد نیاز برای تشکیل نفت، بیشتر یا کمتر شود، چه اتفاقی رخ می‌دهد؟

مهاجرت نفت: نفت و گازی که در سنگ مادر تشکیل می‌شود، همراه با آب دریا که از زمان رسوب گذاری در سنگ به دام افتاده، ناشی از فشار طبقات فوقانی، از طریق نفوذپذیری سنگ‌ها، به سمت بالا و اطراف حرکت می‌کند که به آن مهاجرت اولیه نفت می‌گویند. اگر در طی مهاجرت اولیه، مانعی در مسیر حرکت آب و نفت و گاز نباشد، به سطح زمین راه یافته و چشمه‌های نفتی را به وجود می‌آورد. در این صورت نفت، در سطح زمین تبخیر، دچار اکسایش و غلیظ‌شدگی می‌شود و ذخایر قیر طبیعی را به وجود می‌آورد که نمونه‌ای از آنها در استان‌های خوزستان و ایلام دیده می‌شود.

اگر نفت و گاز در مسیر مهاجرت خود، به لایه‌ای از سنگ‌های نفوذناپذیر مانند سنگ گچ یا شیل برسند، دیگر قادر به ادامه مهاجرت نخواهند بود. این لایه نفوذناپذیر (پوش سنگ) جلوی حرکت نفت و گاز به سطح زمین را می‌گیرد و آنها را در سنگ مخزن که یکی از اجزای نفت گیر است، به دام می‌اندازد. ویژگی مهم سنگ مخزن، وجود تخلخل و نفوذپذیری زیاد آن است. مانند: ماسه سنگ و سنگ آهک حفره‌دار (ریف‌های مرجانی).



پ) گنبد نمکی

الف) تاقدیسی

ت) ریف (مرجانی)

ب) گسلی

شکل ۱۹-۲. انواع تله‌های نفتی

مخازن نفتی (نفت گیرها و تله‌های نفتی)، دارای شکل (وضعیت) هندسی مناسب برای تجمع و ذخیره‌سازی نفت می‌باشند. در داخل سنگ مخزن، به دلیل اختلاف چگالی، آب شور، نفت و گاز از هم جدا می‌شوند که به این جدایش، مهاجرت ثانویه نفت گفته می‌شود. نفت گیرها انواع مختلفی دارند. مانند: تاقدیسی، گسلی، گنبد نمکی، ریف مرجانی و ...

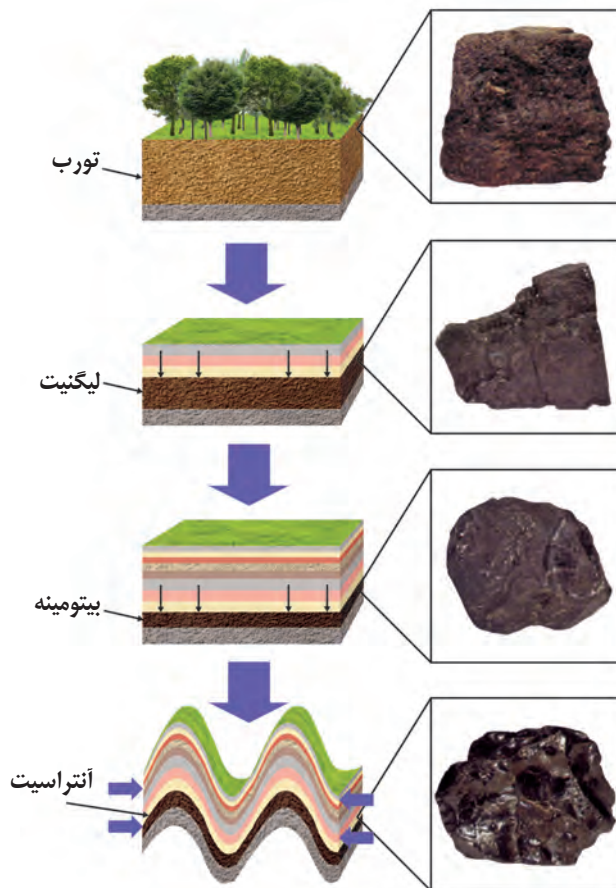
گفته می‌شود که ۹۹/۹ درصد نفتی که در طول تاریخ زمین تولید شده، به سطح زمین رسیده و از بین رفته و ۰/۱ درصد آن، همه ذخایر نفت موجود را تشکیل داده است.



زغال سنگ: یک سوخت فسیلی جامد است که از مواد آلی در محیط‌های خشکی به وجود می‌آید. این مواد آلی، بیشتر از گیاهان جنگل حاصل می‌شوند. آنها، در باتلاق‌ها انباشته شده و توسط رسوبات پوشیده می‌شوند و بدون حضور اکسیژن (توسط باکتری غیرهوازی) به مرور زمان، به تورب که یک نوع زغال نارس است، تبدیل می‌شوند. در برخی کشورها مانند ایرلند، تورب به عنوان یک ماده سوختی بهره‌برداری می‌شود (شکل ۲۰-۲).

شکل ۲۰-۲. تورب (پوده)


در طی میلیون‌ها سال، تورب در زیر فشار رسوبات و وزن سنگ‌های بالایی، فشرده‌تر شده و آب و مواد فرّار مانند کربن دی‌اکسید و متان از آن خارج می‌شود. با خروج این مواد، در نهایت، ضخامت تورب که ماده‌ای پوک و متخلخل است، کاهش می‌یابد و به لیگنیت تبدیل می‌شود. با افزایش تراکم، لیگنیت به زغال سنگ‌های مرغوب‌تری به نام بیتومینه و سپس آنتراسیت تبدیل می‌شود (شکل ۲-۲۱). در فرایندهای زغال‌شدگی از تورب تا آنتراسیت، تغییرات زیادی رخ می‌دهد و سبب می‌شود با خروج تدریجی آب و مواد فرّار، درصد کربن در سنگ حاصل، افزایش یابد و کیفیت و توان تولید انرژی زغال سنگ بهتر شود.



شکل ۲-۲۱- مراحل تشکیل آنتراسیت (زغال رسیده)

فکر کنید

- وجود ذخایر زغال سنگ در سیبری که امروزه، سرزمینی سرد و بدون جنگل‌های انبوه می‌باشد را چگونه توجیه می‌کنید؟
- لایه‌های زغال دار طبس، نشان دهنده چه نوع آب‌وهوایی در گذشته این منطقه است؟
- چرا برخی از مناطق، با وجود جنگلی بودن، مکان مناسبی برای تشکیل زغال سنگ نیستند؟



● **سنگ شناسی (پترولوژی):** سنگ شناسی، شاخه‌ای از زمین شناسی است که در آن شیوه تشکیل، منشأ، رده بندی و ترکیب سنگ های آذرین و دگرگونی بررسی می شود. فرایندهای دگرگونی، آتش فشانی، نفوذ توده های آذرین در درون زمین و حتی در ماه و دیگر سیاره ها و مناطق زمین گرمایی، توسط پترولوژیست ها (سنگ شناسان) مورد مطالعه قرار می گیرد.



● **زمین شناسی اقتصادی:** زمین شناسانی که در موضوع زمین شناسی اقتصادی تخصص دارند، با بهره گیری از اصول زمین شناسی و پراکندگی عناصر در پوسته زمین، به دنبال مکان هایی هستند که در آن ذخایر معدنی ارزشمند مانند مس، آهن، طلا، نقره، الماس و دیگر گوهرها و ... قرار دارند.





● **زمین شناسی نفت:** زمین شناس نفت، از تخصص خود در شناخت، چگونگی تشکیل و مهاجرت نفت در اعماق چند کیلومتری زمین استفاده می کند. همچنین مکان هایی که نفت می تواند در آنجا انباشته شود، شناسایی و مکان هایی از یک میدان نفتی یا گازی که برای حفاری و استخراج نفت مناسب است را مشخص می کند.



● **ژئوشیمی:** کلارک و محققان دیگر، مطالعات زیادی درباره ترکیب سیارات به ویژه زمین انجام دادند و یافته های آنها، پایه علم ژئوشیمی امروزه را تشکیل داده است. مطالعه روی ترکیب سیارات که در واقع همان ترکیب تقریبی زمین است، تأثیر بسزایی در شناخت عناصر و چگونگی تشکیل آنها دارد و همچنین توزیع نامساوی عناصر در زمین را بررسی می کند.

متخصصین فوق، در سازمان زمین شناسی و اکتشافات معدنی کشور، صنایع و معادن، شرکت ملی نفت، گاز، پتروشیمی و جواهر سازی، کمک شایانی در بهبود اقتصاد کشور خواهند داشت.



جنوب استان لرستان



منابع آب و خاک

فضانوردان، زمین را یک سیاره آبی و بسیار زیبا توصیف کرده‌اند. آب با حالت‌های جامد، مایع و گاز، باعث تغییرات وسیعی در لایه سطحی و پیرامون کره زمین می‌شود. آب، نماد زندگی است و در سفری پایان‌ناپذیر بین سنگ کره و هوا کره، سبب تغییر پوسته زمین، فرسایش، تغییرات اقلیمی و... می‌شود.

آیا می‌توان بدون آب به زندگی ادامه داد؟ سطح زمین بدون آب، چه منظره‌ای خواهد داشت؟ در آینده نزدیک، با افزایش روزافزون جمعیت و توسعه کشاورزی و صنعت، گرم شدن کره زمین و... بشر با چه چالش‌هایی برای تأمین آب شیرین روبه‌رو خواهد شد؟

آیا می‌توان بدون خاک به زندگی ادامه داد؟ خاک، چه نقشی در زندگی گیاهان و جانوران دارد؟ آیا می‌دانید خاک، چگونه و از چه موادی تشکیل می‌شود؟



فرسایش

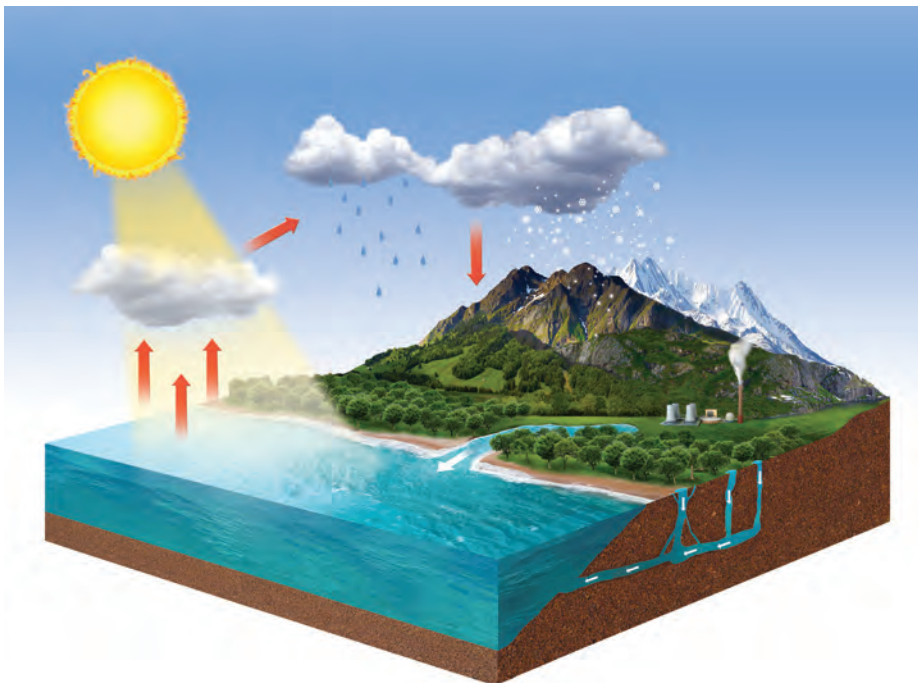


فرونشست زمین

زندگی انسان و سایر جانداران، بدون آب امکان پذیر نیست. آب مورد نیاز، از منابع آب‌های سطحی و زیرزمینی تأمین می‌شود. بارش‌های جوی در تأمین این منابع، نقش اساسی دارند. بخشی از بارش‌ها در یک حوضه آبریز، قبل از رسیدن به سطح زمین، توسط شاخ و برگ گیاهان گرفته می‌شود و برگاب را به وجود می‌آورد (شکل ۱-۳-الف) که مقداری از آن به صورت تبخیر، مجدداً به هوا کره برمی‌گردد. بخشی دیگر که به سطح زمین می‌رسد، یا تبخیر می‌شود، یا به صورت رواناب، به سوی مناطق پست‌تر حوضه آبریز جریان می‌یابد. بخشی از رواناب به داخل زمین، نفوذ و منابع آب زیرزمینی را تغذیه می‌کند. بخش عمده آب زیرزمینی، سرانجام از طریق چشمه، چاه یا قنات، مجدد به سطح زمین راه می‌یابد (شکل ۱-۳-ب).

با هم بیندیشید

- چه عواملی بر مقدار برگاب و رواناب مؤثرند؟
- تبخیر در چه بخش‌هایی از چرخه آب صورت می‌گیرد؟



ب) چرخه آب



الف) نمایی از برگاب

شکل ۱-۳

آب جاری، با آنکه در مقایسه با حجم کل آب کره، بسیار ناچیز است اما، در تغییرات سطح زمین و تشکیل منابع آب جهت مصارف گوناگونی همچون آب آشامیدنی، کشاورزی، صنعت، تولید برق و ... اهمیت زیادی دارد.



جمع آوری اطلاعات

- شکل روبه‌رو، شش حوضه آبریز اصلی ایران را نشان می‌دهد. با جستجو در منابع معتبر، یک یا دو رودخانه اصلی در هر حوضه را مشخص کنید.



آبدهی: سرعت حرکت آب در نقاط مختلف یک رود، متغیر است. اندازه‌گیری سرعت آب و آبدهی رود، به صورت روزانه و یا در دوره‌های زمانی طولانی‌تر و به روش‌های مختلف انجام می‌شود. با تعیین سرعت آب در یک رود یا آبراهه و اندازه‌گیری سطح مقطع آن، می‌توان مقدار آبدهی (دبی) را با استفاده از رابطه زیر محاسبه کرد (شکل ۲-۳).

$$Q=A \times V$$



Q : دبی برحسب متر مکعب بر ثانیه
 A : مساحت سطح مقطع جریان آب برحسب متر مربع
 V : سرعت جریان آب برحسب متر بر ثانیه
 به بیان دیگر آبدهی (دبی) عبارت است از، حجم آبی که در واحد زمان (ثانیه) از مقطع عرضی رودخانه عبور می‌کند.

شکل ۲-۳. ایستگاه اندازه‌گیری آبدهی رود

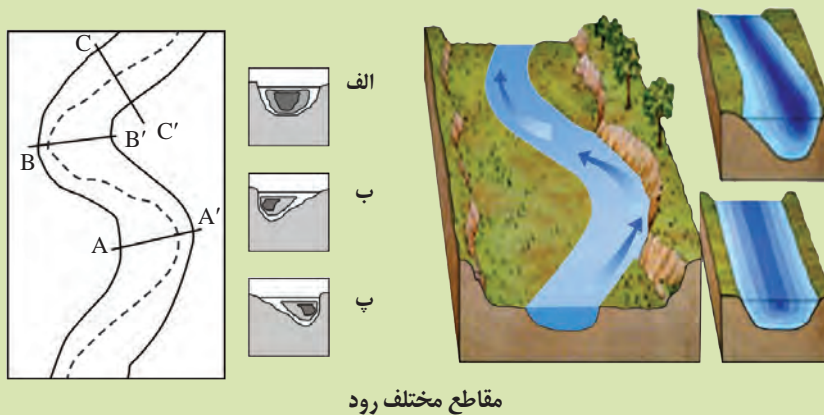
- آب در رودی با سطح مقطع ۱۰۰ مترمربع، و با سرعت متوسط ۲ متر بر ثانیه در جریان است. آبدهی رود را محاسبه کنید.
- اگر این رود به یک تالاب منتهی شود، در طی یک هفته، چند متر مکعب آب را وارد تالاب می‌کند؟

پیوند با ریاضی

آبدهی رود، در بهار، به علت ذوب برف‌ها و افزایش بارندگی، افزایش می‌یابد. در ادامه در طول تابستان، معمولاً آبدهی رود کاهش می‌یابد. در مناطق مرطوب، که مقدار بارندگی زیاد و تبخیر، کم است، رودها از نوع دائمی هستند. در این رودها، بخشی از آب که همیشه جریان دارد، آبدهی پایه را تشکیل می‌دهد. آب این رودها، در زمانی که بارندگی نیست، از ذوب برف و یخ نواحی مرتفع و یا از ورود آب‌های زیرزمینی به داخل آنها تأمین می‌شود. در مناطق گرم و خشک که مقدار بارندگی کم و تبخیر زیاد است، بیشتر رودها، موقتی و فصلی هستند.

فکر کنید

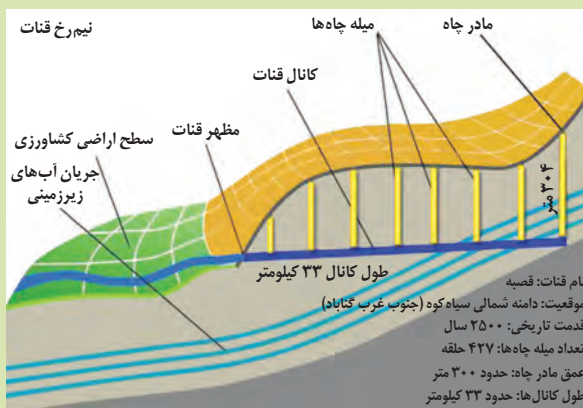
- ۱- مقدار رسوب‌گذاری و فرسایش را در نقاط A و A' مقایسه کنید.
- ۲- هریک از نیم‌رخ‌های الف و ب و پ مربوط به کدام مقطع رود می‌باشد؟



آب زیرزمینی

انسان‌های نخستین، از آب زیرزمینی برای آشامیدن و پختن غذا استفاده می‌کردند. به تدریج، با گذشت زمان از این آب، برای کشاورزی و گردش آسیاب‌ها نیز بهره می‌بردند. مردم ایران زمین، از قدیم، آب‌های زیرزمینی را با احداث قنات به سطح زمین می‌آوردند و به روستاها و شهرهای خود می‌رساندند. آب زیرزمینی، آبی است که در منافذ و فضاهای خالی لایه‌های نزدیک به سطح زمین جمع می‌شود و از طریق چاه، چشمه و قنات، قابل بهره‌برداری می‌گردد.

جمع‌آوری اطلاعات



- قدیمی‌ترین قنات جهان، در کدام استان کشور قرار دارد و نام آن چیست؟
- حدود ۴۰۰۰۰ رشته قنات در کشور ما وجود دارد. بیشترین تعداد قنات، در کدام یک از شش حوضه آبریز اصلی ایران حفر شده‌اند؟ دلیل آن چیست؟

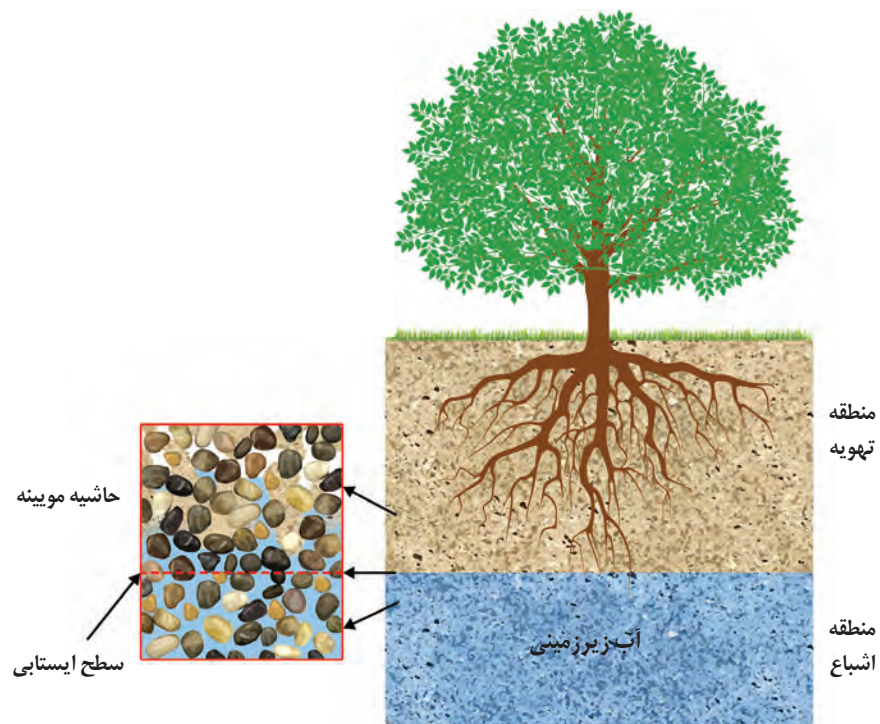
مفاخر ایرانی

● برخی از دانشمندان ایرانی در مورد آب‌های زیرزمینی، نظرات ارزنده‌ای ارائه کرده‌اند. ابوبکر محمد بن الحسن الحاسب کرجی (قرن چهارم و پنجم هـ.ق) کتابی با عنوان «استخراج آب‌های پنهانی» درباره منشأ و روش‌های استخراج آب زیرزمینی نوشته است. ابوریحان بیرونی (قرن چهارم و پنجم هـ.ق) در کتاب «آثار الباقیه» منشأ آب چشمه‌ها و علت تغییر مقدار آب آنها را ذکر کرده است. وی خروج آب از چاه‌های آرتزین را براساس قانون ظروف مرتبطه بیان کرده است. ابو حاتم مظفر اسفرازی (قرن پنجم و ششم هـ.ق) در «رساله آثار علوی» مطالبی درباره شکل‌گیری چشمه‌ها و رودها، نفوذ آب به داخل زمین، تغییر کیفیت آب به دلیل وجود کانی‌های قابل حل در مسیر آب، عنوان کرده است.



آب زیرزمینی قابل بهره‌برداری، گرچه فقط حجم کمی از آب کره را تشکیل می‌دهد، ولی همین مقدار، بزرگ‌ترین ذخیره آب شیرین قابل بهره‌برداری در خشکی‌ها است.

سطح ایستابی: در هنگام نفوذ آب به داخل زمین، بخشی از آب نفوذی به سطح ذرات خاک یا سنگ می‌چسبد، به طوری که منافذ و فضاهای خالی، توسط آب و هوا پر می‌شود و منطقه تهویه شکل می‌گیرد. بخشی از آب نفوذی، به طرف عمق بیشتر حرکت می‌کند تا به سنگ بستر برسد، و منطقه اشباع را ایجاد می‌کند. تمام فضاهای خالی منطقه اشباع، توسط آب پر شده است. سطح بالایی این منطقه، سطح ایستابی است (شکل ۳-۳).



شکل ۳-۳. توزیع عمقی آب زیرزمینی و تشکیل سطح ایستابی

پیوند با فیزیک

- چه نیرویی باعث تشکیل حاشیه مویینه می‌شود؟
- اندازه ذرات خاک، چه تأثیری بر ضخامت حاشیه مویینه دارد؟
- هنگامی که عمق سطح ایستابی کم باشد به طوری که حاشیه مویینه، به سطح زمین برسد، چه اتفاقی می‌افتد و چه مشکلاتی ایجاد می‌کند؟

عمق سطح ایستابی در مناطق مختلف، متفاوت است. در بعضی مناطق ممکن است تا صدها متر برسد. سطح ایستابی، تقریباً از توپوگرافی (عارضه‌نگاری*) سطح زمین تبعیت می‌کند. هنگامی که سطح ایستابی با سطح زمین برخورد کند، آب زیرزمینی به صورت چشمه و گاهی



به صورت برکه در سطح زمین ظاهر می شود و در صورتی که سطح ایستابی بر سطح زمین منطبق شود یا در نزدیک آن قرار گیرد، باتلاق یا شوره زار تشکیل می شود (شکل ۳-۴).

شکل ۳-۴. تشکیل برکه با آب زیرزمینی

یادآوری


- در سال های گذشته در مورد عمق سطح ایستابی خوانده بودید. چه عواملی بر تغییرات سطح ایستابی مؤثر است؟
- در مورد عوامل مؤثر بر تغییرات عمق سطح ایستابی در استان محل زندگی خود مطالبی تهیه کرده و در کلاس ارائه دهید.

تخلخل و نفوذپذیری: برای تشکیل آبخوان، لازم است رسوبات و سنگ ها، دارای فضاهای خالی باشند. این فضاهای خالی یا منافذ اولیه هستند که از ابتدای تشکیل در آنها وجود داشته اند، یا پس از تشکیل سنگ به صورت ثانویه بر اثر شکستگی، هوازدگی، انحلال یا عوامل دیگر در آن به وجود آمده اند. درصد فضاهای خالی (تخلخل) رسوب یا سنگ، طبق رابطه زیر، محاسبه می شود.

$$\text{درصد تخلخل} = \frac{\text{حجم فضاهای خالی (m}^3\text{)}}{\text{حجم کل (m}^3\text{)}} \times 100$$

پیوند با ریاضی

- بر اثر بهره برداری از یک آبخوان در یک دشت به مساحت 200×10^6 متر مربع و تخلخل 30% سطح ایستابی 10 متر افت کرده است. چه حجمی از آب تخلیه شده است؟
- چنانچه این حجم آب در طی 30 روز پمپاژ شده باشد، میانگین آبدهی چاه ها چقدر بوده است؟

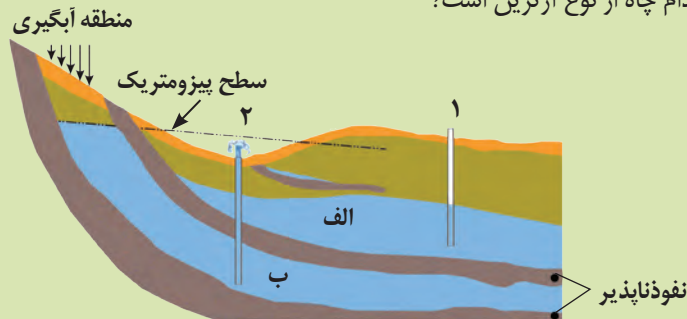


شکل ۳-۵. تخلخل و نفوذپذیری

هر چه درصد تخلخل خاک یا سنگ بیشتر باشد، آب بیشتری را می تواند در خود نگه دارد. اما لزوماً باعث عبور آب نمی شود. مثلاً سنگ پا، بسیار متخلخل است اما، آب از آن عبور نمی کند. رس ها بسیار متخلخل اند، ولی به علت ریز بودن ذرات، نفوذپذیری بسیار اندکی دارند. میزان نفوذپذیری خاک به میزان ارتباط و اندازه منافذ بستگی دارد. برخی خاک ها، دارای تخلخل زیاد و نفوذپذیری کم هستند و عبور آب از درون آنها، به دشواری صورت می گیرد. درصد تخلخل آبخوان، بیانگر مقدار آبی است که می تواند در آن ذخیره شود و نفوذپذیری، نشانگر توانایی آبخوان در انتقال و هدایت آب می باشد.

● در سال‌های گذشته، با آبخوان و انواع آن آشنا شدید. در این باره به پرسش‌های زیر پاسخ دهید:

- ۱- آبخوان چیست؟
- ۲- در شکل زیر، نوع آبخوان‌های الف و ب را مشخص کنید.
- ۳- چاه‌های شماره ۱ و ۲ چه تفاوتی با یکدیگر دارند؟
- ۴- کدام چاه از نوع آرتزین است؟



آبخوان: سنگ‌ها و رسوبات مختلف از نظر تشکیل آبخوان و میزان آبدهی، ویژگی‌های متفاوتی دارند. آبرفت‌ها و سنگ‌های آهکی حفره‌دار (آهک کارستی) قابلیت تشکیل آبخوان را دارند ولی، شیل‌ها، سنگ‌های دگرگونی و آذرین، آبخوان خوبی تشکیل نمی‌دهند به طوری که، معمولاً یا چشمه‌ای در آنها به وجود نمی‌آید یا در صورت تشکیل، چشمه‌هایی با آبدهی بسیار کم و فصلی دارند. در حالی که در سنگ‌های آهکی حفره‌دار، معمولاً چشمه‌های پر آب و دائمی ایجاد می‌شود (شکل ۳-۶). افزون بر آن، عواملی مانند شرایط آب و هوایی، میزان نفوذپذیری، تخلخل، شیب زمین و ساختمان زمین‌شناسی محل بر نوع آبخوان تأثیر دارد. اگر چاهی در یک لایه آبدار آزاد حفر شود، تراز آب در چاه، نمایانگر سطح ایستابی و در لایه آبدار تحت فشار، سطح پیزومتريك است.



ب) چشمه کارستی گاماسیاب نهبوند



الف) چشمه کارستی طاق بستان کرمانشاه

شکل ۳-۶

حرکت آب زیرزمینی: آب برای حرکت در داخل زمین، نیاز به انرژی دارد. آب زیرزمینی به طور کلی، از مکانی با انرژی بیشتر (سطح ایستابی بالاتر) به مکانی با انرژی کمتر در مسیری منحنی شکل حرکت می‌کند. این حرکت خیلی کندتر از حرکت آب در رودخانه است. حرکت آب در داخل آبخوان، از کمتر از یک متر تا صدها متر در روز تغییر می‌کند.

ترکیب آب زیرزمینی: ترکیب آب زیرزمینی از محلی به محل دیگر تغییر می‌کند. آب زیرزمینی، به طور عمده، حاوی کلریدها، سولفات‌ها و بی‌کربنات‌های کلسیم، منیزیم، سدیم، پتاسیم و آهن است. بسیاری از عناصر و مواد دیگر نیز به مقدار بسیار کم در آب زیرزمینی وجود دارد. غلظت نمک‌های حل شده در آب زیرزمینی به جنس کانی‌ها و سنگ‌ها، سرعت نفوذ آب، دما و مسافت طی شده توسط آب بستگی دارد. آب، ضمن حرکت آهسته در زیر زمین، فرصت زیادی برای انحلال کانی‌های مسیر خود دارد. مقدار نمک‌های محلول در آب زیرزمینی موجود در سنگ‌های آذرین و دگرگونی، به طور معمول کم و برای آشامیدن مطلوب است. سنگ‌های تبخیری مانند سنگ نمک و گچ، انحلال‌پذیری زیادی دارند و از این رو، آب این گونه آبخوان‌ها، عموماً دارای املاح فراوان هستند. آب موجود در سنگ‌های کربناتی، معمولاً از نوع آب‌های سخت است، یعنی درصد یون‌های کلسیم و منیزیم بیشتری دارد. این گونه آب‌ها، به خوبی با صابون کف نمی‌کنند و رسوباتی را در لوله‌ها و ظرف‌ها ته‌نشین می‌کنند، به همین جهت، استفاده از آنها در صنعت و آشامیدن دارای محدودیت‌هایی است. لایه‌های آبدار موجود در رسوبات رودخانه‌ای و آبرفتی به طور معمول، حاوی آب شیرین هستند. در نواحی خشک، مانند مناطق کویری ایران، در برخی نقاط، شوری آب چنان زیاد است که برای بسیاری از موارد، نامناسب است.

گفت‌وگو کنید

- در مناطق خشک، هر چقدر بهره‌برداری از آب‌های زیرزمینی بیشتر باشد، کیفیت آب، نامطلوب‌تر است. دلیل آن را توضیح دهید.
- در شهرهایی که نزدیک سواحل دریاها قرار دارند با پایین آمدن سطح ایستابی، چه مشکلاتی را ایجاد می‌کند؟

پیوند با شیمی

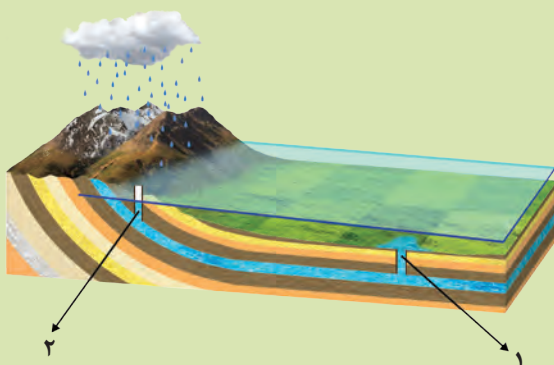
- سختی آب، به علت نمک‌های محلول در آن است. یون‌های کلسیم و منیزیم، به عنوان فراوان‌ترین یون‌های موجود در آب، ملاک تعیین سختی آب هستند.



- نمونه‌آبی دارای ۵۰ میلی‌گرم در لیتر، یون کلسیم و ۳۵ میلی‌گرم در لیتر، یون منیزیم است. سختی کل آب چقدر است؟ تحقیق کنید که آیا این آب برای شرب مناسب است؟

فکر کنید

- مقدار املاح موجود در آب دو چاه ۱ و ۲، در شکل زیر را با هم مقایسه کنید.

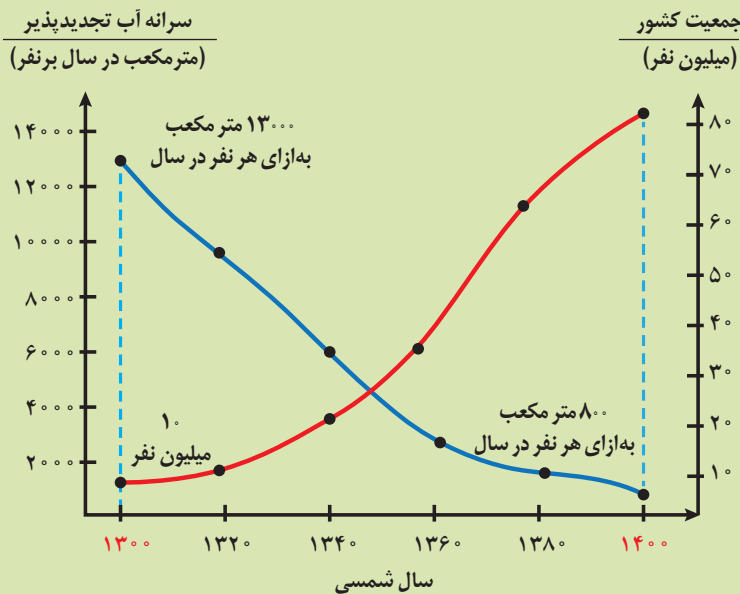


تجدیدپذیری آب: در مدیریت منابع آب، ذخایر آب به دو دسته تجدیدپذیر و تجدیدناپذیر تقسیم می‌شوند. آب تجدیدپذیر، آبی است که در مقیاس زمانی معین، پس از مصرف انسان، از طریق چرخه آب، جایگزین می‌شود. بخشی از ذخایر آب که پس از مصرف، جایگزین نمی‌شود، آب تجدیدناپذیر است. برای جلوگیری از ایجاد بحران آب، باید میزان بهره‌برداری از منابع آب، کمتر از میزان تغذیه آن منابع باشد. عدم رعایت این مورد، در طی سال‌های گذشته، منجر به کاهش شدید ذخایر آب زیرزمینی کشور ما شده است. بنابراین توجه به میزان مصرف منابع آبی کشور، بسیار مهم و حیاتی است. امروزه در برخی از کشورهای کم‌آب، بهره‌برداری از آب‌های فسیلی مطرح شده است.

آب‌های فسیلی: به آبهایی گفته می‌شود که در طی چند هزار سال گذشته در اعماق زیاد محبوس شده‌اند و در چرخه آب قرار ندارند.

تفسیر کنید

● نمودار زیر، تغییرات سرانه آب تجدیدپذیر و جمعیت کشور در صد سال اخیر را نشان می‌دهد. نمودار را تفسیر کنید.



بیان (ترازنامه*) آب: محاسبه بیان آب یک لایه آبدار، از بسیاری جهات، مشابه بررسی بیان هزینه یک خانواده یا هر واحد اقتصادی است که کمک می‌کند تا میزان درآمد و هزینه‌ها با هم مقایسه شوند. در مدیریت و بهره‌برداری از منابع آب نیز، برای آنکه نوسانات حجم ذخیره منابع آب یک منطقه تعیین شود، بیان آب محاسبه می‌شود.

توازن آب بر اساس اصل بقای جرم است. بین مقدار آب ورودی (I) به آبخوان و آب خروجی از آن (O) و تغییراتی که در حجم ذخیره آب به وقوع می‌پیوندد (ΔS)، رابطه زیر برقرار است:

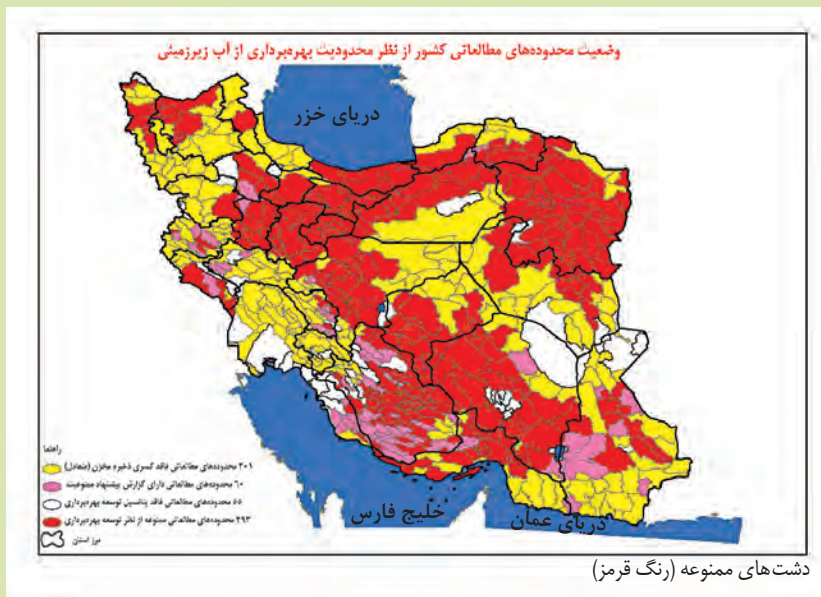
$$I - O = \Delta S$$

به عبارتی، تغییراتی که در حجم آب داخل آبخوان اتفاق می‌افتد، با اختلاف آب ورودی و خروجی از آن برابر است. اگر مقدار آب ورودی به آبخوان، بیشتر از مقدار آب خروجی باشد، بیان، مثبت و اگر کمتر از آن باشد، بیان، منفی است.

در طی سال‌های گذشته به علت بهره‌برداری زیاد از منابع آبی، بیابان منابع آب در کل کشور و در بیشتر ۶۰۹ دشت کشور، منفی بوده است. بر این اساس، بسیاری از دشت‌های کشور از نظر توسعه بهره‌برداری آب‌های زیرزمینی، به عنوان دشت ممنوعه اعلام شده است.

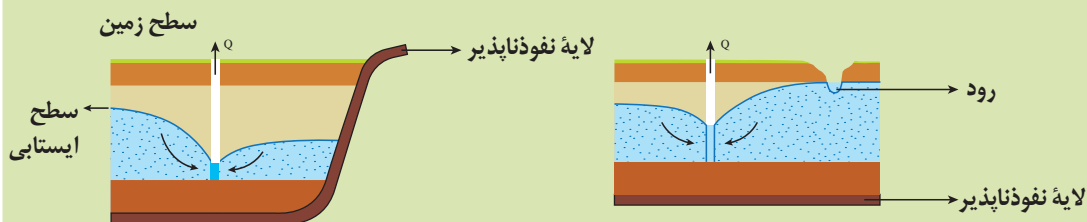
جمع‌آوری اطلاعات

- در منابع معتبر جستجو کنید و به پرسش‌های زیر پاسخ دهید:
- پرمصرف‌ترین و کم‌مصرف‌ترین استان کشور از نظر مصرف آب تجدیدناپذیر، کدام استان‌ها هستند؟
- آیا محل سکونت شما در محدوده دشت‌های ممنوعه واقع شده است؟



گفت‌وگو کنید

- ۱- شکل‌های زیر، گسترش مخروط افت چاه در اثر بهره‌برداری و تلاقی آن با یک لایه نفوذناپذیر و یک رود را نشان می‌دهد. در مورد تأثیر آنها بر روی شکل مخروط افت و میزان آب ورودی به چاه گفت‌وگو کنید.
- ۲- اگر مخروط افت چاه با یک منبع آلاینده مانند یک چاه فاضلاب برخورد کند، چه اتفاقی می‌افتد؟





الف) فرونشست ناگهانی



ب) فرونشست تدریجی

شکل ۳-۷

فرونشست زمین: یکی از پیامدهای برداشت بی‌رویه آب زیرزمینی، فرونشست زمین است. این وضعیت در بسیاری از دشت‌های کشور ما که با بیابان منفی آب زیرزمینی روبه‌رو هستند، مشاهده می‌شود.

فرونشست زمین یا به صورت سریع، به شکل فروچاله ایجاد می‌شود (شکل ۳-۷-الف) و یا آرام و نامحسوس به صورت نشست سطح وسیعی از منطقه و ایجاد ترک و شکاف در سطح زمین نمایان می‌شود (شکل ۳-۷-ب). فرونشست زمین می‌تواند خسارت‌های فراوان به زیربناها و انواع سازه‌ها و زمین‌های کشاورزی وارد کند. برای کاهش میزان فرونشست زمین، باید بهره‌برداری از منابع آب زیرزمینی کاهش یابد و با تغذیه مصنوعی آبخوان‌ها تقویت شوند.

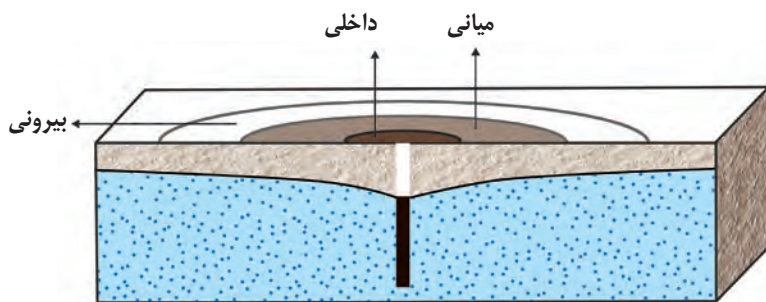
فکر کنید

- فرونشست دشت‌ها، چه پدیده‌های مخربی را می‌تواند به همراه داشته باشد؟
- تغذیه مصنوعی چیست و چگونه انجام می‌شود؟

آلودگی منابع آب زیرزمینی: کیفیت آب زیرزمینی، بستگی به مقدار املاح موجود در آن دارد. افزون بر املاح آب، برخی آلودگی‌ها توسط انسان به آن وارد می‌شود. منابع آلاینده آب زیرزمینی، به صورت نقطه‌ای و یا غیرنقطه‌ای هستند. در حالت نقطه‌ای، مواد آلوده کننده از یک نقطه مشخص، مانند یک چاه فاضلاب (چاه جذبی)، به طور مستقیم وارد آب زیرزمینی می‌شوند. در حالت غیر نقطه‌ای، مواد آلوده کننده به وسیله رواناب‌های آلوده از سطح مراتع، و یا زمین‌های کشاورزی به زمین نفوذ کرده و وارد آب زیرزمینی می‌شوند.

حریم منابع آب: کیفیت منابع آب زیرزمینی به وسیله کودهای کشاورزی، فاضلاب‌های صنعتی و شهری و همچنین کمیّت آنها از طریق بهره‌برداری زیاد، در معرض تهدید است. بنابراین حفاظت از این منابع، دارای اهمیت زیادی است. یکی از روش‌های حفاظت از منابع آب زیرزمینی، تعیین حریم برای آنها است. بر این اساس، حریم کمی و کیفی تعریف می‌شود. حریم کمی، براساس شعاع

تأثیر دو چاه در نظر گرفته می‌شود که حدود ۵۰۰ متر است. حریم کیفی چاه‌های تأمین کننده آب شرب، به صورت پهنه‌های حفاظتی تعریف می‌شود. منظور از پهنه‌های حفاظتی، محدوده‌ای در اطراف چاه است که آلاینده قبل از رسیدن به چاه از بین می‌رود. پهنه‌های حفاظتی، معمولاً شامل سه بخش داخلی، میانی و بیرونی است (شکل ۳-۸).



شکل ۳-۸- پهنه‌های حریم چاه

جدول زیر را کامل کنید.

ردیف	حریم	فعالیت‌های ممنوع
۱	بیرونی	
۲	میانی	
۳	داخلی	

منابع خاک

در کتاب‌های درسی علوم تجربی آموختید که خاک، حاصل هوازگی و خرد شدن سنگ‌ها است (شکل ۳-۹). خاک، محیط مناسبی برای کشت گیاهان و محلی برای زندگی برخی موجودات زنده است. خاک به‌عنوان سطحی‌ترین قشر زمین و بستر تولید محصول کشاورزی شناخته می‌شود که به‌طور دائمی در معرض تغییرات فیزیکی، شیمیایی و زیستی است.



شکل ۳-۹- خرد شدن سنگ‌ها

یادآوری

- در گذشته، با هوازگی و انواع آن آشنا شدید. در این باره به پرسش‌های زیر پاسخ دهید:
 - ۱- جنبه‌های مثبت و منفی هوازگی را بیان کنید.
 - ۲- عوامل مؤثر بر هوازگی فیزیکی و شیمیایی کدام‌اند؟
 - ۳- هر یک از تصاویر زیر، کدام نوع هوازگی را نشان می‌دهد؟



پ



ب




الف

خاک، از دو بخش آلی (هوموس) و معدنی تشکیل شده است. بخش معدنی، شامل برخی کانی‌ها مانند کانی‌های رسی و کوارتز که حاوی عناصری از قبیل نیتروژن، فسفر، کلسیم و... می‌باشد، البته عوامل تشکیل و ترکیب خاک‌ها، متغیر است و به عواملی مانند نوع سنگ مادر، شیب زمین، فعالیت جانداران و اقلیم منطقه بستگی دارد.

ذرات تشکیل دهنده خاک، برحسب اندازه، به سه دسته اصلی درشت دانه (خاک‌های شنی)، متوسط دانه (ماسه و لای) و ریزدانه (خاک‌های رسی) تقسیم می‌شوند. معمولاً خاک‌های طبیعی، ترکیبی از آنها است.

مقدار آبی که خاک‌ها می‌توانند از خود عبور دهند، بستگی به اندازه ذرات خاک دارد. هرچه ذرات خاک، ریزتر باشد، آب بیشتری را در خود نگه می‌دارد و مقدار کمتری را عبور می‌دهد. خاک رس، بسیار ریزدانه است، بنابراین فضای بین ذرات آن بسیار کوچک است به طوری که گردش آب و هوا به خوبی صورت نمی‌گیرد و برای رشد گیاهان مناسب نیست. در خاک‌های شنی، آب به راحتی از میان ذرات عبور می‌کند یعنی، زهکشی خوبی دارد، اما برای رشد گیاهان مناسب نمی‌باشد، چون آب و مواد مغذی را در خود نگه نمی‌دارد. مخلوط مناسب خاک ماسه‌ای و رسی و استفاده از کود مناسب یا گیاخاک، ترکیب مناسبی است که موجب حاصلخیزی خاک می‌شود. به طور کلی، خاک لوم که ترکیبی از ماسه، لای و رس است، خاک دلخواه کشاورزان و باغبان‌ها می‌باشد.

نیم رخ خاک: به مقطع عمودی خاک از سطح زمین تا سنگ بستر که افق‌های مختلف خاک در آن قابل مشاهده می‌باشد، نیم رخ خاک می‌گویند. معمولاً در نیم رخ خاک، افق‌های زیر وجود دارد (شکل ۱۰-۳).



شکل ۱۰-۳-۱ افق‌های خاک و سنگ بستر

افق A، بالاترین لایه خاک است. ریشه گیاهان در آن رشد می کنند. این افق، معمولاً حاوی گیاهک (هوموس) به همراه ماسه و رس است. وجود مواد آلی باعث رنگ خاکستری تا سیاه این افق می شود. در افق B یا خاک میانی، رس، ماسه، شن، املاح شسته شده از افق A و مقدار کمی گیاهک وجود دارد. افق C، خاک زیرین است و در آن، مواد سنگی به میزان کم، تخریب و تجزیه شده اند، در نتیجه سنگ اولیه تغییر زیادی نکرده و به صورت قطعات خرد شده است. در زیر این افق، سنگ بستر قرار دارد که تخریب و یا تجزیه ای در آن صورت نگرفته است. اگرچه این افق ها در بسیاری از نیم رخ خاک ها مشاهده می شود ولی، خاک های مناطق مختلف از نظر رنگ، بافت، ضخامت و ترکیب شیمیایی متفاوت هستند. خاک حاصل از تخریب سیلیکات ها و سنگ های فسفاتی، از نظر کشاورزی و صنعتی ارزش زیادی دارد. در صورتی که خاک های حاصل از تخریب سنگ ها دارای کانی های مقاوم (مانند کوارتز) که غالباً شنی و ماسه ای می باشند، فاقد ارزش کشاورزی هستند. در کشاورزی، خاکی را حاصلخیز می گویند که موجب رشد بیشتر گیاه شود مانند مناطق گرم و مرطوب که هوازدگی شیمیایی اهمیت بیشتری دارد.

فرایند تشکیل خاک، بسیار کند است. در شرایط طبیعی، به طور میانگین ۳۰۰ سال زمان لازم است تا خاکی به ضخامت ۲۵ میلی متر تشکیل شود.

فکر کنید

• درباره خاک مناطق مختلف آب و هوایی، جدول زیر را با کلمات (کم، زیاد) کامل کنید.

خاک مناطق	مقدار گیاهک	ضخامت خاک
معتدل	زیاد	
استوایی		زیاد
قطبی	کم	
بیابانی		کم

• بیشترین محصولات کشاورزی از مناطق معتدل به دست می آید. علت این امر چیست؟

فرسایش: فرسایش، فرایندی مداوم است که طی آن، ذرات خاک از بستر اصلی خود جدا و به کمک عوامل انتقال دهنده به مکان دیگری حمل می شود. فعالیت های انسانی آن را کاهش یا افزایش می دهد اما نمی تواند آن را کاملاً متوقف کند. مقدار فرسایش پذیری خاک، معمولاً در ایام مختلف سال، ثابت نیست.

فرسایش به طور طبیعی و توسط عواملی مانند آب های جاری، باد، یخچال، نیروی جاذبه و آب های زیرزمینی و بدون دخالت انسان و به آرامی، یا با سرعت زیاد انجام می شود. فعالیت های انسانی مانند کشاورزی، معدن کاری، جاده سازی و سایر فعالیت های عمرانی، فرسایش طبیعی را تشدید می کنند. افزون بر انسان، سایر جانداران نیز، در افزایش این فرسایش ها نقش دارند.

● در هر یک از تصاویر زیر، که نمونه‌هایی از فرسایش زمین را نشان می‌دهد، کدام عامل فرسایشی، دخالت بیشتری دارد؟



الف



ب

گفت و گو کنید

● درباره نقش فعالیت‌های انسان در افزایش و کاهش فرسایش خاک گفت و گو کنید.



شکل ۱۱-۳ فرسایش خندقی

فرسایش آبی: در نقاطی که آب بر روی خاک بدون پوشش گیاهی، در جریان باشد، مقداری از ذرات خاک از بستر، جدا و با آب حمل می‌شوند. مهم‌ترین ویژگی بارندگی که در فرسایش زمین مؤثر می‌باشد، شدت و مدت بارش است. هنگامی که جریان آب، شدت پیدا کند، باعث فرسایش خندقی و از بین رفتن زمین‌های با ارزش کشاورزی می‌شود. پیدایش خندق‌ها، علاوه بر آنکه از ارزش زمین‌های کشاورزی می‌کاهد، باعث تخریب جاده‌ها، پل‌ها و ساختمان‌ها می‌شود. در اغلب شرایط می‌توان با ساخت کانال و ایجاد پوشش گیاهی، انرژی جریان آب را کاهش داد (شکل ۱۱-۳).

فکر کنید

● هر یک از پیامدهای زیر، مربوط به کدام نوع بارندگی (آرام و کوتاه - آرام و طولانی - شدید و کوتاه - شدید و طولانی) است؟
نفوذ آب به آبخوان - فرسایش خاک - وقوع سیل - ایجاد رواناب

قدرت فرساینده‌ی رواناب، بستگی به سرعت و میزان مواد معلق موجود در رواناب دارد. هر چه سرعت رواناب، جرم و میزان مواد معلق بیشتر باشد، انرژی جنبشی آب، و در نتیجه، قدرت فرساینده‌ی آن بیشتر می‌شود. قدرت فرساینده‌ی آب خالص، کمتر از آب دارای مواد معلق است. وقتی میزان مواد معلق، بیشتر از توان حمل رواناب باشد و یا از سرعت آب جاری کاسته شود، رسوب گذاری رود شروع می‌گردد.

جمع‌آوری اطلاعات

در مورد فرسایش خاک و عوامل مؤثر بر آن، اطلاعاتی جمع‌آوری کنید و به پرسش‌های زیر پاسخ دهید.


۱- برای افزایش نفوذپذیری خاک، به منظور کاهش رواناب، چه اقدامی می‌توان انجام داد؟

۲- آتش‌زدن زمین‌های کشاورزی، پس از برداشت محصول، چه تأثیری بر فرسایش خاک دارد؟

فرسایش خاک، باعث کاهش سطح زیر کشت و کاهش حاصلخیزی زمین‌ها می‌شود. همچنین با ته‌نشینی مواد در آبراهه‌ها و مخازن سدها و کاهش ظرفیت آب‌گیری آنها، خسارت‌های فراوانی را ایجاد می‌کند.

● به علت بهره‌برداری غیر اصولی و نادرست بشر تاکنون، میلیون‌ها هکتار از جنگل‌ها، مراتع و زمین‌های کشاورزی به زمین‌های بایر تبدیل شده است، فرسایش انسانی، یکی از مشکلات جهانی است. طبق تخمین سازمان خواربار جهانی (فائو) هر سال بیش از ۷۵ میلیارد تن خاک از سطح خشکی‌ها فرسایش می‌یابد. در کشور ما، آثار و علائم فرسایش در اکثر نقاط دیده می‌شود.

حفاظت آب و خاک: آب و خاک برای هر کشور، به عنوان سرمایه‌های ارزشمند، اهمیت فراوان دارد زیرا، آب و خاک از عوامل ضروری برای رشد گیاه و افزایش محصولات کشاورزی، باغی و جنگلی است. حفاظت از منابع آب به منظور استفاده بهینه از این منابع و رسیدن به توسعه پایدار است. حفاظت آب و خاک در جلوگیری از آلودگی هوا و فرسایش خاک، تأثیر فراوانی دارد. هدف از حفاظت خاک، جلوگیری از تخریب تدریجی خاک است. زمانی این هدف تحقق می‌یابد که سرعت فرسایش خاک، کمتر از سرعت تشکیل آن باشد.



● **هیدروژئولوژی:** مطالعه در زمینه چگونگی حرکت آب در درون زمین، اکتشاف و شناخت ویژگی‌های آب‌های زیرزمینی، نحوه بهره‌برداری و فعالیت‌های عمرانی و معدنی مرتبط با آب‌های زیرزمینی در علم هیدروژئولوژی انجام می‌شود.

● **رسوب‌شناسی:** مواد حاصل از فرسایش کوه‌ها

توسط عوامل فرسایشی همچون آب، باد و یخ به مناطق پست یا حوضه رسوبی انتقال یافته و در آنجا بر روی هم انباشته می‌شوند. این مواد، پس از سخت شدن، به سنگ‌های رسوبی تبدیل می‌شوند. در رسوب‌شناسی و سنگ‌شناسی رسوبی، فرایندهای انتقال، ته‌نشینی و تبدیل رسوبات به سنگ‌های رسوبی مطالعه می‌شود.


متخصصین این رشته در سازمان‌ها و شرکت‌های تابعه وزارت نیرو، وزارت جهاد کشاورزی، صنعت، معدن و تجارت، سازمان محیط زیست، شرکت‌های مهندسی مشاور مرتبط با تأمین و انتقال



فرسایش زمین و تشکیل دره توسط آب و باد

آب، سدسازی و تونل‌سازی، وزارت راه و شهرسازی، شهرداری‌ها و... می‌توانند در هدایت پروژه‌های عمرانی و پژوهشی کمک شایانی داشته باشند.

علم،
زندگی،
کار آفرینی



دریاچه پشت سد کارون-۳



۴ فصل

زمین‌شناسی و سازه‌های مهندسی

انسان از گذشته‌های دور، بناهایی ساخته است که هنوز هم پس از گذشت هزاران سال، باقی مانده‌اند. ستون‌های بزرگ تخت‌جمشید، بناهای چغازنبیل، اهرام مصر، دیوار چین و قنات‌های باستانی با وجود گذشت سال‌ها، هنوز هم پابرجا هستند و دانش مهندسی را در عهد باستان نشان می‌دهند. به‌راستی، چه عواملی باعث شده است تا این بناها همچنان پابرجا بمانند؟ در ساخت آنها، از چه مصالحی استفاده شده است؟ جاده‌ها، راه‌آهن، پل‌ها، تونل‌ها، خطوط انتقال نفت، گاز و آب، سدها، کارخانه‌ها، ساختمان‌های بلند، برج‌های مخابراتی مانند برج میلاد و همه سازه‌های مهندسی، از موادی ساخته می‌شوند که از زمین به دست می‌آیند.

بارها در رسانه‌ها، اخبار مربوط به انواع ریزش سنگ در جاده‌های کوهستانی، تخریب ساختمان‌ها و سازه‌های سنگین به دلیل گودبرداری، ریزش تونل‌ها، فرار آب از سدها و تخریب بدنه آنها، ریزش پل‌ها و ... را شنیده‌اید.

یکی از مسائل اصلی در ساخت و نگهداری سازه‌ها، پایداری زمین است. در ساخت سازه‌ها، مسائل مختلف زمین‌شناسی مطرح است که باید مورد مطالعه قرار گیرد. یکی از وظایف مهم زمین‌شناس، تشخیص احتمال وقوع فرایندهای مخرب و ارائه روش‌های مقابله با آنها است به نحوی که، آسیبی به تأسیسات و سازه‌های مهندسی وارد نشود.



سکوی نفتی - خلیج فارس



تونل نیایش - تهران

مکان‌یابی سازه‌ها

قبل از اجرای پروژه‌های عمرانی مانند سد، نیروگاه، بزرگراه، پل، مجتمع‌های تجاری و مسکونی، برج‌ها و ... که سازه نامیده می‌شوند، انجام مطالعات زمین‌شناسی سنگ بستر آنها، ضروری است. در این مطالعات، ناهمواری‌های سطح زمین، استحکام سنگ‌ها، نفوذپذیری، پایداری دامنه‌ها در برابر ریزش و جنس مصالح به کار رفته در سازه مورد بررسی قرار می‌گیرد. مورفولوژی (شکل‌شناسی) و پستی و بلندی‌های محل احداث سازه، در پایداری آن تأثیر قابل توجهی دارد.



● شکل روبه‌رو، دره V شکل است؛ با توجه به مورفولوژی منطقه، آیا احداث پل بر روی آن را مناسب می‌دانید؟

بیشتر
بیندیشید

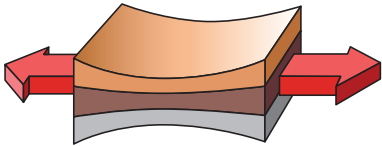
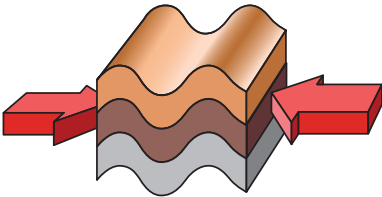

یکی از عوامل مهم در مکان‌یابی ساختگاه سازه‌ها، مقاومت زمین پی آنها در برابر نیروهای وارده است. به عنوان مثال، در پشت یک سد، فشار زیادی از طرف آب به لایه‌های زیرین، تکیه‌گاه و همچنین بدنه سد، وارد می‌شود. نیز، وزن زیادی دارد که گاه به چندین میلیون تن می‌رسد. بنابراین، سنگ‌های پی سد، باید در برابر تنش‌های ناشی از وزن سد، مقاوم باشند و دچار گسیختگی و نشست نشوند.

تنش

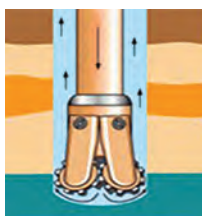
هرگاه سنگ، تحت تأثیر نیرویی از خارج قرار گیرد، در داخل سنگ نیز، نیرویی بر واحد سطح وارد می‌شود که تنش نامیده می‌شود. تنش‌های وارده بر یک سنگ یا خاک، ممکن است به صورت کششی، فشاری یا برشی یا ترکیبی از آنها باشند. تنش‌های وارده بر سنگ‌ها و خاک‌ها، باعث تغییر شکل آنها می‌شود.

$$\text{تنش} = \frac{\text{نیرو (N)}}{\text{سطح (m}^2\text{)}}$$

جدول ۴-۱- انواع تنش

نوع تنش	اثر بر روی سنگ	تغییر شکل
کششی	گسستگی سنگ	
فشاری	متراکم شدن سنگ	
برشی	بریدن سنگ	

مقاومت سنگ، عبارت است از حداکثر تنش یا ترکیبی از تنش‌ها که سنگ می‌تواند تحمل کند، بدون آنکه بشکند. هر چه مقاومت سنگ، در مقابل این تنش‌ها، کمتر باشد، سنگ ناپایدارتر است و سطوح شکست بیشتری در آن ایجاد می‌شود. از این رو، شکستگی سنگ‌ها و ایجاد درزه‌ها، باعث ناپایداری سنگ یا خاک در پی سازه‌ها می‌شوند. در مطالعات آغازین یک پروژه، به منظور نمونه برداری از خاک یا سنگ پی سازه، گمانه‌ها یا چال‌های باریک و عمیقی در نقاط مختلف محل احداث سازه حفر می‌شود. نمونه‌های سنگ یا خاک برداشت شده، به آزمایشگاه‌های تخصصی ارسال می‌شود و مقدار مقاومت سنگ و خاک در برابر تنش‌های وارده را مورد بررسی قرار می‌دهند (شکل ۴-۱).



پ) سرمته حفاری



ب) دستگاه حفاری گمانه




الف) مغزه‌گیری با گمانه‌های اکتشافی

شکل ۴-۱

مواد جامد بر اثر تنش، تغییر شکل می‌دهند. مقدار و نوع تغییر شکل ایجاد شده، به رفتار آنها در برابر تنش بستگی دارد (شکل ۲-۴).



پ) شکننده



ب) خمیرسان



الف) کش‌سان

شکل ۲-۴

برخی از اجسام، مانند سنگ‌ها از خود رفتار کش‌سان (الاستیک) نشان می‌دهند. بدین معنی که با اعمال تنش، سنگ‌ها دچار تغییر شکل می‌شوند و با رفع تنش، به حالت اولیه خود بازمی‌گردند. اما، اگر تنش ناگهانی و از حد مقاومت سنگ بیشتر شود، سنگ دچار شکستگی می‌شود و درزه‌ها و گسل‌ها را به وجود می‌آورد. برخی از سنگ‌ها از خود رفتار خمیرسان (پلاستیک) نشان می‌دهند یعنی، پس از رفع تنش، سنگ‌های تغییر شکل یافته، به طور کامل به حالت اولیه خود بر نمی‌گردند.



ب) رفتار شکننده سنگ‌ها



الف) رفتار پلاستیک سنگ‌ها

شکل ۳-۴. انواع رفتار سنگ‌ها در برابر تنش

مقاومت انواع سنگ‌ها در برابر تنش وارده، متفاوت است. سنگ‌های آذرین، می‌توانند تکیه‌گاه مناسبی برای سازه‌ها باشند؛ مانند پی سنگ سد امیرکبیر که از جنس سنگ گابرو است. بعضی از سنگ‌های دگرگونی، مانند کوارتزیت و هورنفلس که مقاومت بیشتری دارند، می‌توانند تکیه‌گاه مناسبی برای سازه‌های سنگین باشند و برخی دیگر از آنها مانند شیست‌ها که سست و ضعیف هستند، برای پی‌سازه‌ها مناسب نیستند. برخی از سنگ‌های رسوبی، مانند ماسه سنگ‌ها، استحکام لازم برای ساخت سازه را دارند اما، سنگ‌های تبخیری مانند سنگ گچ، ژپس نمک (به دلیل انحلال‌پذیری) و شیل‌ها (به دلیل تورق و سست بودن) در برابر تنش مقاوم نیستند.

نفوذپذیری

یکی دیگر از عوامل مؤثر در مکان‌یابی سازه‌ها، نفوذپذیری خاک و سنگ است. سنگ‌های کربناتی، به سنگ‌های رسوبی گفته می‌شود که بیش از ۵۰ درصد آنها کانی‌های کربناتی (کلسیت و دولومیت) باشد. این سنگ‌ها، اغلب درزه‌دار هستند. با گذشت زمان و در جریان آب‌های نفوذی، بخش‌هایی از این سنگ‌ها در آب، حل و در آن حفره‌هایی تشکیل می‌دهند. پیشرفت عمل انحلال، ممکن است منجر به تشکیل حفره‌های انحلالی بزرگ در این سنگ‌ها و ایجاد غارها شود (شکل ۴-۴).



ب) تشکیل حفره‌های انحلالی



الف) کارستی شدن

شکل ۴-۴

سنگ آهک ضخیم لایه که فاقد حفرات انحلالی باشد، پی و تکیه‌گاه خوبی برای احداث سازه می‌باشد اما، در صورتی که سنگ آهک، دارای حفرات انحلالی باشد، می‌تواند مشکلات جدی از قبیل فرار آب یا نشست زمین را به همراه داشته باشد. انحلال پذیری سنگ‌های تبخیری (سنگ گچ و سنگ نمک)، بیش از سنگ‌های آهکی است. بنابراین حفره‌ها و غارهای انحلالی در این سنگ‌ها، سریع‌تر از دیگر سنگ‌ها ایجاد می‌شود. اگر سد بر روی لایه‌هایی از سنگ گچ احداث شود، ممکن است پس از چند سال، حفرات انحلالی در سنگ، ایجاد و باعث فرار آب از مخزن سد و همچنین ناپایداری بدنه سد شود.

مکان مناسب برای ساخت سد

سد، سازه‌ای است که به منظور ذخیره آب، مهار سیلاب، تأمین آب شرب و کشاورزی و همچنین تولید نیروی الکتریسیته احداث می‌شود. بعضی از سدها چند منظوره‌اند، یعنی به طور هم زمان چند هدف را تأمین می‌کنند. سدها، از نظر نوع مصالح ساختمانی به کار رفته، به دو دسته خاکی و بتنی تقسیم می‌شوند. مهم‌ترین عامل در تعیین نوع سد و محل احداث آن، شرایط زمین‌شناسی منطقه و مصالح مورد نیاز است.

جمع‌آوری اطلاعات

● در مورد نزدیک‌ترین سد به محل سکونت خود، اطلاعاتی جمع‌آوری کنید و به موارد زیر

پاسخ دهید:

۱- هدف از احداث سد

۲- نوع سد

۳- جنس سنگ پی سد



بیشتر بدانید

● سد کوریت (کوریت)، یک سد تاریخی است که در شهرستان طبس و در ۵۶ کیلومتر جاده طبس-دیهوک واقع شده است. این سد که در سال ۷۲۹ شمسی احداث شده، با ارتفاع ۶۰ متر، تا اوایل قرن بیستم، بلندترین سد جهان بوده است.

این سد، بزرگ‌ترین سد قوسی جهان به مدت ۵۵۰ سال بوده است. نکته جالب‌تر آنکه این سد، با عرض تاج یک متر، هنوز هم عنوان نازک‌ترین سد جهان را دارد.

آجرهای مربعی شکل، سنگ و ساروج، آهک و خاک رس، از عمده‌ترین مصالح به کار رفته در ساخت سد است.



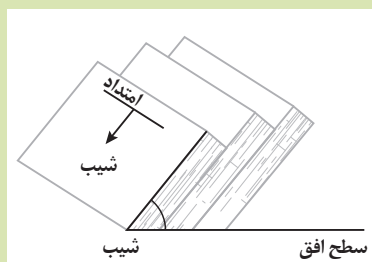
در مطالعات زمین‌شناسی سد، وضعیت مخزن، تکیه‌گاه‌ها و پی سد (شکل ۴-۵) از نظر پایداری و فرار آب مورد بررسی قرار می‌گیرد. برای آنکه فرار آب از مخزن سد صورت نگیرد باید دیواره‌ها و کف مخزن نفوذناپذیر باشند یا از نفوذپذیری بسیار کمی برخوردار باشند.



شکل ۴-۵- نمایی از بخش‌های مختلف یک سد

● برای بررسی موقعیت لایه‌ها از مشخصات امتداد و شیب استفاده

می‌شود.




امتداد لایه عبارت است از محل برخورد سطح لایه با سطح افق و با جهت جغرافیایی بیان می‌شود.


شیب لایه، مقدار زاویه‌ای

است که سطح لایه با سطح افق می‌سازد.


● شرایط مختلفی از وضعیت شیب و امتداد لایه‌های سنگی و موقعیت انتخابی برای ساختگاه سد، در شکل زیر نمایش داده شده است. با در نظر گرفتن فرار آب و پایداری بدنه سد، حالت مطلوب و حالت نامطلوب را برای احداث سد مشخص کنید.




(پ)



(الف)



(ت)



(ب)

با هم بیندیشید

● قرار گرفتن سنگ‌های تبخیری مانند لایه‌های نمک در محدوده دریاچه سدها، معمولاً باعث تغییر نامطلوب کیفیت آب مخزن می‌شود. در سال‌های اخیر، وجود لایه‌های گچی و نمکی در محدوده مخزن چند سد، باعث مشکلاتی در کیفیت آب مخزن آنها شده است.

جمع‌آوری اطلاعات

- در مورد علت فرار آب از مخزن سد لار اطلاعات جمع‌آوری کنید و در کلاس ارائه دهید.

رسوباتی که از طریق رودها به مخزن سدها حمل می‌شوند، به تدریج از ظرفیت مخزن می‌کاهند. بعضی از سدهای کشور، بر اثر انباشته شدن از رسوبات، بخش قابل توجهی از کارایی خود را از دست داده‌اند. برای رفع این مشکل، در فواصل زمانی لازم عمل لایروبی صورت می‌گیرد.

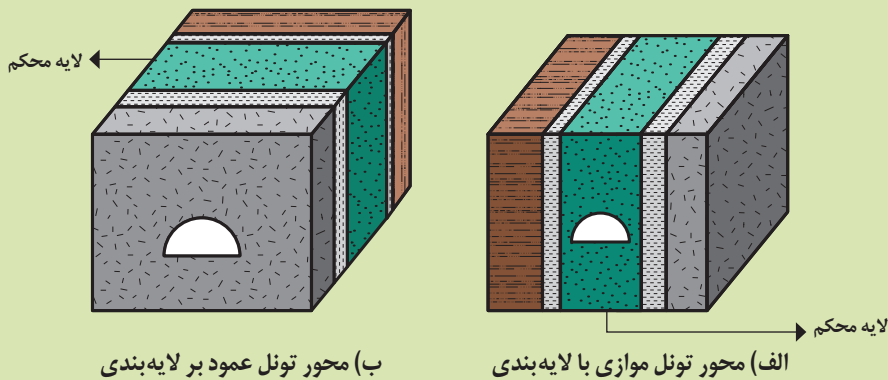
مکان مناسب برای ساخت تونل و فضاهای زیرزمینی

برخی از فعالیت‌های عمرانی و معدنی در زیر زمین صورت می‌گیرد. این فعالیت‌ها، نیاز به فضای زیرزمینی دارد. حفاری‌های زیرزمینی به صورت تونل و مغار است. تونل‌ها، به منظور حمل‌ونقل، انتقال آب، انتقال فاضلاب یا استخراج مواد معدنی مورد استفاده قرار می‌گیرند. مگراها، فضاهای زیرزمینی بزرگ‌تری هستند که برای ایجاد تأسیسات زیرزمینی مانند نیروگاه‌ها، ایستگاه‌های مترو، ذخیره نفت و یا موارد دیگر استفاده می‌شوند.

این گونه سازه‌ها، باید در زمین‌هایی با مقاومت کافی احداث شوند. بنابراین زمین‌شناس، باید مطالعات خود را بر شناسایی مناطقی با کمترین خردشدگی، هوازدگی یا نشست آب، متمرکز کند.

با هم بیندیشید

- با توجه به شکل‌های زیر، احداث تونل در کدام مناسب‌تر است؟
دلیل خود را بیان کنید.



کاوش کنید

- دلیل ناپایداری تونل در زیر سطح ایستایی را بررسی کنید.

وجود آب‌های زیرزمینی، بر ایمنی و پایداری سازه‌های سطحی مانند سدها و سازه‌های زیرزمینی مانند تونل‌ها در زمان ساخت و بهره‌برداری مؤثرند. جریان و فشار آب زیرزمینی، از عوامل مهم ناپایداری تونل‌ها و فضاهای زیرزمینی است. بخش بزرگی از مشکلات و خسارت‌ها در پروژه‌های

عمرانی و معدنی، ناشی از برخورد با آب‌های زیرزمینی بوده است، در برخی موارد، پروژه‌هایی به علت این مشکلات، تکمیل نشده و متوقف شده‌اند. بنابراین، برآورد میزان و کنترل جریان آب زیرزمینی در تونل‌ها، ترانشه‌ها (شکل ۴-۶ الف) و زمین زیرسازه و حتی درون سازه‌هایی مانند سدها، بسیار مهم است. به طور کلی، تونل‌هایی که در بالای سطح ایستابی قرار می‌گیرند، از پایداری بیشتری برخوردار هستند. در شرایطی که سنگ‌های داخل تونل از نظر پایداری و نشست آب، وضعیت مطلوبی نداشته باشند، دیواره و سقف تونل با محافظی از بتن یا سایر مصالح پوشیده می‌شود (شکل ۴-۶ ب).



ب) پوشش داخلی تونل به وسیله قطعات بتن



الف) ترانشه

شکل ۴-۶

مکان مناسب برای ساخت سازه‌های دریایی

همیشه سازه‌ها بر روی خشکی بنا نمی‌شوند. کشور ما از جنوب و شمال به دریا منتهی می‌شود. از سوی دیگر، بخشی از ذخایر عظیم نفت ایران از بستر دریا استخراج می‌شوند. سازه‌های دریایی، مانند اسکله‌ها، پایانه‌های نفتی، تونل‌های زیردریایی، پل‌ها و جاده‌ها، در سواحل دریا یا در دریا احداث می‌شوند (شکل ۴-۷). در شمال و جنوب ایران، سازه‌های دریایی فراوانی احداث شده‌اند. در مکان‌هایی این سازه‌ها مانند سازه‌های خشکی، باید مطالعات زمین‌شناسی به طور ویژه مورد توجه قرار گیرد. افزون بر آن، توجه به جریان‌های دریایی و ویژگی‌های فیزیکی و شیمیایی آب دریا نیز ضروری می‌باشد.



ب) پل دریایی در ژاپن

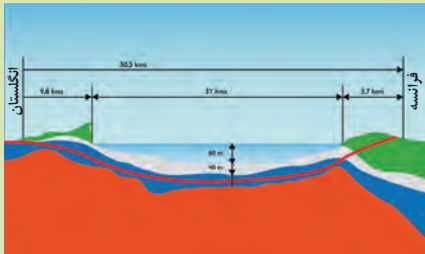


الف) پایانه نفتی خارک

شکل ۴-۷

۱- ترانشه (ژرف‌ناوه): به فرورفتگی مصنوعی یا طبیعی در سطح زمین گفته می‌شود که ژرفای آن از پهنایش بیشتر (طول و عمیق) است. برای اهدافی مانند انتقال آب، جاده‌سازی، قرار دادن لوله‌های نفت و... احداث می‌شود.

بیشتر بدانید



● تونل/کانال مانس با بیش از ۵۰ کیلومتر طول که بندر پادوکاله فرانسه را به شهرک فوکستون انگلستان متصل می‌کند، در زیر بستر دریا حفر شده است. این تونل ۴۰ متر پایین‌تر از کف دریا (بیش از ۱۰۰ متر پایین‌تر از سطح تراز دریا) ساخته شده است. ساخت این تونل زیرآبی، مدت زمان مسافرت از پاریس به لندن را کاهش داده است. تونل مانس که به آن تونل کانال نیز گفته می‌شود، انگلستان را از طریق خشکی به دیگر کشورهای اروپایی متصل کرده است. مانس که انجمن مهندسان عمران آمریکا آن را یکی از عجایب هفت‌گانه دنیای مدرن نامیده است، دارای دو خط ریلی و یک تونل جانبی برای خودروها است. این پروژه در زمان اجرا، با صرف ۲۲/۵ میلیارد دلار، پرهزینه‌ترین طرح مهندسی تاریخ به شمار می‌رفت.

پایداری سازه‌ها



(الف)



(ب)

شکل ۸-۴. پایدارسازی شیب به روش (الف) دیوار حائل، (ب) دیوار حائل گابیونی (تور سنگی)

کشور ما، در یکی از کمربندهای لرزه‌خیز جهان واقع شده است و گسل‌های فعال در بیشتر مناطق آن وجود دارند. این گسل‌ها و زمین‌لرزه‌های احتمالی می‌توانند پایداری سازه‌های مختلف را تهدید کنند. از این‌رو زمین‌شناسان، در مطالعات مکان‌یابی سازه‌ها با استفاده از عکس‌های هوایی و ماهواره‌ای و بازدیدهای صحرائی، این گسل‌ها را شناسایی می‌کنند و با استفاده از داده‌های ثبت شده توسط دستگاه‌های لرزه‌نگاری و اطلاعات تاریخی زمین‌لرزه‌ها، احتمال فعالیت مجدد گسل‌ها و وقوع زمین‌لرزه و تأثیر آن بر سازه‌ها را مشخص می‌کنند. این اطلاعات در اختیار مهندسان عمران قرار می‌گیرد تا طراحی سازه را بر آن اساس انجام دهند. افزون بر این، پایداری محل احداث سازه در برابر **حرکات دامنه‌ای**^۱ از مواردی است که در مطالعات مکان‌یابی سازه‌ها، مورد توجه زمین‌شناسان است.

یکی از خطراتی که سازه‌ها را در مناطق شیب‌دار و کوهستانی تهدید می‌کند، خطر ریزش کوه و سقوط مواد در دامنه‌های پرشیب است. هر ساله اخبار زیادی مبنی بر ریزش کوه و مسدود شدن جاده‌ها و خطوط ریلی مناطق کوهستانی می‌شنویم. امروزه، با اقداماتی مانند ایجاد انواع دیوار حائل، زهکشی برای تخلیه آب اضافی، ایجاد پوشش گیاهی و میخ‌کوبی، دامنه‌ها را پایدار می‌کنند. (شکل ۸-۴)

۱- حرکات دامنه‌ای شامل: ریزش، لغزش، خزش، جریان گلی و ... است.

لغزش و سقوط توده‌های بزرگ سنگ و خاک در دیواره مخزن سدها، تا به حال، باعث خرابی‌های عمده‌ای در سدهای بزرگ جهان شده است.

لغزش توده‌های سنگ و خاک، افزون بر ایجاد امواج خطرناک در مخزن، باعث کاهش ظرفیت و عمر مفید مخزن می‌شود. با انتخاب محل مناسب برای ایجاد سد و پایدارسازی دیواره‌های مخزن سد، می‌توان از چنین اتفاقاتی جلوگیری کرد.

گفت‌وگو کنید

- در پایداری دامنه‌ها، پوشش گیاهی، تأثیر مثبت و منفی دارد. در این مورد توضیح دهید.
- یکی از روش‌های پایدارسازی دامنه‌ها و ترانشه‌ها، میخ کوبی است که در شکل زیر نشان داده شده است. در مورد این روش‌ها در کلاس بحث کنید.



پایدارسازی شیب به روش میخ کوبی

مصالح مورد نیاز برای احداث سازه‌ها

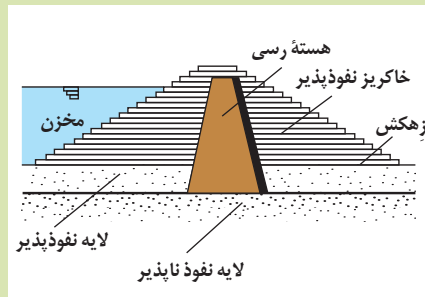
در احداث سازه‌ها، از مواد سازنده زمین، مانند خاک، شن، ماسه و سنگ استفاده می‌شود. مواد مورد نیاز برای هر سازه، باید دارای مقاومت، نفوذپذیری و اندازه دانه‌های مشخصی باشد که توسط آزمایش‌های لازم در آزمایشگاه‌های مکانیک خاک و سنگ مشخص می‌شوند.

مصالح به کار رفته در سازه‌های مختلف، متفاوت است؛ به عنوان مثال در سدهای بتنی از سیمان، ماسه، شن، میلگرد و در سدهای خاکی از خاک رس، ماسه، شن و قلوه سنگ استفاده می‌شود.

● به چه دلیل از هسته رسی برای ساخت سدهای خاکی استفاده می‌شود؟



سد خاکی



هسته رسی یک سد خاکی

رفتار خاک‌ها و سنگ‌ها در سازه‌ها

طبقه‌بندی مهندسی خاک‌ها، بر مبنای دانه‌بندی، درجه خمیری بودن و مقدار مواد آلی آنها انجام می‌شود. بر مبنای دانه‌بندی، خاک‌ها به دو دسته ریزدانه و درشت دانه تقسیم می‌شوند. در خاک‌های ریزدانه، مانند رس و لای، اندازه ذرات، کوچک‌تر از 0.075 میلی‌متر و در خاک‌های درشت دانه، مانند ماسه و شن، اندازه ذرات، بزرگ‌تر از 0.075 میلی‌متر است. از خاک‌های دانه ریز و دانه درشت، در بسیاری از سازه‌ها مانند بدنه سدهای خاکی، زیرسازی جاده‌ها و باند فرودگاه‌ها استفاده می‌شود. پایداری خاک‌های ریزدانه، به میزان رطوبت آنها بستگی دارد. هر چقدر رطوبت خاک‌های ریز دانه بیشتر باشد، پایداری آنها کمتر می‌شود. اگر رطوبت در این خاک‌ها، از حدی بیشتر شود، خاک به حالت خمیری در می‌آید و تحت تأثیر وزن خود روان می‌شود. لغزش خاک‌ها در دامنه‌ها و ترانشه‌ها، به‌ویژه در ماه‌های مرطوب سال، ناشی از این پدیده است (شکل ۹-۴).



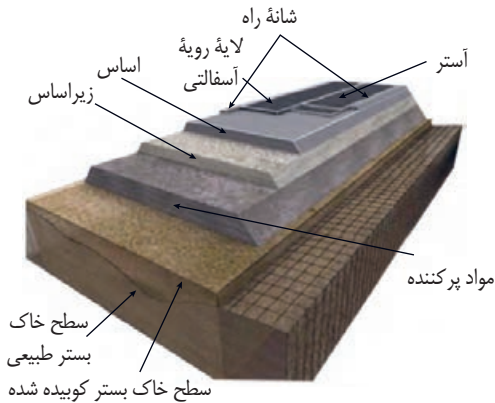
شکل ۹-۴- زمین لغزش در یک جاده

جمع‌آوری اطلاعات

● یک کلوخ را روی سطح صافی قرار دهید و به تدریج روی آن آب بریزید و رطوبت آن را به تدریج افزایش دهید. تغییر شکل آن را در مراحل مختلف مشاهده کنید و اطلاعات خود را در کلاس ارائه دهید.

کاربرد مصالح خاک و خرده سنگی در راه‌سازی

سطح طبیعی زمین، برای رفت و آمد وسایل نقلیه مناسب نیست زیرا، در مقابل عوامل جوی مانند بارش، تغییرات دما و نیروهای وارده از چرخ خودروها مقاومت کافی ندارد، به همین دلیل برای احداث جاده از مصالح خاک در بخش زیرسازی و روسازی استفاده می‌شود که هر کدام از دو بخش تشکیل شده است. زیرسازی از دو بخش زیر اساس و اساس و روسازی از دو بخش آستر و رویه تشکیل می‌شود (شکل ۴-۱۰).



ب) بخش زیر اساس و اساس



الف) لایه‌های مختلف راه بر روی بستر طبیعی

شکل ۴-۱۰

در بخش زیر اساس که به عنوان لایه زهکش عمل می‌کند، از مخلوط شن و ماسه یا سنگ شکسته استفاده می‌شود. لایه‌های آستر و رویه که بایستی مقاوم باشند، از جنس آسفالت می‌باشند که مخلوطی از شن، ماسه و قیر است. یکی از کاربردهای مصالح خرده سنگی، در زیر سازی و تکیه‌گاه ریل‌های راه آهن است. این قطعات سنگی یا **بالاست**^۱، علاوه بر نگهداری ریل‌ها و توزیع بار چرخ‌ها، عمل زهکشی را نیز به عهده دارند. بالاست مورد نیاز خطوط راه آهن، معمولاً از خرد کردن سنگی که از معدن استخراج می‌شود، به دست می‌آید (شکل ۴-۱۱).




شکل ۴-۱۱- بالاست در زیر سازی جاده ریلی

● **زمین‌شناسی مهندسی:** شاخه‌ای از زمین‌شناسی است که رفتار و ویژگی‌های مواد سطحی زمین از نظر مقاومت در برابر فشارهای وارده و امکان ساخت یک سازه را در محلی خاص از زمین بررسی می‌کند. این علم، نقش بسیار مهمی در انتخاب مناسب‌ترین محل، برای ساخت سازه‌ها دارد.

متخصصین زمین‌شناسی مهندسی، در سازمان زمین‌شناسی و اکتشافات معدنی کشور، آزمایشگاه‌های مکانیک خاک و سنگ، وزارت نیرو، وزارت راه و شهرسازی، صنعت، معدن و تجارت و شهرداری‌ها، می‌توانند نقش مهمی در هدایت پروژه‌های عمرانی داشته باشند.







فصل ۵

زمین‌شناسی و سلامت

شاید در نگاه اول، ارتباطی بین زمین‌شناسی و سلامت انسان و علم پزشکی دیده نشود، اما وقتی بدانیم منشأ آبی که می‌نوشیم، غذایی که می‌خوریم و هوایی که تنفس می‌کنیم از زمین است، بهتر می‌توانیم این ارتباط را درک کنیم. بیشتر عناصری که در محیط زیست وجود دارند، از سنگ کره منشأ می‌گیرند. این عناصر بر اثر فرایندهای مختلف و از طریق خاک، آب و هوا وارد چرخه طبیعت می‌شود. آیا تاکنون به این فکر کرده‌اید که از طریق آب، غذا و هوا چه مواد و عناصری وارد بدن شما می‌شود؟ آیا می‌دانید این مواد می‌توانند چه اثرات مثبت یا منفی بر بدن شما داشته باشند؟ این مواد از کجا آمده‌اند؟



کانی رالگار (As₂S₃) - سمی



کانی فلوئوریت (CaF₂)



کانی اورپیمان (As₂S₃) - سمی



کانی هالیت (NaCl)

زمین شناسی پزشکی

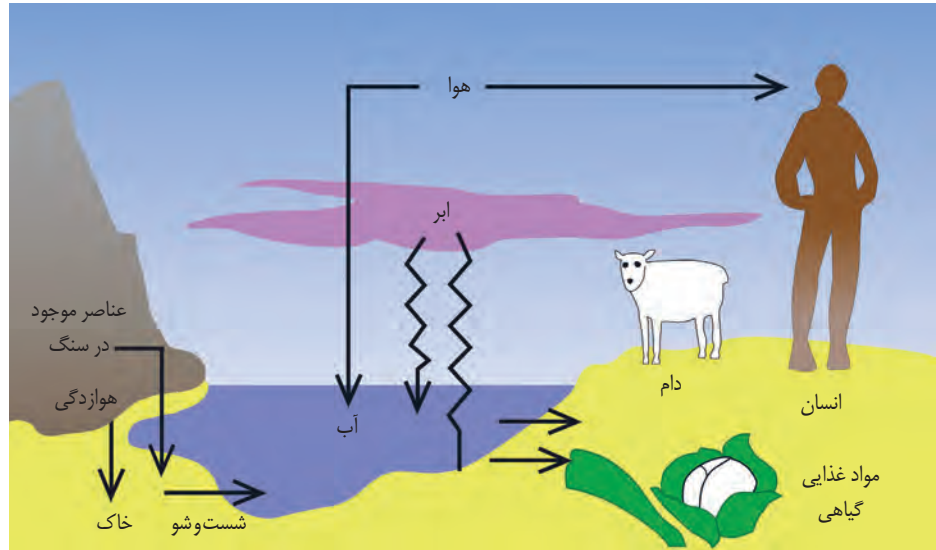
منشأ همهٔ عناصر سازنده بدن انسان و سایر جانداران، از زمین است. به عبارتی این عناصر، زمین زاد هستند. اگر مقدار این عناصر به دلایلی در بدن، کم یا زیاد شود، سلامت انسان به خطر می افتد. تأثیر مواد زمین بر تندرستی انسان، از هزاران سال پیش شناخته شده است. در متون قدیمی پزشکی چینی، ارتباط زمین و سلامت انسان یادآوری شده است. در ایران، دانشمندانی مانند ابوریحان بیرونی، ابن سینا و خواجه نصیرالدین طوسی در کتاب‌های خود به فواید برخی از سنگ‌ها و کانی‌ها برای درمان بیماری‌ها اشاره کرده‌اند. از مدت‌ها پیش مشخص شده بود که برخی بیماری‌ها در مناطق خاصی از زمین، شیوع بیشتری دارند. دانشمندان با آگاهی از ارتباط بین زمین و سلامتی، میان رشته جدیدی به نام زمین شناسی پزشکی را به شاخه‌های علم زمین شناسی افزودند تا نقش و تأثیر عناصر و کانی‌ها که از طریق هوا، آب و غذا، وارد بدن ما و دیگر موجودات زنده می‌شوند، را مطالعه کنند. زمین شناسی پزشکی، یک علم درمانی نیست؛ بلکه به دنبال بررسی عامل بیماری‌های زمین زاد است. بنابراین ارتباط نزدیکی با زیست‌شناسی، شیمی و شاخه‌های علم پزشکی دارد.

سنگ‌ها، بخش اساسی سازنده زمین هستند که از عناصر مختلف تشکیل شده‌اند. هوازدگی سنگ‌ها، باعث تشکیل خاک می‌شود. گیاهان بر روی خاک می‌رویند و برخی جانوران، از گیاهان تغذیه می‌کنند. آب آشامیدنی نیز، در طی حرکت خود در چرخه آب، از درون سنگ و خاک، عبور و برخی عناصر آنها را در خود حل می‌کند. هوا و بیشتر غبارها و گازهای موجود در هواکره، منشأ زمینی دارند. بنابراین سلامت انسان و سایر موجودات زنده، تحت تأثیر عناصر زمینی است.



مفخر جهان

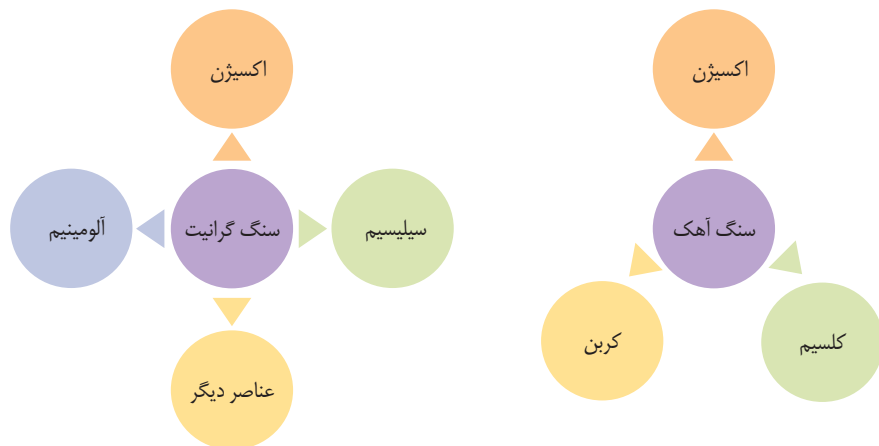
● اوله سلینوس (Olle Selinus) سوئدی، پدر علم زمین‌شناسی پزشکی است. پروفیسور سلینوس طی دو دهه ۱۹۶۰ و ۱۹۷۰ میلادی، در زمینه اکتشاف مواد معدنی در سازمان زمین‌شناسی سوئد فعالیت داشت. از سال ۱۹۸۰ به بعد فعالیت‌های خود را در زمینه زمین‌شناسی زیست‌محیطی متمرکز کرد و به تحقیق در شاخه زمین‌شناسی پزشکی پرداخت. وی تحقیقات زیادی در این موضوع انجام داده و مقالات زیادی درباره ارتباط زمین‌شناسی و سلامت به چاپ رسانده است. سلینوس با تلاش‌های بی‌وقفه خود، نقش مهمی در راه‌اندازی انجمن بین‌المللی زمین‌شناسی پزشکی با کمک محققان سایر رشته‌ها و کشورها و ترویج این علم و حل مشکلات زیادی در سراسر جهان داشته‌است.



شکل ۱-۵. عوامل زمین‌شناختی مؤثر بر سلامت انسان

پراکندگی و تمرکز عناصر

در علم ژئوشیمی، ترکیب شیمیایی سنگ، خاک و آب تعیین می‌شود. مطالعات ژئوشیمیایی نشان می‌دهد که توزیع عناصر در زمین و ترکیب سنگ‌ها در مناطق مختلف، متفاوت است.

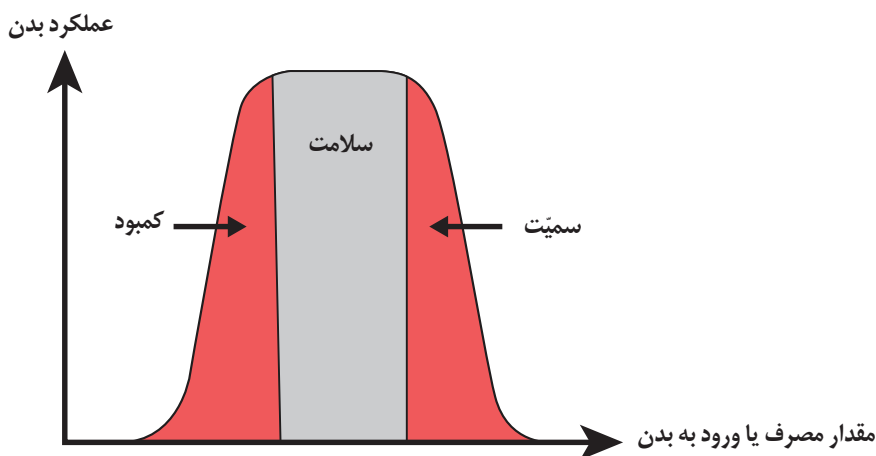


شکل ۲-۵. عناصر تشکیل‌دهنده گرانیت و سنگ آهک

جدول ۱-۵- تقسیم‌بندی عناصر از نظر غلظت در پوسته زمین و بدن موجودات زنده

اهمیت در بدن	عناصر	غلظت در پوسته	طبقه‌بندی عناصر
اساسی	اکسیژن، آهن، کلسیم، سدیم، پتاسیم و منیزیم	بیشتر از ۱ درصد	اصلی
اساسی	منگنز و فسفر	بین ۱ تا ۰/۱ درصد	فرعی
اساسی - سمی	مس، طلا، روی، سرب، کادمیم و ...	کمتر از ۰/۱ درصد	جزئی

بیشتر عناصر جدول تناوبی، از زمین به بدن موجودات منتقل و وارد بافت‌های مختلف بدن می‌شوند. عناصر مورد نیاز برای عملکرد دستگاه‌های بدن، عناصر اساسی هستند. این عناصر، در تمام بافت‌های سالم بدن وجود دارند و نبود یا کمبود و حتی وجود آنها در مقادیر بیشتر از حد نیاز، باعث ایجاد بیماری یا عارضه می‌شود.



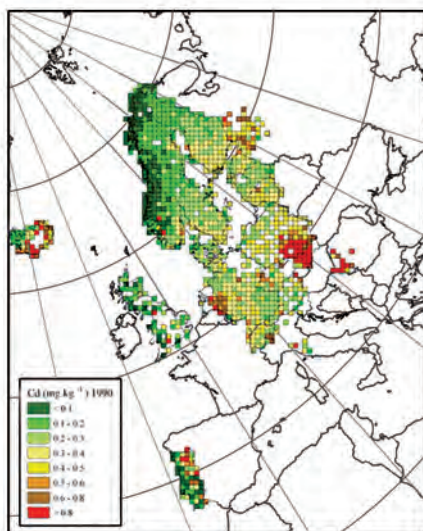
شکل ۳-۵- نمودار تأثیر عناصر بر سلامت انسان

عناصر جزئی، در پوسته زمین و بدن موجودات زنده به مقدار بسیار کم یافت می‌شوند. این عناصر، گاهی در بدن به عنوان عنصر اساسی و مورد نیاز و گاهی به عنوان عنصر سمی محسوب می‌شوند که باعث ایجاد عوارض و یا بیماری می‌گردند.

جمع‌آوری اطلاعات

- گیاهانی را معرفی کنید که می‌توانند عناصر خاصی را در خود متمرکز کنند.
- بررسی کنید که ماهی چه عناصری را در بدن خود متمرکز می‌کند؟

زمین‌شناسان با تهیه نقشه پراکندگی ژئوشیمیایی عناصر، مناطقی را که احتمال خطر بیماری‌های خاصی در آنها وجود دارد، معرفی می‌کنند. برای مثال نقشه ژئوشیمیایی فلز سمی کادمیم در خاک کشور سوئد در شکل روبه‌رو نشان داده شده است (شکل ۴-۵). به همین ترتیب می‌توان با تهیه نقشه از مناطقی که در آن بیماری‌های خاصی شایع است، به بررسی عوامل زمین‌شناسی مؤثر بر ایجاد آنها پرداخت.



شکل ۴-۵. نقشه ژئوشیمیایی فلز سمی کادمیم در خاک کشور سوئد (بیشترین مقدار، رنگ قرمز)

بیشتر بدانید

● استخراج سرب از حدود ۵۰۰۰ سال پیش آغاز شد و به‌طور نسبی در عصر مس، مفرغ و آهن افزایش یافت و در ۲۰۰۰ سال پیش به اوج خود رسید. سنگ نوشته‌های رسی دوره‌های میانی و پسین آشوری و متون مصری و سانسکریت مربوط به بیش از ۳۰۰۰ سال پیش، مواردی از مسمومیت به سرب را نشان می‌دهد.

نخستین کاربردهای سرب در لوله‌کشی، معماری و کشتی‌سازی بود. نمک‌های سرب برای نگهداری میوه و سبزی‌ها به کار می‌رفت. استفاده از مقادیر زیاد سرب در زندگی روزمره طبقه اشراف روم، اثری قابل ملاحظه بر سلامت آنها داشت، از جمله شیوع مسمومیت سرب (پلومبیسزم)، شیوع شدید ناباروری، مرده‌زایی و عقب‌افتادگی ذهنی. بررسی شرح حال فیزیولوژیکی امپراتورهای روم که بین سال‌های ۲۵۰ - ۱۵۰ سال پیش از میلاد می‌زیستند، نشان می‌دهد که بیشتر این افراد، دچار مسمومیت سرب بوده‌اند.

یکی از نشانه‌های مسمومیت با سرب، ایجاد خط آبی رنگ در محل اتصال دندان‌ها به لثه است.





سنگ های دارای آرسنیک: آرسنیک، یک عنصر غیر ضروری و سمی است. این عنصر، منشأ زمین زاد دارد و برخی سنگ ها مانند سنگ های آتشفشانی، دارای بی هنجاری مثبت آرسنیک است. مهم ترین مسیر انتقال آن از زمین به گیاهان و جانوران و انسان، از راه آب آلوده به این عنصر است. کشورهای زیادی در معرض آلودگی این عنصر هستند. در این کشورها، سنگ ها و کانی های دارای آرسنیک (مانند پیریت)، در معرض هوازدگی، اکسیده یا حل می شوند و عناصر موجود در آنها وارد منابع آب و سپس وارد بدن موجودات زنده می شود و باعث ایجاد بیماری می گردد. وقتی مقادیر بالای این عنصر وارد بدن انسان می شود، عوارض و بیماری های متعددی مانند ایجاد لکه های پوستی، سخت شدن و شاخی شدن کف دست و پا، دیابت و سرطان پوست را ایجاد می کند.

شکل ۵-۵. آلودگی آب و خاک به آرسنیک

بیشتر بدانید



● حدود پنجاه سال پیش، چاه های عمیق آب در بنگال غربی هندوستان حفر شد. مردم از این آب برای آبیاری مزارع برنج استفاده می کردند که زیربنای اقتصادی آنها را تشکیل می داد. پیش از آن، کشاورزان با آب محدودی که در دسترس بود، زمین های خود را آبیاری می کردند اما، با این روش جدید، سطح زیر کشت، بالا رفت و درآمد اقتصادی آنها به شدت افزایش یافت. آنها، آب را از چاه های عمیق برداشت می کردند و می توانستند ۳ یا ۴ نوبت کشت در سال انجام دهند. اما این آب، مقدار زیادی آرسنیک داشت و بیش از ۴۰۰ روستا در بنگال غربی تحت تأثیر شدیدترین مسمومیت آرسنیک جهان قرار گرفت و حدود ۶۰۰۰۰۰ نفر دچار مرگ زودرس شدند. بعد از شیوع بیماری های فراوان در منطقه بنگال غربی و بنگلادش، مطالعات انجام شده توسط



خشک شدن و شاخی شدن پوست بر اثر مصرف آب حاوی آرسنیک در بنگلادش

زمین شناسان بر روی سنگ های سازنده آبخوان های منطقه، وجود لایه های رسوبی حاوی عنصر آرسنیک با رگه هایی از کانی پیریت را نشان داد که چاه ها را آلوده می کرد.



شکل ۵-۶- نقشه پراکندگی مناطق دارای آلودگی آرسنیک در جهان (نقاط قرمز)

آرسنیک موجود در بعضی از سنگ‌ها، مانند زغال سنگ به مواد غذایی منتقل می‌شود. به نمونه‌ای از آن می‌توان در خشک کردن فلفل قرمز و ذرت به وسیله زغال سنگ در ناحیه‌ای از جنوب چین اشاره کرد. در این منطقه، خشک کردن مواد غذایی با حرارت زغال سنگ در محیط بسته، سبب آزاد شدن آرسنیک و ورود آن به مواد غذایی و آلودگی آنها می‌شود.

سنگ‌های دارای عنصر کادمیم: کادمیم، عنصری سمی و سرطان زاست که در کانسنگ‌های سولفیدی یافت می‌شود و مهم‌ترین منشأ آن در معادن روی و سرب است. این عنصر، از طریق گیاهان خوراکی و آب وارد بدن می‌شود.

پیوند با پزشکی

● تأثیر منفی کادمیم بر سلامتی از زمانی مشخص شد که آب‌های معدنی سرشار از کادمیم از یک معدن روی و سرب، وارد رودخانه و مزارع برنج منطقه‌ای در ژاپن گردید و پس از مدتی باعث شیوع بیماری ایتای ایتای (itai itai) شد. این بیماری، باعث تغییر شکل و نرمی استخوان در زنان مسن می‌شود. بعدها در مردم این منطقه، آسیب‌های کلیوی نیز رخ داد. با توجه به اینکه کادمیم همیشه با عنصر روی همراه است، استفاده از کودهای روی که از سنگ معدن روی تولید می‌شود، در مزارع می‌تواند باعث افزایش غلظت کادمیم در گیاهان و زنجیره غذایی شود.

سنگ‌های دارای جیوه: جیوه، عنصری سمی است که از سنگ‌های آتشفشانی، چشمه‌های آب گرم، در طی فرایند استخراج مواد معدنی و جداسازی طلا از کانسنگ آن به دست می‌آید. در مناطق معدنی، فرایند استخراج طلا یا ملقمه کردن طلا با جیوه در فعالیت‌های معدنی، منجر به آلودگی گسترده جیوه شده است. قرارگیری دراز مدت در معرض جیوه، از طریق دهان (آب و غذا) و پوست، باعث آسیب رساندن به دستگاه‌های عصبی، گوارش و ایمنی می‌شود.

جمع‌آوری اطلاعات

- در مورد ملقمه کردن طلا با جیوه، اطلاعات جمع‌آوری و در کلاس ارائه کنید.



مسمومیت با جیوه، اولین بار در سال ۱۹۵۶ در میناماتا ژاپن شایع شد که باعث بروز بیماری میناماتا و تولد کودکان ناقص گردید. مسمومیت به متیل جیوه در ژاپن، سوئد، عراق و ایالات متحده مشاهده شده است.

جمع‌آوری اطلاعات

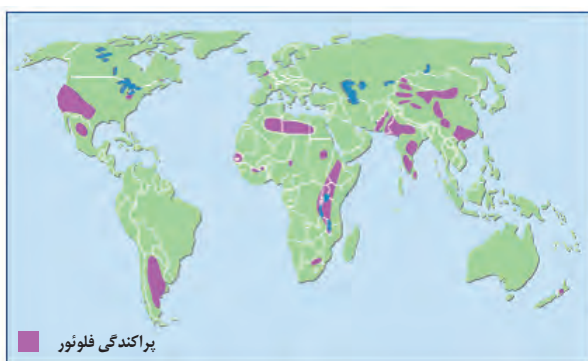
- خمیر دندان مصرفی شما چه مقدار فلئورید باید داشته باشد؟
- آیا مردم ساکن در مناطق مختلف باید از یک نوع خمیر دندان استفاده کنند؟
- در مورد روش‌های مختلف جبران فلئورید، اطلاعاتی جمع‌آوری و در کلاس گفت‌وگو کنید.



سنگ‌های دارای فلئورید: فلئورید، یک عنصر اساسی است که کمبود یا مصرف زیاد آن، هر دو باعث بروز بیماری می‌شود و منشأ اصلی و مسیر ورود آن به بدن، از راه نوشیدن آب است. فلئورید در ترکیب کانی‌های رسی و میکای سیاه به مقدار زیاد وجود دارد. دندان از کلسیم فسفات و مواد آلی تشکیل شده است. ورود مقداری فلئورید به ساختار بلوری دندان، باعث سخت‌تر شدن آن و مقاومت بیشتر در برابر پوسیدگی می‌شود. همچنین فلئورید در کاهش ابتلا به پوکی استخوان نیز مؤثر می‌باشد. کمبود فلئورید در رژیم غذایی، از مدت‌ها پیش عامل پوسیدگی دندان، شناخته شده و به همین دلیل، برای جبران این کمبود، مقداری فلئورید در ترکیب خمیر دندان وارد شده است.

پیوند با پزشکی

● در صورتی که آب‌های طبیعی، دارای بی‌هنجاری مثبت فلوراید باشد، حدود ۲ تا ۸ برابر مقدار معمول فلوراید را وارد بدن می‌کند. در این حالت، دندان‌ها همچنان در برابر پوسیدگی مقاوم هستند و تنها ممکن است با لکه‌های تیره‌ای پوشیده شوند که زیبایی دندان را از بین می‌برد. به این عارضه، فلورسیس دندانی می‌گویند که عارضه‌ای بازگشت‌ناپذیر است و بر اثر تخریب بافت مینای دندان ایجاد می‌شود.

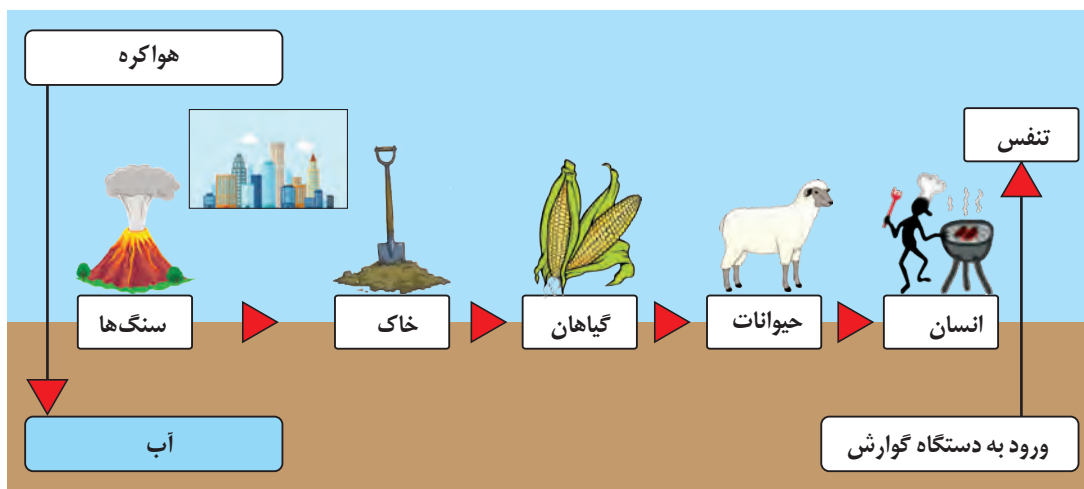


شکل ۷-۵. پراکندگی مناطق دارای آلودگی فلئورید در جهان (رنگ صورتی)

هنگامی که مصرف فلوراید بسیار افزایش می‌یابد و به ۲ تا ۴ برابر حد مجاز می‌رسد، خشکی استخوان و غضروف‌ها رخ می‌دهد.

مصرف بالای فلئورید، ممکن است برای انسان مسموم‌کننده باشد. بیش از ۲ میلیون نفر از مردم جهان از آبی استفاده می‌کنند که براساس استانداردهای جهانی، فلئورید بالاتر از حد مجاز دارند. مشکل کمبود فلئورید را می‌توان با اضافه کردن فلئورید به آب آشامیدنی رفع کرد. منشأ دیگر فلئورید، زغال سنگ حاوی فلئورید است و بر اثر سوزاندن زغال سنگ، مقدار زیادی فلئورید وارد محیط می‌شود.

سنگ‌های دارای سلنیم: سلنیم، یک عنصر اساسی ضدسرطان است که در کانی‌های سولفیدی و به‌خصوص در معادن طلا و نقره، چشمه‌های آب گرم، سنگ‌های آتشفشانی و خاک‌های حاصل از آنها به مقدار زیاد یافت می‌شود. بنابراین، منشأ اصلی سلنیم از خاک و مسیر ورود آن به بدن انسان، از طریق گیاهان است (شکل ۸-۵).



شکل ۸-۵- چرخه سلنیم

بیشتر بدانید



- مارکو پولو، در سفر خود در سال ۱۲۷۵ میلادی به اقامتگاه قوییلای خان در چین، به مرگ اسب‌های خود در اثر مسمومیت به علف‌های منطقه اشاره می‌کند. امروزه می‌دانیم که آن بخش از چین، دارای بی‌هنجاری مثبت سلنیم در خاک است و عوارض توصیف شده توسط مارکو، نشانگر مسمومیت ناشی از سلنیم است.

سنگ‌های دارای روی: عنصر روی، از عناصر فلزی مهم به شمار می‌رود و یک عنصر جزئی اساسی با منشأ زمینی است که بیشتر از طریق گیاهان وارد بدن انسان می‌شود. روی، علاوه بر اینکه در کانی‌های سولفیدی به مقدار زیاد وجود دارد، در سنگ‌های آهکی و برخی سنگ‌های آتشفشانی



شکل ۹-۵- قرص روی

نیز فراوان است. عوارض کمبود روی، شامل کوتاهی قد و اختلال در سیستم ایمنی بدن است. زیادی مقدار روی می تواند باعث کم خونی و حتی مرگ شود.

کمبودهای ناحیه‌ای عنصر روی، که ارتباطی با سنگ‌شناسی و خاک‌های منطقه دارد را باید با وارد کردن غذاها و داروهای روی دار مکمل رفع کرد.

عنصر ید: در سده نوزدهم، بیماری گواتر در نیمه شمالی آمریکا بسیار رایج بود و این منطقه، کمربند گواتر نامیده می‌شد. پژوهش‌ها نشان داد که کمبود ید در خاک این منطقه و گیاهان و دام‌های آن باعث این بیماری شده است و هنگامی که ید به رژیم غذایی مردم این منطقه اضافه شد، بیماری گواتر کاهش یافت. دلیل زمین‌شناختی این است که در بخش شمالی ایالات متحده پس از عصر یخ‌بندان، با آب شدن یخ‌ها، حجم زیادی آب در خاک نفوذ کرد و نمک‌های بسیار انحلال‌پذیر ید را با خود شست و خاک‌های فقیر از ید را بر جای گذاشت. کمبود ید در مناطق مختلف جهان، به خصوص مناطق کوهستانی دور از دریا، که فرسایش و بارندگی شدید، خاک را از ید فقیر می‌کند، بسیار شایع است.

عنصر کلسیم و منیزیم: از مدت‌ها پیش مشخص شده است که وجود عناصر کلسیم و منیزیم باعث سختی آب آشامیدنی می‌شود. میزان سختی آب در مناطق مختلف متفاوت بوده و با زمین‌شناسی هر منطقه مرتبط است. این عامل، با انواع خاصی از بیماری‌های کلیوی رابطه دارد.

بیشتر بدانید



● خاک‌خواری یا خوردن آگاهانه خاک توسط انسان‌ها مشاهده می‌شود. متخصصان تغذیه، این عمل را پاسخی برای کاهش سمیت برخی مواد موجود در رژیم غذایی و یا تأمین کمبودهای تغذیه‌ای می‌دانند. تمایل برخی از خانم‌های باردار به خوردن خاک، زغال و... در نسل‌های گذشته، نمونه‌ای از خاک‌خواری است. اما باید آلودگی این خاک‌ها به برخی عناصر سمی را مورد توجه قرار داد. نمونه دیگری از آن را می‌توان در استفاده خوراکی از خاک با تنوع رنگی در جزیره هرمز نام برد.

غبارهای زمین‌زاد: غباری که هر روز در حیاط خانه ما فرو می‌ریزد، ممکن است از هزاران کیلومتر دورتر منشأ گرفته باشد. غبار، پدیده‌ای جهانی است. توفان‌های غبار که از آفریقا منشأ می‌گیرند به کوه‌های آلپ هم می‌رسند و ریزگردهای برخی از کشورهای همسایه، وارد کشور ما شده و ما را دچار مشکلات زیادی کرده است. غبار از راه تنفس، وارد بدن انسان می‌شود و سلامت وی را تهدید می‌کند.



شکل ۱۰-۵- توفان گردوغبار

- اثرات توفان‌های گرد و غبار و ریزگردها:
- کاهش میزان انرژی دریافتی از خورشید (غبارها گرما را بازتاب و زمین را سرد می‌کنند)
- انتقال باکتری‌های بیماری‌زا به مناطق پر جمعیت
- افت کیفیت هوا
- انتقال مواد سمی
- فراهم کردن مواد مغذی اساسی برای جنگل‌های بارانی مناطق گرمسیری
- هسته‌های رشد قطرات باران

زمین‌شناسان در مطالعات خود، نوع کانی‌های تشکیل‌دهنده و ترکیب ژئوشیمیایی ریزگردها و غبارها را بررسی می‌کنند. آنها طی این بررسی‌ها، سرچشمه ریزگردها را با تصاویر ماهواره‌ای بررسی و نحوه انتقال آنها تا فواصل دور را مطالعه می‌کنند تا بتوانند پیامدهای حاصل از استنشاق غبارها بر سلامت انسان را پیش‌بینی و راهکارهایی برای کاهش اثرات آنها پیدا کنند. ذرات بسیار ریز غبار با ورود به ریه، باعث بیماری‌های ریوی می‌شوند. هرچه غلظت این غبارها، بیشتر باشد، نرخ بیماری‌های مزمن دستگاه تنفسی و مرگ و میر مرتبط با آن افزایش می‌یابد.




شکل ۱۱-۵- در طی دو روز، ۱۰ میلیارد تن ماگما و ۲۰ میلیون تن گوگرد دی‌اکسید از آتشفشان فعال پیناتوبو در سال ۱۹۹۱م، خارج شد و شرایط آب و هوایی کره زمین، جهان را در طی سه سال تحت تأثیر قرار داد. این رویداد به تنهایی ۲ میلیون تن روی، ۱ میلیون تن مس و ۵۵۰۰ تن کادمیم را در سطح زمین پخش می‌کند.

آتشفشان‌ها: فعالیت‌های آتشفشانی، فلزها و عناصر دیگر را از اعماق زمین به سطح می‌آورند. برای مثال بر اثر فوران آتشفشان پیناتوبو فیلیپین در سال ۱۹۹۱ میلیون‌ها تن خاکستر وارد اتمسفر و بر روی منطقه‌ای به وسعت هزاران کیلومتر مربع پخش شد که بیشتر عناصر طبیعی جدول تناوبی بود. آتشفشان‌ها، افزون بر عناصر اساسی، عناصر دیگری مانند آرسنیک، بریلیم، کادمیم، جیوه، سرب، رادون و اورانیم را هم وارد محیط می‌کنند که در شرایط خاص، خطرناک هستند.

این گونه فوران‌های آتشفشانی هر چند سال یک بار در تاریخ زمین رخ داده‌اند. این نکته را هم در نظر بگیریم که در هر زمان، به طور میانگین ۶۰ آتشفشان بر روی زمین فعال بوده و فوران کرده‌اند. مقدار کل فلزهای آزاد شده از آتشفشان‌ها، قابل توجه است.

بیشتر بدانید

● بیماری سیلیکوسیس که حاصل استنشاق گرد و غبار دارای ذرات سیلیس است، در سده بیستم برای نخستین بار در بادیه‌نشینان صحرای آفریقا شناسایی شد و پس از آن در کشاورزان پاکستان، کالیفرنیا، لاداخ (سیبری)، تار (هند) و نیز شمال چین یافت شد. شیوع این بیماری در لاداخ، ۲۲ درصد جمعیت روستایی و در شمال چین ۲۱ درصد جمعیت بالای ۴۰ سال را در بر می‌گیرد و به نظر می‌رسد جمعیت مبتلا در آسیا به چند میلیون نفر برسد.



● در کتاب علوم با کانی آزیست و تأثیر آن بر سلامت انسان آشنا شدید. در مورد استفاده از آزیست (پنبه‌نسوز*) در ساخت وسایل مختلفی مانند لنت ترمز،... و اثرات آن، مطالبی جمع‌آوری و در کلاس بحث کنید.

● علت ایجاد هر یک از بیماری‌های مشخص شده در تصویر زیر چیست؟

پوسیدگی دندان

آسیب مغزی

سیاه شدن شش‌ها

بیماری شش‌ها

نارسایی قلبی

شاخی شدن پوست

تغییر شکل استخوان

سنگ کلیه

کانی‌ها، استفاده‌های گسترده‌ای در داروسازی و صنایع بهداشتی دارند. پودر بچه که از کانی تالک تشکیل شده، آشناترین مثال استفاده از کانی‌ها در این صنایع است. در آنتی بیوتیک‌ها و قرص‌های مسکن، بهبود زخم معده و ... از کانی‌های مختلف، به‌ویژه انواع رس‌ها استفاده می‌شود. در خمیردندان‌ها کانی فلئوئوریت و در صنایع آرایشی، کرم‌های ضدآفتاب، تالک، میکا و رس‌ها کاربرد دارند. همچنین از سرب در تهیه لباس‌های محافظ در هنگام عکس برداری توسط پرتو X (ایکس) استفاده می‌شود.

علم،
زندگی،
کارآفرینی

● **زمین‌شناسی زیست‌محیطی:** شاخه‌ای از علم زمین‌شناسی است که با استفاده از اصول زمین‌شناسی، به حل مسائل زیست‌محیطی می‌پردازد. بهره‌برداری بیش از اندازه از منابع و معادن، فرسایش خاک، افزایش روزافزون پسماندها، فاضلاب‌ها و مواد شیمیایی موجب آلودگی بخش‌های مختلف زمین از جمله آب، هوا و خاک شده است. زمین‌شناسان زیست‌محیطی به مطالعه شیوه‌های انتقال و رفع آلاینده‌ها از محیط زیست می‌پردازند.



● **زمین‌شناسی پزشکی:** منشأ همه عناصر از زمین است و آلودگی‌های طبیعی و انسان‌زاد می‌تواند از سنگ و خاک به آب و گیاه و دام و از طریق غذا به بدن انسان انتقال یابد. برخی عناصر، برای بدن انسان و دیگر موجودات ضروری هستند. آهن در هموگلوبین، فسفر و کلسیم در ساختار دندان و استخوان، نقش اساسی دارد اما برخی ترکیب‌ها مانند نیترات‌ها و عناصری مانند جیوه، آرسنیک، سرب، کادمیم و ... برای سلامت انسان مضر هستند.

در مراکز مرتبط با معادن و منابع آب و کشاورزی، وجود متخصص زمین‌شناسی پزشکی ضروری به نظر می‌رسد.



مجمع آب درمانی



نمک درمانی



گرمسار - استان سمنان

۶ فصل

پویایی زمین

با آنکه خداوند، زمین را محیطی آرام برای زندگی انسان و سایر جانداران مهیا نموده است، اما درون این سیاره، فعال و پر جنب و جوش است که باعث حرکت ورقه‌های سنگ کره شده است. جابه‌جایی ورقه‌های سنگ کره، سبب پیدایش پدیده‌های طبیعی مانند شکستگی، زمین لرزه، چین خوردگی، فوران آتشفشان و... می‌شود.



چین خوردگی



گسل (بزرگراه زنگان - میانه)



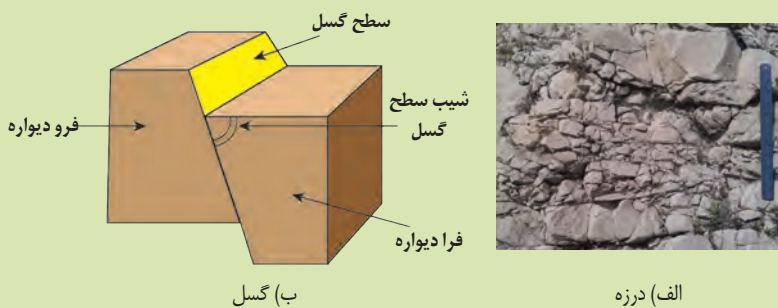
حرکت دامنه‌ای

شکستگی‌ها

شکستگی‌های پوسته زمین، یکی از نشانه‌های پویایی زمین است. مطالعه آنها در هنگام ساخت جاده‌ها، سدها، تونل‌ها و سایر سازه‌های مهندسی اهمیت زیادی دارد. افزون بر آن، در تجمع آب‌های زیرزمینی و ذخایر نفت و گاز و تشکیل کانسنگ‌های گرمابی حائز اهمیت می‌باشد.

یادآوری

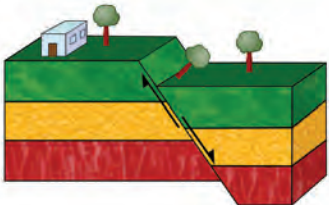
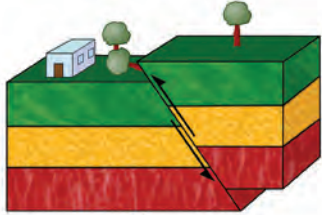
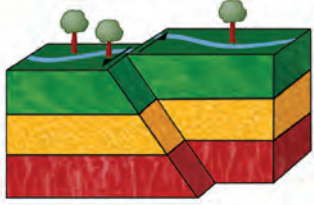
- در کتاب‌های درسی علوم تجربی آموختید که شکستگی‌ها، به دو دسته درزه و گسل تقسیم می‌شوند. تفاوت و تشابه درزه و گسل را بیان کنید.



شکل ۱-۶


سطح گسل، شکستگی و جابه‌جایی در آن اتفاق افتاده است. اگر سطح گسل مایل باشد به طبقات روی سطح گسل، فرادیواره و به طبقات زیر سطح گسل، فرودیواره می‌گویند.

جدول ۱-۶- انواع گسل و ویژگی‌های آن


شکل	نوع تنش	ویژگی	نوع گسل
	کششی	۱- سطح گسل مایل است. ۲- فرادیواره نسبت به فرودیواره به سمت پایین یا فرودیواره نسبت به فرادیواره به سمت بالا حرکت کرده است.	عادی
	فشاری	۱- سطح گسل مایل است. ۲- فرادیواره نسبت به فرودیواره، به سمت بالا یا فرودیواره نسبت به فرادیواره به سمت پایین حرکت کرده است.	معکوس
	برشی	۱- لغزش سنگ‌ها در امتداد سطح گسل است. ۲- حرکت قطعات شکسته شده، در امتداد افقی است.	امتداد لغز

فکر کنید

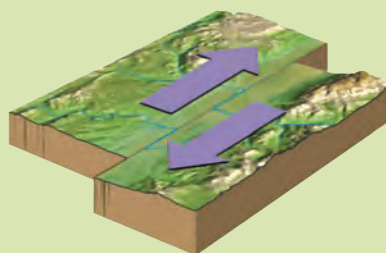
● در هر یک از گسل‌های زیر، نوع گسل را مشخص کنید.



(ب)



(الف)



(پ)



شکل ۲-۶- نقشه خطر زمین لرزه در بخش‌های مختلف ایران. چه ارتباطی بین زمین لرزه‌ها با گسل‌ها دیده می‌شود؟

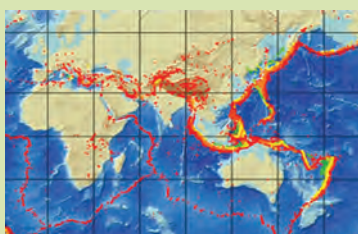
زمین لرزه

زمین لرزه، نشانه آشکاری از پویایی زمین و بخشی از نظام آفرینش این سیاره است. در هر زمین لرزه، مقدار انرژی انباشته شده در سنگ‌ها، به طور ناگهانی آزاد می‌شود و به صورت امواج لرزه‌ای به اطراف حرکت می‌کند. نگاهی به نقشه پراکندگی زمین لرزه‌ها نشان می‌دهد که توزیع آنها، در همه جا یکسان نیست.

علت اصلی زمین لرزه، حرکت ورقه‌های سنگ کره است. سنگ‌های سازنده سنگ کره در مقابل نیروی وارده، رفتار الاستیک از خود نشان می‌دهند. چنانچه تنش از مقاومت سنگ فراتر رود، سنگ‌ها دچار شکستگی شده و انرژی زمین لرزه از محل شکستگی به صورت امواج لرزه‌ای، آزاد می‌شود. در هر زمین لرزه، از گروه لرزه‌ها صحبت می‌شود که شامل پیش لرزه، لرزه اصلی و پس لرزه است. زمین لرزه، معمولاً کمتر از یک دقیقه طول می‌کشد.

بسیاری از مناطق مسکونی، در معرض خطر زمین لرزه قرار دارند. آیا می‌دانید که با وقوع زمین لرزه، چه حوادثی در سطح محلی و ملی رخ می‌دهد؟

کشور ایران با قرار گرفتن در کمربند لرزه خیز آلپ - هیمالیا، تقریباً هر روز شاهد وقوع زمین لرزه در مناطق مختلف می‌باشد. بسیاری از مناطق مسکونی ایران، بارها توسط زمین لرزه ویران شده‌اند.



● با استفاده از اطلاعات موجود در تصویر روبه‌رو در مورد پراکندگی جغرافیایی زمین لرزه‌های جهان، به پرسش‌های زیر پاسخ دهید:
۱- محدوده کمربند لرزه خیز آلپ - هیمالیا را مشخص کنید.

۲- در سال نهم با ورقه‌های سنگ کره آشنا شدید. دو تصویر روبه‌رو را با هم مقایسه کنید. چه نتیجه‌ای می‌گیرید؟

**با هم
بیندیشید**

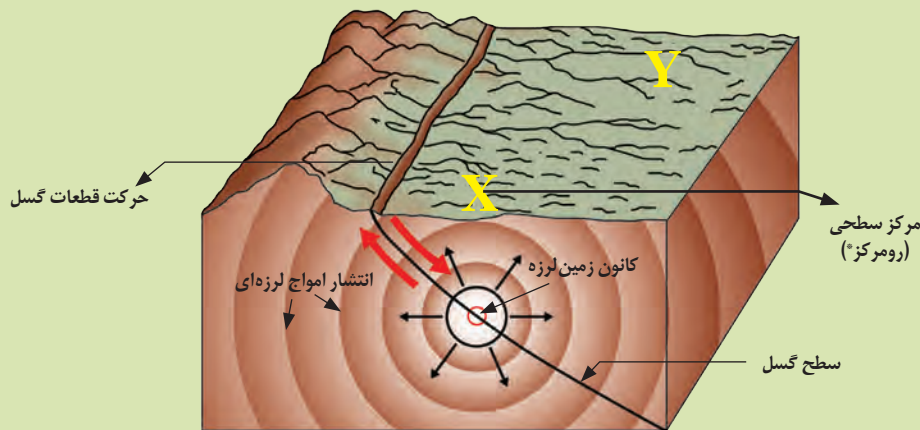
گفت و گو کنید

- کدام یک از فعالیت‌های انسانی زیر می‌تواند باعث وقوع زمین لرزه شود؟
انفجار معدن - تخلیه ناگهانی آب پشت سد - شخم زدن زمین - انفجارهای اتمی - آتش سوزی جنگل‌ها

کانون زمین لرزه: ۱- محلی درون زمین است که انرژی ذخیره شده از آنجا آزاد می‌شود.
مرکز سطحی زمین لرزه: ۲- نقطه‌ای در سطح زمین است که در بالای کانون زمین لرزه قرار دارد. این مرکز، کمترین فاصله را از کانون زمین لرزه دارد.

یادآوری

- طرح سه بعدی زیر، برخی از مشخصات محل وقوع زمین لرزه را نشان می‌دهد. با استفاده از اطلاعات موجود در تصویر، میزان خسارت احتمالی در دو نقطه X و Y را مقایسه کنید.

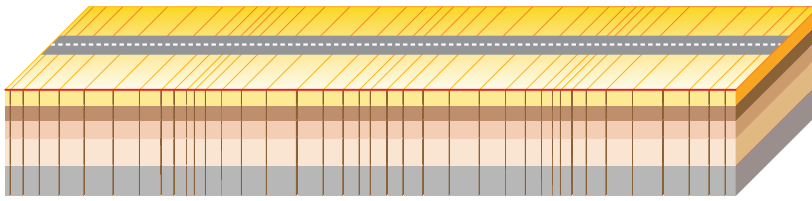


امواج لرزه‌ای


امواج درونی: این امواج در کانون زمین لرزه ایجاد می‌شوند و در داخل زمین منتشر می‌گردند و شامل امواج P و S می‌باشند.
موج P (اولیه، طولی): موج P، بیشترین سرعت را دارد به همین دلیل، اولین موجی است که توسط دستگاه لرزه نگار ثبت می‌شود. این موج، از محیط‌های جامد، مایع و گاز می‌گذرد، سرعت امواج در محیط‌های مختلف، متفاوت است. هر چه تراکم سنگ‌ها بیشتر باشد، امواج سریع‌تر حرکت می‌کنند.

۱- Hypocenter

۲- Epicenter

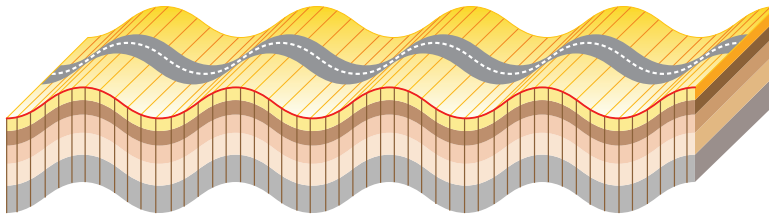


ب) نحوه حرکت موج طولی P

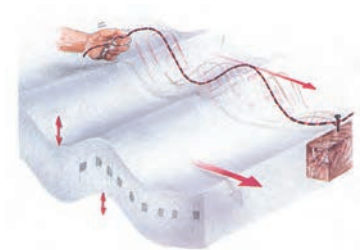


الف) امواج طولی (P)

موج S (ثانویه، عرضی): این موج بعد از موج P، توسط لرزه نگارها ثبت می‌شوند. این موج، فقط از محیط‌های جامد عبور می‌کند.

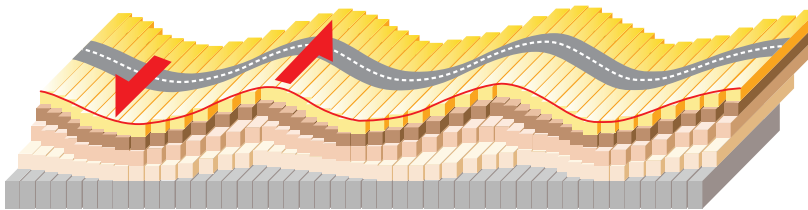


شکل ۳-۶- نحوه حرکت موج S



ب) امواج عرضی (S)

امواج سطحی: این امواج در کانون تولید نمی‌شوند؛ بلکه از برخورد امواج درونی با فصل مشترک لایه‌ها و سطح زمین ایجاد می‌شوند. متداول‌ترین آنها امواج لاو (L) و ریلی (R) هستند. موج L، موجی است که پس از موج S، توسط لرزه نگارها ثبت می‌شود.

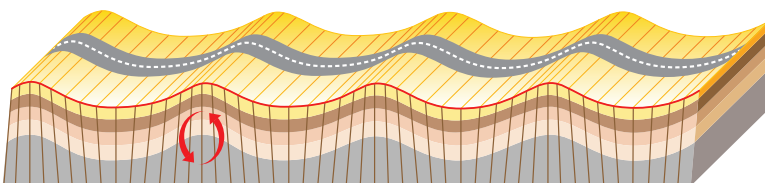


شکل ۴-۶- نحوه حرکت موج سطحی L

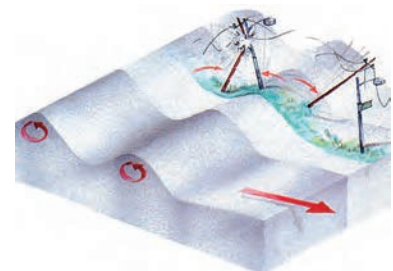


ج) امواج لاو (L)

موج R: مانند حرکت امواج دریا ذرات را در یک مدار دایره‌ای به ارتعاش درمی‌آورد. البته در موج ریلی، جهت حرکت دایره‌ای مخالف جهت حرکت امواج دریاست. عمق نفوذ و تأثیر امواج ریلی مثل امواج دریا محدود است و از سطح به عمق کاهش پیدا می‌کند.



شکل ۵-۶- نحوه حرکت موج سطحی R



د) امواج ریلی (R)

برای توصیف و اندازه‌گیری زمین لرزه از دو مقیاس شدت و بزرگی استفاده می‌شود. **شدت زمین لرزه:** این مقیاس براساس میزان خرابی‌ها در زمین لرزه بیان می‌شود. در واقع شدت زمین لرزه، یک مقیاس مشاهده‌ای و توصیفی است که بدون استفاده از دستگاه و ابزار اندازه‌گیری، به توصیف میزان خرابی‌های ناشی از زمین لرزه می‌پردازد. با دور شدن از مرکز سطحی زمین لرزه، شدت زمین لرزه کاهش می‌یابد. مرکالی، شدت زمین لرزه را در مقیاس کم با عدد ۱ و در مقیاس ۱۲ ویرانی کامل، توصیف کرده است.

جدول مرکالی توصیفی

بیشتر بدانید


I. احساس نمی‌شود	احساس نمی‌شود، مگر در شرایط ویژه. تنها توسط دستگاه‌های لرزه‌نگار قابل ثبت است.
II. ضعیف	توسط افراد در حال استراحت و در طبقات بالای ساختمان‌ها حس می‌شود. برخی از اشیای آویزان ممکن است نوسان کنند.
III. ضعیف	در فضای باز و در طبقات بالایی ساختمان‌ها کاملاً قابل احساس است. مردم آن را به صورت زمین لرزه شناسایی نمی‌کنند. ارتعاش مانند عبور کامیون است. مدت زمان لرزش قابل تخمین است.
IV. ملایم	در طی روز در فضای بسته توسط افراد زیادی حس می‌شود و در فضای باز عده‌معدودی حس می‌کنند. در شب عده‌ای را از خواب بیدار می‌کند. بشقاب‌ها، پنجره‌ها و درب‌ها تکان خورده و صدا می‌کنند. در ماشین‌های ایستاده ارتعاش قابل درک است.
V. متوسط	زمین لرزه توسط هر فردی قابل احساس است. بسیاری از خواب بیدار می‌شوند. برخی از پنجره‌ها، بشقاب‌ها و غیره شکسته می‌شوند. گچ کاری ساختمان‌ها ترک می‌خورند. اشیای ناپایدار، واژگون می‌گردند. سر و صدای درختان و سایر اشیای مرتفع شنیده می‌شود و آونگ ساعت‌ها متوقف می‌گردند. درب‌ها باز و بسته می‌شوند و امتداد حرکت زمین لرزه قابل درک است.
VI. قابل توجه	زمین لرزه توسط بسیاری از افراد حس می‌شود و بسیاری از مردم وحشت‌زده به فضای باز پناه می‌آورند. اشیای سنگین جابه‌جا می‌شوند و قطعات از گچ کاری کنده می‌شود. دودکش‌ها فرو می‌ریزند و خسارات جزئی به بار می‌آید. افراد به حالت نامتعادل قدم می‌زنند یا می‌ایستند. پنجره‌ها، درب‌ها و بشقاب‌ها شکسته می‌شوند. ساختمان‌های خشتی و ضعیف ترک برمی‌دارند. زنگ‌های کوچک به صدا درمی‌آیند.
VII. قوی	مردم وحشت‌زده به فضای باز فرار می‌کنند. خسارت بسیار کمی در ساختمان‌هایی که خوب طراحی و ساخته شده‌اند وارد می‌شود. به ساختمان‌های متوسط و معمولی خسارات جزئی و متوسط وارد می‌گردد. خسارات قابل ملاحظه‌ای در ساختمان‌های ضعیف و بد طراحی شده وارد می‌شود. آجرهای سست، لق می‌شوند. ایستادن مشکل می‌شود و اثاثیه شکسته می‌شوند. زنگ‌های بزرگ به صدا درمی‌آیند. زهکش‌های سیمانی آبرسانی خسارت می‌بینند. لغزش‌های کوچک اتفاق می‌افتد.
VIII. شدید	خسارت در ساختمان‌هایی که طراحی ویژه شده‌اند، بسیار جزئی است و در ساختمان‌های ضعیف بسیار شدید است. دیوارهای جداکننده به خارج از قاب ساختمان پرتاب می‌شوند. دودکش‌ها، ستون‌ها، دیوارها و دودکش‌های کارخانه‌ها و سنگ‌های یادبود سقوط می‌کنند. اشیای سنگین واژگون می‌گردند. تغییراتی در سطح آب چاه‌ها ایجاد می‌شود. ماسه و گل به مقدار کم بیرون زده می‌شوند. رانندگی مشکل می‌گردد. ترک‌هایی در زمین‌های مرطوب و شیب‌های ملایم ایجاد می‌شود. تغییراتی در آب و درجه حرارت چشمه‌ها و چاه‌ها ایجاد می‌شود. خانه‌های اسکلت‌دار بر روی سطح پی حرکت می‌کند. شاخه‌های درختان شکسته می‌شوند.
IX	خسارت قابل ملاحظه‌ای در ساختمان‌هایی که طراحی ویژه شده‌اند، ایجاد می‌شود. ساختمان‌های اسکلتی خوب طراحی شده کج می‌شوند. ساختمان بر روی پی تغییر مکان می‌دهد. ترک‌هایی آشکار در زمین ایجاد می‌گردد. خطوط لوله زیرزمینی شکسته می‌شوند. وحشت عمومی بر مردم غالب می‌شود. به ساختمان‌های ضعیف خسارات سنگین وارد می‌شود و حتی ممکن است کاملاً فرو بریزند. در مناطق آبرفتی ماسه و گل بیرون می‌آیند.
X	سازه‌های چوبی خوب ساخته شده ویران می‌شوند. بسیاری از سازه‌های اسکلت‌دار بنایی به همراه پی ویران می‌شوند. در زمین ترک‌های بزرگی ایجاد می‌گردد. خطوط راه‌آهن کج می‌شوند. زمین‌لغزش‌های قابل ملاحظه‌ای در کنار رودخانه‌ها و شیب‌های ملایم اتفاق می‌افتد. خسارات جدی به سدها و مخازن وارد می‌گردد. در زمین، لغزش‌های بزرگ اتفاق می‌افتد و آب از مخازن و کانال‌ها و رودخانه‌ها و دریاچه‌ها و غیره بیرون ریخته می‌شود.
XI	تعداد کمی از ساختمان‌ها استوار باقی می‌مانند. پل‌ها ویران می‌گردند. خطوط لوله زیرزمینی کاملاً غیرقابل استفاده می‌شوند. خطوط راه‌آهن به شدت کج می‌شوند. زمین باتلاقی می‌شود. لغزش‌هایی در زمین‌های نرم ایجاد می‌شود.
XII	ویرانی کامل، امواج بر روی سطح زمین مشاهده می‌شوند. اشیا به هوا پرتاب می‌شوند و سنگ‌های بزرگ جابه‌جا می‌شوند.

فکر کنید

• چه ایرادی به مقیاس شدت زمین لرزه وارد است؟

بزرگی زمین لرزه: بزرگی (بزرگا) زمین لرزه، براساس مقدار انرژی آزاد شده از زمین لرزه محاسبه می شود. هرچه انرژی آزاد شده، زیادتر باشد ارتعاشات ناشی از آن، شدیدتر و دامنه نوسانات امواج آن زمین لرزه، بزرگ تر خواهد بود. بزرگی زمین لرزه را به کمک اطلاعات لرزه نگار، تعیین می کنند. واحد اندازه گیری بزرگی، ریشتر است.

به ازای هر یک واحد بزرگی، دامنه امواج ۱۰ برابر و مقدار انرژی $31/6$ برابر افزایش می یابد. بزرگی زمین لرزه در تمام نقاط زمین یکسان است، اما شدت آن با دور شدن از مرکز سطحی زمین لرزه کاهش می یابد.



۱۹۸۵-۱۹۰۰ میلادی

مفاخر جهان

• چارلز ریشتر ژئوفیزیک دان، با ارائه گزارش مطالعه زمین لرزه های کم عمق و عمیق که در سال ۱۹۲۸ به چاپ رسید، مقیاس خود را ابداع کرد و بعد از تکمیل این مقیاس با همکاری گوتنبرگ که با هم در مؤسسه تکنولوژی کالیفرنیا کار می کردند، اولین بار در سال ۱۹۳۵ از آن برای بیان بزرگی زمین لرزه استفاده کرد.

ریشتر، لگاریتم بزرگ ترین دامنه موجی است که در فاصله یک صد کیلومتری از مرکز یک زمین لرزه، توسط لرزه نگار استاندارد ثبت شده باشد.

پیوند با ریاضی

• مقدار انرژی آزاد شده و دامنه امواج زمین لرزه ای با بزرگی ۶ ریشتر، چند برابر زمین لرزه ای با بزرگی ۴ ریشتر است؟

فکر کنید

• بزرگی و شدت زمین لرزه بم را در شهرهای بم و تهران با هم مقایسه کنید.

پیش بینی زمین لرزه

از گذشته تاکنون، بشر همواره به دنبال پیش بینی زمان وقوع حوادث طبیعی مانند زمین لرزه بوده است. از میلیون ها زمین لرزه کوچک و بزرگ که تاکنون رخ داده است، فقط تعداد انگشت شماری از آنها، قبل از وقوع، پیش بینی شده اند. علی رغم پیشرفت های وسیع ایجاد شده در دهه های اخیر، درباره فناوری های مختلف و علم لرزه شناسی، هنوز دانشمندان در زمینه روش های علمی قابل اعتماد برای پیش بینی زمان دقیق وقوع زمین لرزه به نتیجه نرسیده اند. البته زمین شناسان محل های لرزه خیز کره زمین را شناسایی کرده اند.

به برخی از علائم و نشانه ها که بتوان با استفاده از آنها وقوع زمین لرزه را پیش بینی کرد «پیش نشانگر» گفته می شود. برخی از این نشانه ها عبارت اند از:

- ۱- تغییرات گاز رادون در آب‌های زیرزمینی
- ۲- ایجاد تغییر در سطح تراز آب زیرزمینی
- ۳- پیش‌لرزه
- ۴- ناهنجاری در رفتار حیوانات
- ۵- ابر زمین‌لرزه

جمع‌آوری اطلاعات

● وقوع زمین‌لرزه چه فوایدی دارد؟
درباره فواید زمین‌لرزه، اطلاعات جمع‌آوری و در کلاس ارائه دهید.

ایمنی در برابر زمین‌لرزه

قبل از وقوع زمین‌لرزه چه باید کرد؟

- ۱- امکان خطر آتش‌سوزی، از طریق سیم‌های برق فرسوده، نشستی لوله‌های گاز و وسایل گازسوز را بررسی کنید.
- ۲- محل فیوز برق و شیر اصلی گاز و آب را به خاطر بسپارید.
- ۳- وسایل شکستنی از قبیل ظروف شیشه‌ای و چینی، اشیاء و وسایل سنگین را در طبقات پایین قفسه‌ها بگذارید و قفسه‌ها را به دیوار متصل کنید.
- ۴- لامپ‌ها و لوسترهای سقفی را محکم کنید.
- ۵- محل‌های امن خانه، مدرسه یا محل کار خود را پیدا کنید.
- ۶- بسته وسایل کمک‌های اولیه و مواد غذایی خشک لازم و ایمنی همچون چراغ قوه را تهیه و در جای مناسب قرار دهید.

هنگام وقوع زمین‌لرزه چه باید کرد؟

- ۱- بیشتر آسیب‌دیدگی‌ها مربوط به رفت و آمد افراد در زمان وقوع زمین‌لرزه است. هر جا هستید، در همان جا پناه بگیرید.
- ۲- اگر داخل ساختمان هستید به زیر یک میز محکم، محل دارای سقف کم‌وسعت، یا کنار دیوارهای داخلی پناه بگیرید. از شیشه پنجره‌ها دور شوید. از شمع، کبریت و هر چه که شعله دارد، استفاده نکنید.
- ۳- در بیرون از ساختمان، از پل‌ها، تیرها، سیم‌های برق، ساختمان‌ها و دیوارها دور شوید.
- ۴- اگر داخل اتومبیل هستید، از پل‌ها و ساختمان‌ها فاصله بگیرید و فوراً متوقف شوید.

بعد از وقوع زمین‌لرزه چه باید کرد؟

- ۱- مراقب پس‌لرزه‌ها باشید.
- ۲- رادیو را روشن کنید و به پیام‌ها و راهنمایی‌ها عمل کنید.
- ۳- ضمن مراقبت از سلامتی خود به افراد ناتوان و کودکان کمک کنید.
- ۴- اگر بوی گاز می‌آید، شیر اصلی گاز را ببندید و پنجره‌ها را باز کنید. نشت گاز را به مقامات مربوطه گزارش دهید.
- ۵- در صورت آسیب‌دیدگی سیم‌های برق، کنتور برق را قطع کنید.
- ۶- اگر لوله‌های آب، صدمه دیده‌اند، شیر اصلی آب را ببندید.
- ۷- داروها و مواد شیمیایی زیان‌آور پخش شده را فوراً جمع کنید.

مهم ترین علت های آسیب دیدگی از زمین لرزه

۱- فرو ریختن ساختمان، شیشه پنجره های شکسته و در حال افتادن و قطعات ااثاثیه، زیرا ممکن است پس لرزه ها سبب فرو ریختن آنها شوند.

۲- خطرات آتش سوزی به علت شکستن لوله های گاز، اتصال سیم های برق به علت افتادن آنها بر روی زمین و بی آب ماندن به علت شکستن لوله های آب.

وسایل و مواد لازمی که باید همیشه در دسترس باشند

۱- چراغ قوه با باتری های اضافی، پول نقد، رادیو و آچار قابل تنظیم

۲- جعبه کمک های اولیه با داروها و مواد ضروری

۳- کپسول آتش نشانی

۴- آب آشامیدنی

۵- غذاهای کنسرو شده و خشک برای مصرف یک هفته

اعضای خانواده، در بازکن قوطی، کبریت، اجاق گاز قابل حمل (پیک نیک)

۶- شماره تلفن پلیس، آتش نشانی و اورژانس



چین خوردگی

رشته کوه هایی مانند البرز و زاگرس، حاصل چین خوردگی بخشی از سنگ کره است. چین ها، به شکل های تک شیب، تاقدیس و ناودیس دیده می شوند. در صورتی که لایه های سنگی طوری خم شوند که لایه های قدیمی تر در مرکز و لایه های جدیدتر در حاشیه قرار گیرند، تاقدیس تشکیل می شود و چنانچه لایه های جدیدتر در مرکز و لایه های قدیمی تر در حاشیه چین قرار گیرند، ناودیس به وجود می آید.



ب) تاقدیس و ناودیس



الف) تک شیب

شکل ۶-۶- انواع چین

امروزه فعالیت‌های آتشفشانی زیادی در تمام نقاط کره زمین، داخل خشکی‌ها، در بستر اقیانوس‌ها، دریاها و دریاچه‌های بزرگ صورت می‌گیرد.

مواد خارج شده از آتشفشان‌ها، به صورت جامد (تفرا)، مایع (لاوا یا گدازه) و بخارهای آتشفشانی (فومرول) است.



دماوند



تفتان

شکل ۶-۷- آتشفشان نیمه‌فعال تفتان و دماوند با فعالیت فومرولی

تفرا: به مواد آتشفشانی جامد که به صورت ذرات ریز و درشت بر اثر فعالیت آتشفشان به هوا پرتاب می‌شود، تفرا می‌گویند.

جدول ۶-۲- اندازه ذرات جامد آتشفشان

اندازه ذرات (میلی‌متر)	نام ذرات
کوچک‌تر از ۲	خاکستر
بین ۲ تا ۳۲	لاپیلی
بزرگ‌تر از ۳۲	قطعه سنگ و بمب (دوکی شکل)



در آتشفشان‌های انفجاری، مواد جامد آتشفشانی به هوا پرتاب می‌شوند. با فرونشینی آنها بر سطح زمین، از به هم چسبیدن و سخت شدن این مواد، گروهی از سنگ‌های آتشفشانی، به نام سنگ‌های آذرآواری تشکیل می‌شوند.

در صورتی که خاکستر آتشفشانی در محیط‌های دریایی کم‌عمق ته‌نشین شوند، توف آتشفشانی به وجود می‌آید. به عنوان مثال می‌توان توف‌های سبز البرز را نام برد. توف، یک نوع سنگ آذرآواری است.

شکل ۶-۸- سنگ آذرآواری

گدازه: گدازه‌ها، مواد مذابی هستند که از دهانه آتشفشان خارج می‌شوند. هر چه گدازه روان‌تر (سیلیس کمتر) باشد، مخروط آتشفشان، شیب و ارتفاع کمتری دارد.

بخارهای آتشفشانی: مواد مذاب درون زمین، حاوی مقداری گاز و بخار آب می‌باشد. ترکیب شیمیایی گازهای خروجی از آتشفشان، بسیار متفاوت است. بیشتر گازهای آتشفشانی را بخار آب، گازهای کربن دی‌اکسید، اکسیدهای گوگردی، نیتروژن دار، کلردار و کربن مونو اکسید تشکیل می‌دهند. پس از فعالیت یک آتشفشان، خروج گاز (مرحله فومرولی) ممکن است سال‌ها و حتی قرن‌ها ادامه داشته باشد. در حال حاضر آتشفشان‌های دماوند و تفتان، در مرحله فومرولی به سر می‌برند و از دهانه آنها بخار آب، گاز گوگرد و... خارج می‌شوند.



پ) خاکستر آتشفشانی



ب) گدازه



الف) بمب آتشفشانی

شکل ۹-۶- نوع و اندازه متفاوت مواد خروجی از دهانه آتشفشان‌ها

فواید آتشفشان‌ها

مطالعه درون زمین: هر آتشفشان به منزله پنجره‌ای به درون زمین است که از طریق آن اطلاعاتی در مورد پوسته و گوشته بالایی به دست می‌آید.

تشکیل هواکره: در گذشته همراه با سرد شدن زمین، بخش زیادی از گازهای درون زمین از طریق فعالیت آتشفشان‌ها، از شکستگی‌ها و منافذ سنگ‌ها و لایه‌های آبدار خارج شدند و شرایط لازم برای تشکیل هوا کره فراهم گردید.

تشکیل آب کره: بخشی از گازهای خروجی از آتشفشان‌ها، با یکدیگر ترکیب شده و آب را به وجود آورده‌اند. آب، فرورفتگی‌های سطح زمین را پر کرده و باعث ایجاد اقیانوس‌ها، دریاها، دریاچه‌ها و رودها شده است.

تشکیل خاک و رسوب: خاکستر و گدازه آتشفشانی از دهانه آتشفشان خارج می‌شود و خاک حاصلخیزی را به وجود می‌آورد. برخی از مزارع حاصلخیز جهان بر روی خاکسترهای آتشفشانی قرار گرفته است.

تشکیل پوسته جدید اقیانوسی: خروج مواد مذاب گوشته از محور میانی رشته کوه‌های میان اقیانوسی، سبب تشکیل پوسته جدید اقیانوسی می‌شود. نتیجه این آتشفشان‌ها، علاوه بر گسترش بستر اقیانوس‌ها، سبب نزدیک شدن ورقه‌ها در محل دراز گودال‌های اقیانوسی می‌شوند. در این مناطق، به علت برخورد ورقه‌ها، فرورانش صورت می‌گیرد و کوه‌ها به وجود می‌آیند. کوه‌ها نیز، با ایجاد پستی و بلندی در سطح زمین، سبب تداوم فرسایش و رسوب گذاری می‌گردند.



شکل ۱۰-۶- چشمه آب گرم در دامنه آتشفشان بزمان

تشکیل رگه‌های معدنی: فعالیت آتشفشانی منجر به تشکیل برخی رگه‌های معدنی مانند طلا، نقره و مس می‌شود.


تشکیل چشمه‌های آب گرم: اطراف آتشفشان‌ها، مناطق مناسبی برای تشکیل چشمه‌های آب گرم معدنی می‌باشند. آب‌هایی که درون پوسته هستند، گرم شده و از طریق شکستگی‌های سطح زمین، به صورت چشمه‌های آب گرم در سطح زمین ظاهر می‌شوند. آب این چشمه‌ها از نظر بهداشتی برای درمان بیماری‌های پوستی و آرامش عضلانی مفید هستند و با جذب گردشگران، سبب رونق اقتصاد محلی می‌شوند.

انرژی زمین گرمایی: در مناطق آتشفشانی، از گرمای درون زمین به عنوان انرژی زمین گرمایی استفاده می‌شود. کشور ایسلند بخش عمده انرژی مورد نیاز خود را از انرژی زمین گرمایی تأمین می‌کند. اولین نیروگاه زمین گرمایی خاورمیانه نیز در نزدیکی آتشفشان سبلان در استان اردبیل تأسیس شده است.

آتشفشان‌ها، افزون بر خروج انرژی درونی زمین، منجر به آرامش نسبی ورقه‌های سنگ کره می‌شوند. از انواع سنگ‌های آتشفشانی در نمای ساختمان‌ها و مصالح ساختمانی استفاده می‌شود.



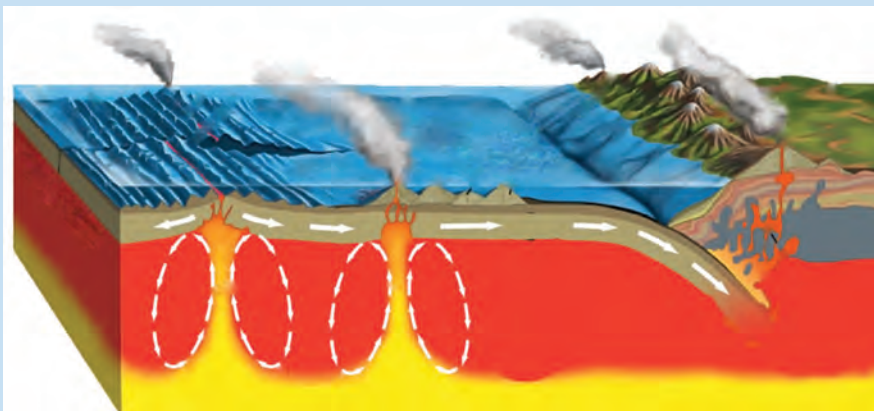
شکل ۱۱-۶- نیروگاه زمین گرمایی مشکین شهر- اردبیل




• ژئوفیزیک: ژئوفیزیک‌دان‌ها، برای مطالعه ساختمان درونی زمین، که به راحتی در دسترس نیست و همچنین شناسایی ذخایر و معادن زیرزمینی با استفاده از امواج لرزه‌ای، بررسی مغناطیس زمین، مقاومت الکتریکی و شدت گرانش سنگ‌ها، به مطالعه آنها می‌پردازند.


• زمین ساخت (تکتونیک): زمین‌شناسی ساختمانی و زمین ساخت، علم شناسایی و بررسی ساختارهای تشکیل دهنده پوسته زمین و نیروهای به وجودآورنده آنهاست. گسل‌ها، درزه‌ها، چین‌ها و دیگر ساختارهای زمین، نقش مهمی در تجمع منابع زیرزمینی و احداث پروژه‌های عمرانی دارند. از سوی دیگر، زمین ساخت به مطالعه ساختار درونی زمین، چگونگی تشکیل رشته کوه‌ها، اقیانوس‌ها، زمین لرزه‌ها و حرکت ورقه‌های سنگ کره می‌پردازد.

متخصصین این رشته‌ها، در مراکزی مانند سازمان زمین‌شناسی و اکتشافات معدنی کشور، مؤسسه ژئوفیزیک، پژوهشگاه زمین لرزه، مدیریت بحران، شهرداری‌ها و... به کار مشغول می‌شوند.






تصویر ماهواره‌ای ایران



زمین‌شناسی ایران

ایران، به نظر بسیاری از زمین‌شناسان جهان که از مناطق مختلف آن بازدید کرده‌اند، بهشت زمین‌شناسی است. به‌راستی، چه عواملی باعث این تفکر شده است؟ پدیده‌های متنوع کم‌نظیری مانند آتشفشان‌های نیمه فعال، گل‌فشان‌های متعدد، کلوتهای وسیع و مرتفع، گنبد‌های نمکی و ... در نقاط مختلف ایران یافت می‌شود که پژوهشگران زیادی را از سراسر جهان به خود علاقه‌مند کرده است. زمین‌شناسان از حدود دویست سال پیش تاکنون، پژوهش‌های زیادی بر روی مناطق مختلف ایران انجام داده‌اند ولی هنوز ناشناخته‌های بسیاری وجود دارد که توجه پژوهشگران را به خود جلب می‌کند.



گل فشان (چابهار)



گنبد نمکی (جاشک)



دره ستارگان (قشم)

تاریخچه زمین شناسی ایران

سرزمین ایران، تاریخ تکوین پیچیده‌ای را پشت سر گذاشته است. بخش‌های مختلفی که اکنون ایران زمین را تشکیل می‌دهند، در دوره‌های مختلف زمین‌شناسی، بخش‌هایی از آن قسمتی از ابرقاره گندوانا و لورازیا بوده‌اند. تعیین سن سنگ‌های مناطق مختلف ایران نشان می‌دهد که قدیمی‌ترین سنگ‌ها، سنی بیش از ۴/۶ میلیارد سال دارند که در مقایسه با سنگ‌های قدیمی یافت شده در آمریکای شمالی، آفریقا، هند، سیبری، استرالیا و عربستان جوان‌تر هستند.

حدود ۱۸۰ میلیون سال پیش تیتیس کهن کاملاً بسته شد و رشته کوه البرز در ایران تشکیل شد. در حدود ۶۵ میلیون سال پیش، ورقه عربستان به ورقه ایران برخورد کرد و اقیانوس تیتیس بسته و شکل‌گیری رشته کوه زاگرس آغاز شد و تاکنون ادامه دارد. دریای خزر و دریاچه آرال، از بازمانده‌های این اقیانوس هستند.

● قدیمی‌ترین سنگ‌های ایران در کدام مناطق یافت می‌شوند؟

تحقیق کنید

● حدود ۶۰۰ میلیون سال پیش، قاره بزرگی به نام پانگه‌آ بر روی کره زمین وجود داشت که از به هم پیوستن همه خشکی‌ها به وجود آمده بود. این خشکی بزرگ در اواسط کامبرین، یعنی حدود ۵۰۰ میلیون سال پیش، بر اثر فرایندهای زمین‌ساختی شروع به باز شدن کرد و اقیانوس تتیس در این زمان تشکیل شد. در اوایل پرمین، یعنی حدود ۲۹۰ میلیون سال پیش به بیشترین وسعت خود رسید. در آن زمان، ایران مرکزی و البرز، بخشی از خشکی گندوانا بودند. اقیانوس تتیس کهن، طولی بیش از چندین هزار کیلومتر داشت و از استرالیا تا چین، ایران، و اروپای امروزی ادامه می‌یافت.

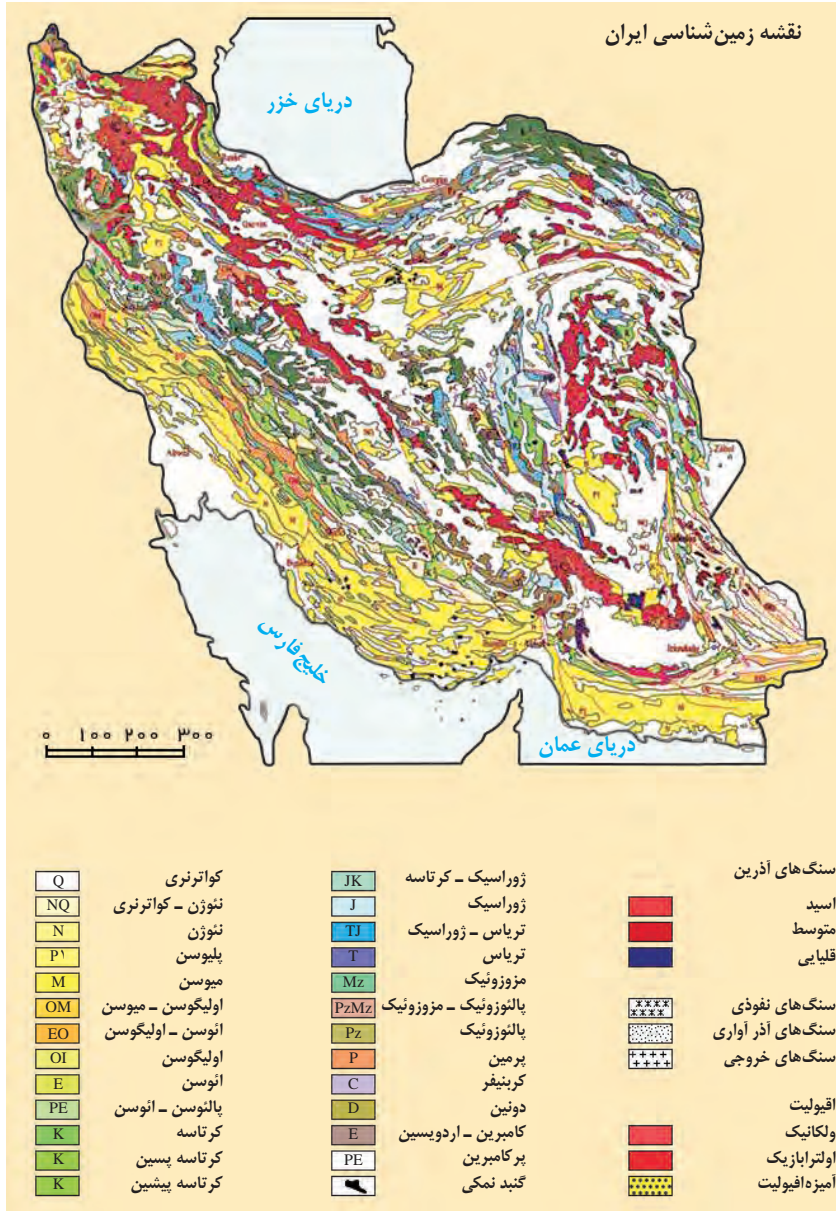
● در اوایل پرمین، بر اثر باز شدن قاره گندوانا، تشکیل اقیانوس جدیدی به نام تتیس نوین در بخش جنوبی تتیس کهن، شروع شد. هر چه تتیس نوین بزرگ‌تر می‌شد، تتیس کهن بر اثر فرورانش به سمت جنوب کوچک‌تر می‌شد. پس از آن تتیس نوین به بیشترین وسعت خود رسید. دریای سیاه در شمال ترکیه، بازمانده اقیانوس تتیس کهن است.



● در حدود ۱۰۰ میلیون سال پیش، با باز شدن اقیانوس هند، آفریقا و شبه قاره هند از گندوانا جدا شدند و به سمت شمال حرکت کردند. با این حرکت، اقیانوس تتیس نوین شروع به فرورانش به سمت شمال و به زیر قاره بزرگ شمالی (اوراسیا) کرد.

نقشه‌های زمین‌شناسی

در نقشه‌های زمین‌شناسی، جنس و پراکندگی سطحی سنگ‌ها، روابط سنی آنها، وضعیت شکستگی‌ها و چین خوردگی‌ها و موقعیت کانسارها و... نمایش داده می‌شوند.



شکل ۱-۷- نقشه زمین‌شناسی ایران که نشان دهنده پراکندگی سنگ‌های دوره‌های زمین‌شناسی مختلف است.

مطالعات انجام شده توسط زمین‌شناسان، نشان می‌دهند که فرایندهای زمین‌شناسی متعددی در طول زمان، چهره امروزی سرزمین ایران را به وجود آورده است. تحولات زمین‌شناختی ایران در دوره‌های مختلف زمین‌شناسی، پیچیده بوده است. سرزمین ایران، از چندین قطعه مختلف و جدا از هم سنگ‌کره تشکیل شده که هر کدام تاریخچه تکوین متفاوتی دارند.

اشتوکلین، از پیشگامان مطالعات نوین زمین‌شناسی در ایران است. او با جمع‌بندی مطالعات و مشاهدات زمین‌شناسی، برای نخستین بار سرزمین ایران را از نظر ساختارهای زمین‌شناسی به چند بخش جداگانه تقسیم‌بندی کرد. این تقسیم‌بندی، مبنایی برای کار پژوهشگران بعدی شد. در ادامه، با آگاهی‌های بیشتر از ویژگی‌های زمین‌شناسی ایران، تقسیم‌بندی‌های جامع‌تری ارائه می‌شود.

برخی مشخصات پهنه‌های زمین‌ساختی در ایران

نام پهنه	سنگ‌های اصلی	منابع اقتصادی	ویژگی‌ها
زاگرس	سنگ‌های رسوبی	ذخایر نفت و گاز	تاق‌دیس‌ها و ناودیس‌های متوالی
سنندج - سیرجان	سنگ‌های دگرگونی	معادنی مانند: سرب و روی ایرانکوه	انواع سنگ‌های دگرگونی
ایران مرکزی	سنگ‌های رسوبی آذرین - دگرگونی	معادنی مانند: آهن چغارت و روی مهدی‌آباد	سنگ‌های پرکامبرین تا سنوزوییک
البرز	سنگ‌های رسوبی	رگه‌های زغال سنگ	دارای دو بخش شرقی - غربی دارای قله دماوند
شرق و جنوب شرق ایران	سنگ‌های آذرین و رسوبی	معادنی مانند: منیزیت - مس	دشت‌های پهناور، خشک و کم‌آب فرورانش پوسته اقیانوسی دریای عمان به زیر ایران در منطقه مکران
کپه‌داغ	سنگ‌های رسوبی	ذخایر عظیم گاز	توالی رسوبی منظم
سپهند - بزمان (ارومیه - دختر)	سنگ‌های آذرین	ذخایر فلزی	فرورانش تئیس نوین به زیر ایران مرکزی



۱۹۲۱ - ۲۰۰۸ میلادی

• یووان اشتوکلین (Jovan Stocklin) زمین‌شناس سوئیس و چهره‌ای ماندگار در زمین‌شناسی ایران است که نقش تأثیرگذاری در توسعه علم زمین‌شناسی در ایران داشته است. اشتوکلین، پس از اخذ مدرک دکترای زمین‌شناسی از دانشگاه ETH زوریخ در سوئیس، در سال ۱۹۵۰ میلادی (۱۳۲۹ ه.ش) در قالب همکاری با سازمان ملل متحد، به منظور انجام مطالعات زمین‌شناسی، راه‌اندازی سازمان زمین‌شناسی و اکتشافات معدنی کشور، راه‌اندازی بخش اکتشاف شرکت نفت و تربیت نیروی متخصص زمین‌شناسی به ایران آمد.

مفاخر جهان



اشتوکلین به مدت ۲۷ سال از عمر خود را در ایران گذراند، به همه نقاط ایران سفر کرد و به مطالعه زمین شناسی پرداخت و برای اغلب نقاط با همکاری بسیاری از زمین شناسان ایران، نقشه های زمین شناسی را تهیه و تعداد زیادی از کانسارها و منابع نفت و گاز در خشکی را کشف کرد.

وی در زمان اقامت و کار در ایران، با سفر به مناطق بکر و ناشناخته، با کمترین امکانات و با مسافرت در دشت ها، کوه ها، نمکزارها و مناطق خطرناک، مطالعات زمین شناسی را انجام داد. وی که در کودکی، آرزوی دیدن شتر را در سر داشت، به گفته خودش، به مراد خود رسید و در بیشتر عملیات صحرایی خود در مناطق دشوار کوهستانی و بیابانی، با استفاده از شتر، این مطالعات را در شرایط دشوار آب و هوایی از سرمای کوهستان تا گرمای مناطق کویری با شوق وافر انجام داد.

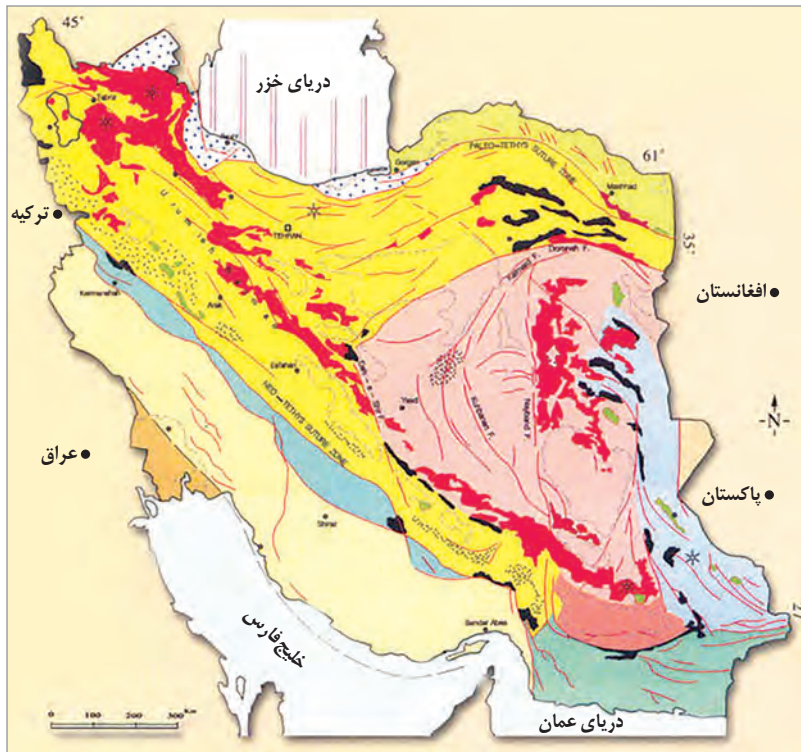
اشتوکلین، علاقه بسیاری به ایران داشت، به طوری که کمتر فرد خارجی را می توان یافت که تا این حد به ایران و ایرانیان عشق ورزیده باشد. در سال ۱۳۵۴، به این نتیجه رسید که وظیفه او در تربیت زمین شناسان خبره به انجام رسیده و بنابراین برای خدمت در کشور نپال عازم آنجا شد؛ اما، همچنان علاقه به ایران، در او وجود داشت تا اینکه در سال ۱۳۵۵ بار دیگر برای سرپرستی بخش اکتشاف در سازمان انرژی اتمی ایران، از وی دعوت به کار شد و او با اشتیاق پذیرفت، زیرا به گفته وی، فرزندانش، ایران را بیشتر از سوئیس، وطن خود می دانستند و به آن علاقه داشتند. پس از پایان این مأموریت، با چشمانی اشکبار عازم سوئیس شد.

اشتوکلین در سال ۲۰۰۶ میلادی خاطرات زندگی هشتاد و چند ساله اش را در یک نوشتار ۱۷۰ صفحه ای به نام «ایران، خاطرات یک زمین شناس» تدوین و تنظیم کرد و آن را به چهار فرزندش که در ایران متولد شده اند، هدیه کرده است. این کتاب با نام «سرزمین پارس، خاطرات و نوشته های یک زمین شناس - یووان اشتوکلین» به فارسی ترجمه و توسط سازمان زمین شناسی و اکتشافات معدنی کشور منتشر شده است. یووان اشتوکلین در ۱۵ آوریل ۲۰۰۸ میلادی (۲۷ فروردین ۱۳۸۷ ه. ش) در خانه اش در شهر کوچکی در سوئیس، چشم از جهان فرو بست.

اشتوکلین در بخشی از کتاب خاطرات خود می نویسد:

«... همسر من الیزابت نیز به ایران علاقه زیادی پیدا کرده بود، سه دخترم تبینا، فرانسیسکا و آنژلا و آخرین فرزندم که پسری به نام ژرژر است، همگی در ایران متولد شده اند. ایام کودکی و نوجوانی آنها در منزل هایی که اجاره کرده بودم در داودیه، دزاشیب و نیاوران سپری شده، آنها همیشه از خاطراتشان می گویند. از مدرسه ای در قلهک که در آنجا درس خوانده اند، خانواده ها و بچه های هم کلاسی ایرانی که با آنها دوست شده اند. ما همگی با همه گوشه های ایران طی بیست و هفت سال اقامت در این کشور آشنا شدیم. ... علی، راننده سابق و باوفای من در سازمان زمین شناسی که چند سال بعد با تأثر شنیدم تنها فرزند پسرش در جنگ با عراق شهید شده، مرا به فرودگاه مهرآباد برد. به هنگام خداحافظی و ربوبوسی با من گونه هایش از اشک خیس شده بود. این بار و برای همیشه به جای آنکه از غرب به شرق بیایم، از مشرق به مغرب پرواز می کردم. در ذهنم زندگی نامه نزدیک به سی سال اقامتم در ایران را مرور می کردم.

آن روزها از سرزمین پارسیان و قوم مهربان و متمدن و باوفای ایرانی هیچ چیز نمی دانستم ولی امروز همه گوشه های این سرزمین را می شناسم. متعجب و حیرت زده هستم. دلم نمی خواهد غم زده و دلنگ از ایران بروم. وقتی هواپیمای سوئیس ایر صبحگاه از مرز ایران می گذشت و من از پنجره، طلوع آفتاب این روز زمستانی را می نگریم، بی اختیار این جملات بر زبانم جاری شد: ایران باور کن دلم نمی خواهد از تو خداحافظی کنم. آدیوایران، خداحافظ ایران»



شکل ۲-۷. نقشه پهنه‌بندی زمین‌شناسی در ایران

منابع معدنی ایران

جمع‌آوری اطلاعات

- در مورد سنگ‌های آذرین در رشته کوه البرز، اطلاعات جمع‌آوری کنید و به کلاس گزارش دهید.

در فصل ۲ خواندید که منابع معدنی می‌تواند زیربنای اقتصاد و توسعه کشورها باشد. اگر کشوری، مواد معدنی مورد نیاز خود را نداشته باشد، چه اتفاقی می‌افتد؟ آنها را چگونه تأمین می‌کند؟ آیا می‌دانید ایران از نظر ذخایر معدنی چه جایگاهی در جهان دارد؟ آیا ما تمام مواد معدنی مورد نیاز را در کشور داریم؟ ایران، دارای ذخایر معدنی مهم و قابل توجهی است که آن را از بسیاری از کشورهای جهان متمایز می‌کند. فعالیت‌های معدنی در ایران به طور گسترده در بیشتر نقاط کشور انجام می‌شود و نقش مهمی در اقتصاد کشور دارد. معدن کاری در ایران، قدمت زیادی داشته به طوری که در هر گوشه ایران، آثار معدن کاری قدیمی دیده می‌شود.

جمع‌آوری اطلاعات

- در مورد معادن ششادی استان خود اطلاعاتی جمع‌آوری و در کلاس ارائه کنید.

پیشینیان ما، تجربه بسیار زیادی در اکتشاف و بهره‌برداری از معادن و به خصوص ذخایر فلزی مانند مس، آهن، طلا، سرب و روی داشته‌اند، استفاده از فلزات از حدود ۸۵۰۰ سال پیش آغاز گردید. نتایج مطالعات پژوهشگران نشان می‌دهد استخراج و استفاده از فلزات برای اولین بار در فلات ایران و فلات آناتولی ترکیه صورت گرفت.

بیشتر بدانید

بیشتر بدانید

● ایران با حدود ۲۳٪ از مساحت کل کره زمین، حدود ۷ درصد ذخایر معدنی جهان را داراست. بیش از ۵۰ ماده معدنی در کشور تولید می‌شود. ایران در برخی مواد معدنی، در جهان رتبه‌های بالایی دارد. مقدار کل ذخایر شناسایی شده قطعی ایران، حدود ۳۷ میلیارد تن برآورد شده است که بخشی از آن در حال استخراج است. در حال حاضر حدود ۵۰۰۰ معدن بزرگ و کوچک فلزی و غیرفلزی در کشور فعال هستند.

برخی معادن بزرگ ایران و موقعیت آنها

شهرستان	استان	نام معدن	عنصر / ماده معدنی
سیرجان	کرمان	گل گهر	آهن
بافق	یزد	چُغارت، چادرملو، سه چاهون	
خواف	خراسان رضوی	سنگان	
رفسنجان	کرمان	سرچشمه	مس
شهرابک	کرمان	میدوک	
ورزقان	آذربایجان شرقی	سونگون	
کاشمر	خراسان رضوی	تکنار	
تفت	یزد	علی آباد و دره زرشک	
بیرجند	خراسان جنوبی	قلعه زری	
ماه‌نشان	زنجان	انگوران	
مهریز	یزد	مهدی آباد	
فیروزآباد	فارس	سورمه	
اصفهان	اصفهان	ایرانکوه	
شازند	مرکزی	عمارت	
ملایر	همدان	آهنگران	
جیرفت	کرمان	اسفندقه	کروم
سبزوار	خراسان رضوی	سبزوار	
نیریز	فارس	خواجه جمالی	
قم	قم	ونارچ	منگنز
رباط کریم	تهران	رباط کریم	
گلپایگان	اصفهان	موته	طلا
تکاب	آذربایجان غربی	زرشوران	
قروه	کردستان	ساری گونای	
سردشت	آذربایجان غربی	باریکا	
نیشابور	خراسان رضوی	نیشابور	فیروزه
دامغان	سمنان	باغو	آمتیست
شاهرود	سمنان	طرود	
جیرفت	کرمان	اسفندقه	گارنت



نمایی از معدن روباز مس سرچشمه (کرمان) با ذخیره‌ای بیش از ۱ میلیارد و ۲۰۰ میلیون تن

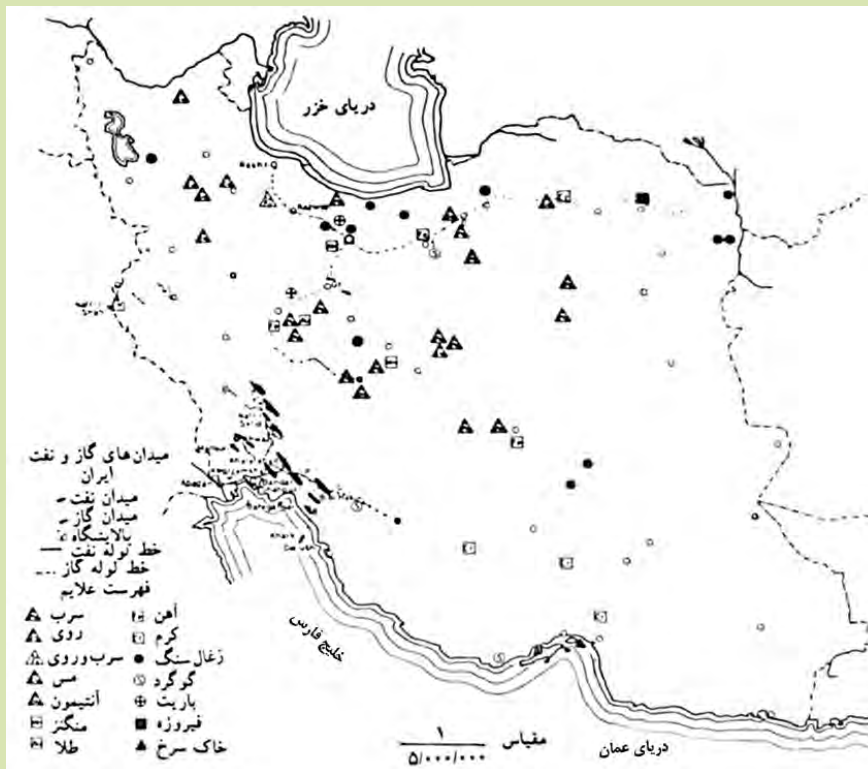
• ایران یکی از ۱۵ کشور بزرگ معدنی جهان است و رتبه دوم جهان را از نظر ذخایر فلدسپار دارد و برای باریت و ژئیس در رتبه پنجم و از نظر سنگ آهن، در رتبه دهم جهان جای دارد. علاوه بر ذخایر فلزهای اساسی مانند آهن، روی، سرب و مس، ایران دارای ذخایر قابل توجهی نیز از آلومینیم، منگنز، مولیبدن، طلا، کروم و نیز مواد معدنی غیرفلزی مورد استفاده در صنعت مانند باریت، سنگ‌های ساختمانی، کائولن و بتونیت است.



معدن مس - مولیبدن سونگون (ورزقان)



نمایی از معدن طلای زرشوران (تکاب)



نقشه پراکنندگی ذخایر فلزی در ایران

ذخایر نفت و گاز ایران

حفاری اولین چاه نفت خاورمیانه از سال ۱۲۸۶ هـ.ش در شهر مسجد سلیمان در استان خوزستان در منطقه‌ای به نام میدان نفتون آغاز شد و در ۵ خرداد ۱۲۸۷ هـ.ش به نفت رسید (شکل ۳-۷ الف). این چاه ۳۶۰ متر عمق داشت که از آن، روزانه ۳۶۰۰۰ لیتر نفت استخراج می‌شد. این چاه به «چاه شماره یک» معروف است و هم اکنون در شهر مسجد سلیمان به صورت موزه، تحت نظارت شرکت ملی مناطق نفت خیز جنوب قرار دارد (شکل ۳-۷ ب).



ب) مسجد سلیمان



الف) اولین چاه حفر شده در ایران

ذخایر نفت ایران به طور عمده در لایه‌های سنگ آهک قرار دارند. برخی از میدان‌های مهم نفت ایران در جدول

صفحه بعد ارائه شده است. (نقشه ۳-۷ پ)



پ) میدان‌های مهم نفتی ایران

ایران با دارا بودن حدود ۱۰ درصد از نفت جهان، در رده چهارم و از نظر ذخایر گاز، در رده دوم جهان قرار دارد. ذخایر نفت و گاز ایران به طور عمده در جنوب و غرب (منطقه زاگرس و خلیج فارس) و در شمال (دریای خزر) قرار دارند. ذخایر گاز خانگیران سرخس در شمال شرق نیز، از ذخایر مهم هیدروکربن در ایران است.

بزرگ‌ترین میدان نفتی ایران، میدان اهواز است که در رده سومین میدان‌های نفتی عظیم جهان قرار دارد.

شکل ۳-۷- اولین چاه حفر شده در ایران - مسجد سلیمان

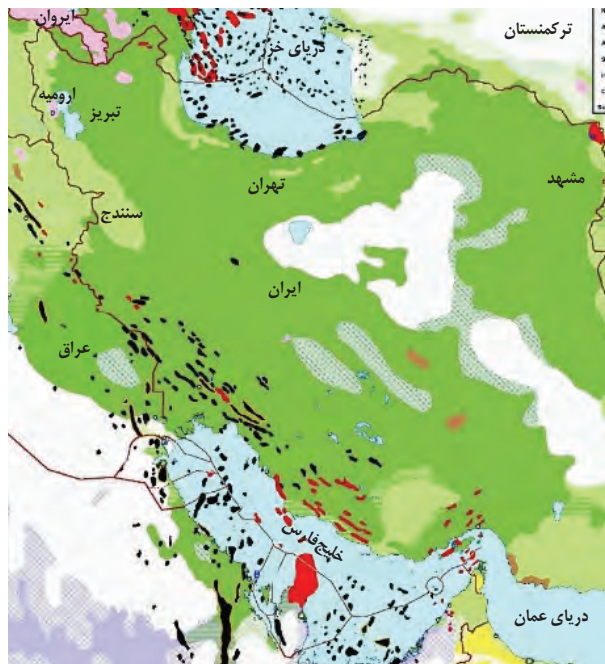
• دو دلیل ذکر کنید که چرا عمده ذخایر نفت ایران در منطقه زاگرس است؟

فکر کنید

برخی از مشخصات میدان‌های مهم نفتی ایران

رتبه	نام میدان	ذخیره درجا (میلیارد بشکه)	ذخیره قابل برداشت (میلیارد بشکه)	تولید روزانه (هزار بشکه)
۱	میدان نفتی اهواز	۶۵/۵	۳۷	۷۵۰/۰۰۰
۲	میدان نفتی گچساران	۵۲/۹	۲۳/۷	۴۸۰/۰۰۰
۳	میدان نفتی مارون	۴۶/۷	۲۱/۹	۵۲۰/۰۰۰
۴	میدان نفتی آزادگان	۳۳/۲	۵/۲	۴۰/۰۰۰
۵	میدان نفتی آغاچاری	۳۰/۲	۱۷/۴	۳۰۰/۰۰۰
۶	میدان نفتی رگ سفید	۱۶/۵	۳/۴۴	۱۸۰/۰۰۰
۷	میدان نفتی آب تیمور	۱۵/۲	۲/۶	۶۰/۰۰۰
۸	میدان نفتی سروش	۱۴/۲	۱۰	۴۶/۰۰۰
۹	میدان نفتی کرنج	۱۱/۲	۵/۷	۲۳۷/۰۰۰
۱۰	میدان نفتی بی‌بی حکیمه	۷/۵۹	۵/۶۷	۱۲۰/۰۰۰

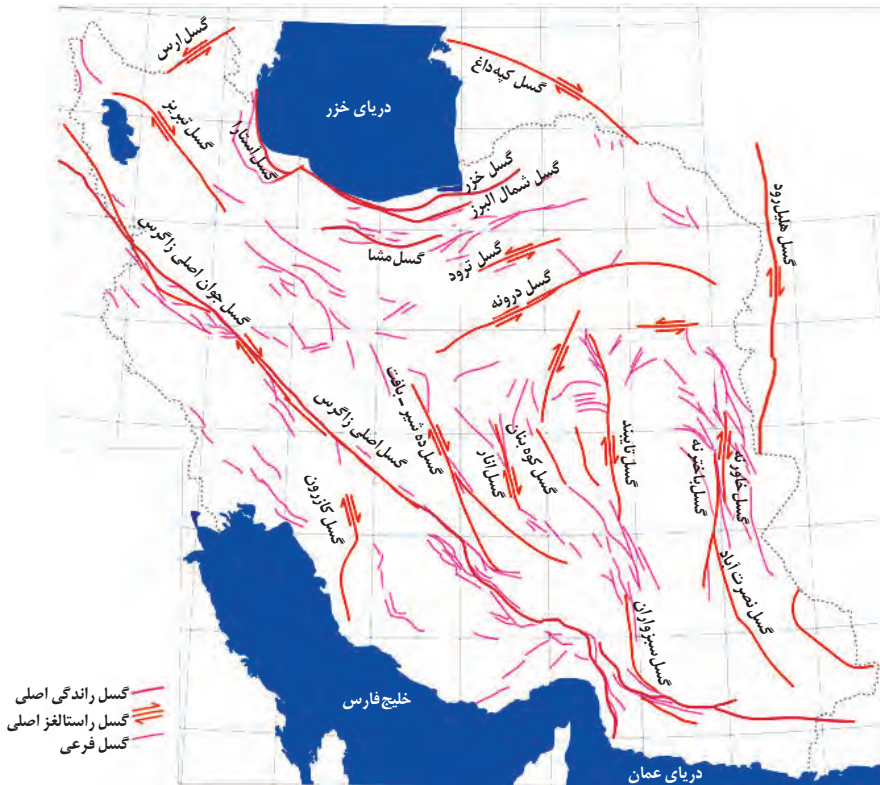
میدان‌های گاز پارس جنوبی در خلیج فارس و خانگیران در منطقه سرخس، از مهم‌ترین میدان‌های گازی ایران هستند.



شکل ۴-۷. نقشه پراکندگی ذخایر نفت و گاز ایران (نقاط سیاه رنگ، محل ذخایر)

گسل‌های اصلی ایران

پوسته ایران زمین، دارای گسل‌های متعددی است و کمتر جایی از کشور را می‌توان یافت که در آنجا گسلی وجود نداشته باشد. وجود این گسل‌ها، فعالیت پوسته ایران زمین را نشان می‌دهد. تعدادی از گسل‌های ایران، قدیمی و غیرفعال و برخی از گسل‌ها، جوان و لرزه‌خیز هستند که امروزه زمین لرزه‌ها، در امتداد آنها رخ می‌دهد.



جمع‌آوری اطلاعات

- در نزدیکی محل سکونت شما کدام گسل/گسل‌ها وجود دارد؟ آیا در سال‌های اخیر این گسل/گسل‌ها باعث زمین لرزه شده است؟

شکل ۵-۷- نقشه گسل‌های اصلی ایران



شکل ۶-۷- نقشه پراکندگی قله‌های آتشفشانی در ایران

آتشفشان‌های ایران

مهم‌ترین کوه‌های آتشفشانی ایران، دماوند، تفتان، بزمان، سهند و سبلان هستند. دماوند، بلندترین قله آتشفشانی ایران، در گذشته فعال بوده و آثار فعالیت‌های آن هنوز به صورت خروج گازهای گوگردی در دامنه‌های نزدیک دهانه آتشفشان دیده می‌شود.

بیشتر فعالیت‌های آتشفشانی جوان، در دوره کواترنری در ایران، آتشفشان‌هایی هستند که در امتداد نوار ارومیه - دختر قرار دارند.

بیشتر بدانید

● **دماوند:** آتشفشان مخروطی شکل دماوند با ارتفاع ۵۶۷۱ متر، در بخش میانی رشته کوه البرز، بارزترین فعالیت آتشفشانی دوره کواترنری در ایران است. دامنه کوه دماوند پوشیده از جریان گدازه‌هایی به وسعت ۴۰۰ کیلومتر مربع است. جدیدترین گدازه‌ها در دامنه غربی مخروط قرار گرفته‌اند و روی همین دامنه است که به طور محلی مخروط‌هایی از خاکستر وجود دارد. در ارتفاع ۱۰۰ متر پایین تر از قله، در ضلع جنوبی دماوند، خروج گازها نمایان می‌شوند. دهانه این آتشفشان با ۳۰۰ متر قطر، با دریاچه‌ای از یخ پوشیده شده است. فعالیت‌های عظیمی که کوه دماوند را به وجود آورده در حدود ده هزار سال قبل و آخرین فوران آن، مربوط به ۷۳۰۰ سال پیش می‌باشد.

● **تفتان:** ارتفاع این قله ۴۰۳۶ متر از سطح تراز دریا است و از دو دهانه آتشفشانی آن، بخارهای گوگرد خارج می‌شود. در ورودی حفره‌های آتشفشانی، بلورهای گوگردی خالص به وفور دیده می‌شوند. نزدیک‌ترین شهر به تفتان، خاش است. تپت در زبان بلوچی به معنای گرما و تفتان، برگرفته شده از تپتان است.

زمین گردشگری



شکل ۷-۷- روستای کندوان

سیاره زمین، دارای مناظر و چشم‌اندازهای متنوعی است. این تنوع و گوناگونی، به دلیل اتفاقات و رویدادهای زمین‌شناختی است که در طول تاریخ شکل‌گیری و تکوین این سیاره رخ داده است. کشور ایران از نظر میراث زمین‌شناختی و گوناگونی پدیده‌های زمین‌شناختی، یکی از غنی‌ترین کشورهای جهان است. به همین دلیل زمین‌گردشگری می‌تواند در کشورمان، جایگاه اقتصادی ویژه‌ای داشته باشد.

گروهی از پدیده‌های زمین‌شناختی مانند غارها، گل‌فشان‌ها، آبشارها و... که ارزش بالایی از نظر علمی و آموزشی یا زیبایی ویژه داشته و یا بسیار کمیاب هستند، به عنوان میراث زمین‌شناختی معرفی می‌شوند.

تحقیق کنید

- ۱- زمین‌گردشگری چگونه در رونق اقتصادی کشور تأثیر می‌گذارد و شما در زمینه حفاظت از آن چه نقشی می‌توانید داشته باشید؟
- ۲- یکی از جاذبه‌های زمین‌گردشگری در اطراف محل سکونت خود را به کلاس معرفی کنید.

ژئوپارک

برای حفاظت از جاذبه‌های میراث زمین‌شناختی در یک محدوده و بهره‌برداری درست از آنها ژئوپارک ایجاد می‌شود. ژئوپارک، یک محدوده مشخص است که در آن، میراث زمین‌شناختی با جاذبه‌های طبیعی و فرهنگی ویژه واقع شده است. در هر ژئوپارک، مردم آن منطقه با آموزش‌هایی که می‌بینند در حفاظت از جاذبه‌های زمین‌شناختی، طبیعی و فرهنگی همکاری و از این جاذبه‌ها، برای

گردشگری بهره‌برداری و کسب درآمد می‌کنند. ژئوپارک باعث می‌شود که جامعه محلی، رشد و رونق اقتصادی و فرهنگی داشته باشد و این میراث‌ها حفظ شود.

اکنون در کشور ما ژئوپارک جزیره قشم به ثبت جهانی رسیده است. با برنامه‌ریزی‌های انجام شده و براساس مطالعات علمی و گردشگری، در سال‌های آینده، تعداد ژئوپارک‌های کشورمان افزایش خواهد یافت.



شکل ۹-۷. چشمه باداب سورت ساری



شکل ۸-۷. دره ستارگان ژئوپارک قشم



شکل ۱۱-۷. غار علیصدر همدان



شکل ۱۰-۷. کوه‌های مریخی چاهپار



شکل ۱۲-۷. هوازدگی در روستای وردیج تهران

● ژئوتوریسم: اخیراً رشته جدیدی در گردشگری طبیعت به وجود آمده که توجه اصلی آن به میراث زمین‌شناختی است. این رشته را زمین‌گردشگری یا ژئوتوریسم نام‌گذاری کرده‌اند. هدف اصلی در زمین‌گردشگری، تماشا و شناخت پدیده‌های زمین‌شناختی است. البته هدف‌های بیشتری در زمین‌گردشگری دنبال می‌شوند.

برخلاف اکوتوریسم (طبیعت‌گردی) که جاذبه‌های طبیعت جاندار را در مرکز توجه قرار داده است، این صنعت به طور کلی با جاذبه‌های طبیعت بی‌جان سروکار دارد. مخاطبان زمین‌گردشگری نه تنها متخصصان و کارشناسان زمین‌شناسی و ژئومورفولوژی (زمین‌ریخت‌شناسی)، بلکه گردشگران عادی و علاقه‌مندان طبیعت هستند. در جریان فعالیت‌های زمین‌گردشگری، بازدیدکنندگان ضمن بازدید از پدیده‌های زیبا و ویژه زمین‌شناسی و ژئومورفولوژی، با مبانی پیدایش آنها آشنا می‌شوند و اهمیت وجودی آنها را در می‌یابند.

متخصصان این رشته تحصیلی در مراکزی مانند: سازمان زمین‌شناسی و اکتشافات معدنی کشور و سازمان میراث فرهنگی و گردشگری می‌توانند در شناخت و معرفی ژئوپارک‌های جدید، کمک شایانی داشته باشند.



بازالت‌های منشوری - سرپیشه بیرجند

Dip	شیب	Subsurface Reserves	ذخایر زیر سطحی	Extinction	انقراض
Strike	امتداد	Alloy Metal	عیار فلز	Dinosaur	دایناسور
Available Storage Capacity	ظرفیت مفید مخزن	Ore Preparation	کانه آرایی	Ice Age	عصر یخبندان
Cavern	مغار	Concentrate	کنسانتره	Eon	ائون
Trench	ترانشه	Chalcopyrite	کالکوپیریت	Era	دوران
Location	مکان یابی	Open - Pit mining	استخراج روباز	Period	دوره
Gabion	گابیون	Underground Mining	استخراج زیرزمینی	Epoch	دور یا عهد
Nailing	میخ کوبی	Gem	گوهر	Trilobite	تریلوبیت
Retaining Wall	دیوار حائل	Opal	اپال	Placoderms	ماهی زره دار
Layer Lining	لایه آستر	Chrysoberyl	کریزوبریل	Lithosphere Plate	ورقه سنگ کره
Layer Procedure	لایه رویه	Opalescence	درخشش اپالی	Asthenosphere	سست (خمیر) کره
Ballast	بالاست	Ruby	یاقوت	Petrochemistry	پتروشیمی
Cortex	بخش اساس	Emerald	زمرد	Quartz	کوارتز
Oripiment	اورپیمان	Source Rock	سنگ مادر	Garnet	گارتنت
Realgar	رالگار	Primery Migration	مهاجرت اولیه	Borax	بوراکس
Medical Geology	زمین شناسی پزشکی	Oil Trap	نفت گیر	Halite	هالیت
Lake of Element	کمبرود عنصر	Reservoir Rock	سنگ مخزن	Sylvite	سیلویت
Element Toxicity	سمیت عنصر	Cap Rock	پوش سنگ	Apatite	آپاتیت
Keratosis Pilaris	شاخی شدن پوست	Petrology	پترولوژی	Limestone	سنگ آهک
Amalgamation	ملقمه کردن	Interception	برگاب	Gypse	ژیپس
Itai - Itai Disease	بیماری ایتای ایتای	Capillary Fringe	حاشیه مویینه	Feldspar	فلدسپار
Goitre	گواتر	Topographic Map	نقشه توپوگرافی	Pozzolan	پوزولان
Anthropogenic Grade	غبارهای زمین زاد	Aquifer	آبخوان	Perlit	پرلیت
Silicosis	بیماری سیلیکوسیس	Piezometric Level	سطح پیزومتریک	Corondum	کرنوم
Environmental Geology	زمین شناسی زیست محیطی	Karst Lime	آهک کارستی	Amethyst	آمنیست
Hydrotherapy	آب درمانی	Evaporites Stone	سنگ های تبخیری	Beryl	بریل
Fault	گسل	Water Hardness	سختی آب	Agate	آگات (عقیق)
Folding	چین خوردگی	Fossil Water	آب فسیل	Olivine	الیوین
Fault Surface	سطح گسل	Water Balance	بیان آب	Spinel	اسپینل
Fault Dip	شیب گسل	Loam	خاک لوم	Lapis Lazuli	لاچورد
Fault Strike	امتداد گسل	Soil Profile	نیم رخ خاک	Jade	یشم
Hanging Wall	فرا دیواره	Hydrogeology	هیدروژئولوژی	Turquoise	فیروزه
Footwall	فرود دیواره	Morphology	مورفولوژی	Baryte	باریت
Goint	دوزه	Stress	تنش	Fluorite	فلوئوریت
Oblique Fault	گسل مایل	Tension Stress	تنش کششی	Bentonite	بنتونیت
Normal Fault	گسل عادی	Compressive Stress	تنش فشاری	Kaoline	کائولن
Reverse Fault	گسل معکوس	Shear Stress	تنش برشی	Zeolite	زنولیت
Strike - Slip Fault	گسل امتداد لغز	Coring	مغزه گیری	Diamond	الماس
Earthquake Epicenter	کانون زمین لرزه	Exploratory Bores	گمانه های اکتشافی	Clark Concentration	غلظت کلارک
Earthquake Hypocenter	مرکز سطحی زمین لرزه	Elastic Behavior	رفتار کش سان	Anomaly	بی هنجاری
Internal Waves	امواج درونی	Plastic Behavior	رفتار خمیرسان	Mineral	کانی
Primary Waves	امواج اولیه	Gabbro	گابرو	Plagioclase	پلاژیوکلاز
Secondary Waves	امواج ثانویه	Quartzite	کوارتزیت	Orthoclase	فلدسپار پتاسیم
Surface Waves	امواج سطحی	Hornfels	هورنفلس	Ore Mineral	کانه
Beforeshocks	پیش لرزه	Schist	شیست	Ore	کانسنگ
Aftershocks	پس لرزه	Calcite	کلسیت	Mineral Deposit (Ore Deposit)	کانسار
Magnitude	بزرگا	Dolomite	دولومیت	Mica	میکا
Richter	ریشتر	Borrow Materials	مصالح قرضه	Pyrite	پیریت
Intensity	شدت	Soil Dam	سد خاکی	Placer	پلاسر
Monocline	تک شیب	Concrete Dam	سد بتنی	Mineral Steak	رگه معدنی
Anticline	تاقدیس	Dam Reservoir	مخزن سد	Electronic Conductivity of Rocks	رسانایی الکتریکی سنگ ها
Syncline	ناودیس	Dam Body	بدنه سد	Anomalies of the Earth's	تغییرات میدان گرانش زمین
Tephra	تفرا	Pill Dam	پی سد	Gravitational Field	

Devonian	دوتین	Gondwana	گندوانا	Lava	گدازه
Carboniferous	کربنیفر	Eurasia	اوراسیا	Fumarol	فومرول
Permian	پرمن	Tethys Ocean	اقیانوس تنیس	Pyroclastic	سنگ آذرآواری
Triassic	تریاس	Subduction	فرورانش	Tuff	توف
Jurassic	ژوراسیک	Geotourism	زمین گردشگری	Lapilli	لاپیلی
Cretaceous	کرتاسه	Geopark	ژئوپارک	Block	قطعه سنگ
Paleozoic	پالئوزویک	Hadean	هادئن	Bomb	بمب
Mesozoic	مزوزویک	Archean	آرکنن	Fumarole Stage	مرحله فومرولی
Cenozoic	سنوزویک	Proterozoic	پروتروزوئیک	Geothermal Energy	انرژی زمین گرمایی
Paleogene	پالئوژن	Precambrian	پرکامبرین	Geophysics	ژئوفیزیک
Neogene	نئوژن	Cambrian	کامبرین	Tectonic Structural Geology	تکتونیک و زمین شناسی ساختمانی
Quaternary	کواترنری	Ordovician	اردووئیسین	Prismatic Basalt	بازالت منشوری
		Silurian	سیلورین	Mud Volcanoes	گل فشان

منابع

منابع فارسی

- آقاباتی، ع ۱۳۸۴ زمین شناسی ایران. انتشارات سازمان زمین شناسی و اکتشافات معدنی ایران.
- اخروی، ر، ۱۳۸۲، زمین شناسی فیزیکی، انتشارات مدرسه.
- صداقت، محمود، ۱۳۸۲، «زمین و منابع آب»، انتشارات دانشگاه پیام نور.
- عباس نژاد، احمد، ۱۳۸۴، «خاک شناسی برای زمین شناسان»، انتشارات دانشگاه شهید باهنر کرمان.
- علیزاده، امین، ۱۳۸۳، «اصول هیدرولوژی کاربردی»، انتشارات آستان قدس رضوی.
- قبادی، محمدحسین، ۱۳۸۵، «مبانی زمین شناسی مهندسی»، انتشارات دانشگاه بوعلی سینا.
- مایکل پرایس، ۱۳۷۰، «مقدمه‌ای بر آب زیرزمینی»، ترجمه ولایتی و رضایی، انتشارات خراسان.
- مدبری، س. ۱۳۸۴، زمین شناسی نفت، مرکز نشر دانشگاهی.
- معماریان، حسین، ۱۳۸۴، «زمین شناسی مهندسی و ژئوتکنیک»، انتشارات دانشگاه تهران.

منابع لاتین

- Klein, C., & Philpotts, A. R. (2013). Earth materials: introduction to mineralogy and petrology. Cambridge University Press.
- Kesler, S. E., & Simon, A. C. (2015). Mineral resources, economics and the environment. Cambridge University Press.
- Leonard Capper, P. and Fisher Cassie, W., 1976, "The Mechanics of Engineering Soils", Spon LTD.
- Selinus, O., & Alloway, B. J. (2013). Essentials of medical geology. Springer.
- Stampfli, G. M., Hochard, C., Vérard, C., & Wilhem, C. (2013). The formation of Pangea. Tectonophysics, 593, 1-19
- Tarbuck, E. J., Lutgens, F. K. & Tasa D. (2014). Earth: an introduction to physical geology. Pearson Pub.
- Todd, D. K. and Mays, L. W., 2005, "Groundwater Hydrology", John Wiley.

■ وب گاه های علمی در فضای اینترنت



سازمان پژوهش و برنامه‌ریزی آموزشی جهت ایفای نقش خطیر خود در اجرای سند تحول بنیادین در آموزش و پرورش و برنامه درسی ملی جمهوری اسلامی ایران، مشارکت معلمان را به‌عنوان یک سیاست اجرایی مهم دنبال می‌کند. برای تحقق این امر در اقدامی نوآورانه سامانه تعاملی بر خط اعتبارسنجی کتاب‌های درسی راه‌اندازی شد تا با دریافت نظرات معلمان درباره کتاب‌های درسی نونگاشت، کتاب‌های درسی را در اولین سال چاپ، با کمترین اشکال به دانش‌آموزان و معلمان ارجمند تقدیم نماید. در انجام مطلوب این فرایند، همکاران گروه تحلیل محتوای آموزشی و پرورشی استان‌ها، گروه‌های آموزشی، دبیرخانه راهبری دروس و مدیریت محترم پروژه آقای محسن باهو نقش سازنده‌ای را بر عهده داشتند. ضمن ارج نهادن به تلاش تمامی این همکاران، اسامی دبیران و هنرآموزانی که تلاش مضاعفی را در این زمینه داشته و با ارائه نظرات خود سازمان را در بهبود محتوای این کتاب یاری کرده‌اند به شرح زیر اعلام می‌شود.

اسامی دبیران و هنرآموزان شرکت کننده در اعتبارسنجی کتاب زمین شناسی با کد ۱۱۱۲۳۷

ردیف	نام و نام خانوادگی	استان محل خدمت	ردیف	نام و نام خانوادگی	استان محل خدمت
۱	افسر علاییان	یزد	۲۳	افسانه عزیزیان	ایلام
۲	معصومه حیدریان	همدان	۲۴	سید علیرضا فلاح	شهرستان‌های تهران
۳	محمد حسین سیف	همدان	۲۵	خدیجه امانی هفشجانی	البرز
۴	سیده فاطمه مرتضوی	چهارمحال و بختیاری	۲۶	سالار شایگان	گیلان
۵	سید زهرا افشونی	شهرستان‌های تهران	۲۷	شهربانو احمدی	مازندران
۶	طاهره نادری	کرمان	۲۸	ملیحه حمیدی پور	سمنان
۷	رسول سوزنی	خراسان شمالی	۲۹	علی اصغر ربانی فرد	گلستان
۸	مریم مومنی	مرکزی	۳۰	نجمیه غلامی	هرمزگان
۹	غلامرضا زاهدی پور	خراسان جنوبی	۳۱	محمد حسین صمدی	کردستان
۱۰	فضل الله ایمانیان	اصفهان	۳۲	سمیه محمدی	آذربایجان غربی
۱۱	معصومه مجملی رنانی	اصفهان	۳۳	رقیه موید	آذربایجان شرقی
۱۲	ملکه سادات سجادی	قزوین	۳۴	شبنم لقائیان	آذربایجان شرقی
۱۳	اعظم داستان	اردبیل	۳۵	علی اکبر احمدی	خراسان رضوی
۱۴	زهرا پسران	فارس	۳۶	روح الله زبیرم	ایلام
۱۵	محمدهادی رثوفی زاده	هرمزگان	۳۷	مریم اکاتی	سیستان و بلوچستان
۱۶	علی یاری	شهر تهران	۳۸	حسینعلی چهارنایی	گلستان
۱۷	فاروق ایزدی	کرمانشاه	۳۹	کامران اسماعیلی	چهارمحال و بختیاری
۱۸	عظیمه رهبر کوهی	گیلان	۴۰	وجیه حبیبی	کرمانشاه
۱۹	مریم رفیعی	فارس	۴۱	عبدالرحمان چمن آرا	کهگیلویه و بویراحمد
۲۰	فاطمه نقدی	شهر تهران	۴۲	مریم ستوده	کهگیلویه و بویراحمد
۲۱	منصوره ایرانمنش	کرمان	۴۳	ناهید یزدانفر	تهران
۲۲	محمد عقابی	خراسان جنوبی	۴۴	شهلا مغزی نجف‌آبادی	خراسان جنوبی