



مشاوره تحصیلی هیوا

تخصصی ترین سایت مشاوره کشور

مشاوره تخصصی ثبت نام مدارس ، برنامه ریزی درسی و آمادگی
برای امتحانات مدارس

برای ورود به صفحه مشاوره مدارس کلیک کنید

برای ورود به صفحه نمونه سوالات امتحانی کلیک کنید

تماس با مشاور تحصیلی مدارس

۹۰۹۹۰۷۱۷۸۹






تماس از تلفن ثابت

آموزش و پرورش شهرستان		دبیرستان		رشته: ادبیات و علوم انسانی	حروف:
سوالات ارزشیابی نوبت: اول دی ۹۹		درس: منطق پایه دهم	نام و نام خانوادگی:	عدد:	
ردیف	سوالات				
۱	<p>صحیح و یا غلط بودن عبارات زیر را مشخص کنید. ۱/۵</p> <p>الف) یکی از بخش های علم منطق تعریف است که در آن روش صحیح تعریف کردن بیان می شود.</p> <p>ب) خطای در الفاظ و معانی آنها می تواند باعث خطا در تعریف و استدلال شود.</p> <p>ج) در دسته بندی مفاهیم اقسام مختلف یک مفهوم نسبت به یکدیگر باید رابطه عموم و خصوص مطلق داشته باشند.</p> <p>د) همیشه ارائه مجموعه ای از چند نوع مختلف از تعریف به معرفی بهتر آن مفهوم کمک می کند.</p> <p>ه) دانشمندان تلاش می کنند با استفاده از استدلال های استقرایی قوی مبنایی برای علوم تجربی فراهم آورند.</p> <p>و) جملات انشایی از عالم خارج خبر می دهند و بیانگر تمایلات ، احساسات و خواسته های انسان می باشند.</p>				
۲	<p>جاهای خالی را با عبارات مناسب پر کنید. ۲</p> <p>الف) تشبیه منطق به سیستم کنترلی خودرو ، اشاره به بودن منطق دارد.</p> <p>ب) آن نوع از دلالت لفظ بر معنا که بخشی از معنای اصلی است را دلالت تضمینی می گویند.</p> <p>پ) در نسبت های چهارگانه وقتی دو دایره همدیگر را قطع می کنند و زمانی که دو دایره اصلا مصداق مشترکی ندارند به ترتیب بیانگر رابطه ی و است.</p> <p>ت) تعریف باید تمامی آن مفهوم را در بر گیرد و به اصطلاح جامع باشد.</p> <p>ث) استقرای تمثیلی استدلالی است و نتایج آن احتمالی است.</p> <p>ج) به جملات با معنایی که خبر قطعی دارند و دارای حکم هستند می گویند.</p>				
۳	<p>موارد سمت راست را با موارد سمت چپ انطباق دهید. ۰/۷۵</p> <p>الف) تعریف <input type="radio"/> (۱) به ارتباط آن با سایر مفاهیم کاری نداریم <input type="radio"/></p> <p>ب) استدلال <input type="radio"/> (۲) با کمک آن تصدیق های مجهول شناخته می شود. <input type="radio"/></p> <p>ج) تصور <input type="radio"/> (۳) پاسخ در برابر «چیست» <input type="radio"/></p>				
۴	<p>هر یک از موارد زیر جزء کدام یک از اقسام علم و دانش بشری است. ۱</p> <p>الف) سیمرغ پرنده ای افسانه ای است. « »</p> <p>ب) پیرمردی که عصا به دست بود. « »</p>				
۵	<p>نوع مغالطات زیر را تعیین کنید. ۰/۷۵</p> <p>الف) مدیر مدرسه دبیرمان را تمجید کرد، او فرد محترمی است. (مغالطه ی)</p> <p>ب) پادشاه خطاب به وزیر: هرگز خون تو را بر زمین نمی ریزم . تصمیم دارم خفه ات کنم. (مغالطه ی)</p> <p>ج) دبیر زیست : چرا نباید حیوانات نادر را شکار کنیم؟ دانش آموز : چون نادر ناراحت می شود. (مغالطه ی)</p>				
۶	<p>در عبارت زیر جزیی و کلی بودن کلمات مشخص شده را معین کنید. ۱</p> <p>محمد و دوستهایش ، گل زیبا و خوش بویی را به معلم هدیه دادند</p>				
۷	<p>مشخص کنید میان دو مفهوم کلی زیر چه نسبتی از نسبت های چهارگانه برقرار است؟ ۰/۷۵</p> <p>الف) مثلث-شکل (.....) ، شاعر-سعدی (.....) ، ج) جیوه-فلز مایع (.....)</p>				
۸	<p>با در نظر گرفتن نسبت های چهارگانه میان مفاهیم زیر ، آنها را طبقه بندی کنید. (با سه مفهوم) ۰/۷۵</p> <p>[آسیایی-ایرانی-انسان-عراقی-آفریقایی]</p>				
۹	<p>نوع تعریف های زیر را مشخص کنید؟ ۱</p> <p>الف) نبی: لفظی عربی است به معنای پیام آور ، از ریشه نبا (.....)</p> <p>ب) خفاش: پستانداری که پرواز می کند و در شب به شکار می رود. (.....)</p>				



(ج) خانه: (.....)

(د) مرکبات: پرتقال، لیمو و نارنگی و... را مرکبات گویند. (.....)

۱۰	اشکال تعاریف زیر را بنویسید. ۱ الف) انسان: موجودی که دانشجو است (.....) (ب) سنگین: ثقیل (.....) ج) کتاب مقدس: کتابی که مقدس است (.....) (د) ماهی: مهره داری که دارای آبشش است (.....)
۱۱	انواع استدلال های زیر را مشخص کنید. ۰/۷۵ الف) جامعه ای که آزادی ندارد مانند دیگ بخار است که روزی منفجر خواهد شد. پس جوامع دیکتاتوری به انقلاب منجر می شوند. ب) آن فرد هر وقت به مغازه من می آید اتفاق بدی می افتد ، به نظرم قدمش شوم است. ج) این دانش آموز زنگ اول دیر آمد احتمالا سرویسش تاخیر داشته است.
۱۲	اشکال استدلال های زیر چیست؟ (نوع مغالطه) ۱ الف) این مدرسه ضعیف است زیرا سه نفر از فارغ التحصیلان آن را می شناسم که ضعیف هستند. (مغالطه:) ب) حرکت برق در سیم ها مثل حرکت آب در لوله ها است. بنابراین همان طور که هر چه ساختمان بلندتر باشد فشار آب در لوله ها کم تر می شود، با افزایش طبقات ولتاژ برق هم در سیم ها کمتر می شود. (مغالطه:)
۱۳	اقسام قضایای حمله زیر را مشخص کنید. ۰/۵ الف) دانش آموزان این کلاس ۲۵ نفر هستند. (.....) ب) دانش آموزان این کلاس زرتنگ هستند. (.....)
۱۴	ساختار (اجزاء) قضیه ی زیر را مشخص کنید. ۰/۷۵ لقب خالد بن ولید (رض) سیف الدین بود.
۱۵	«اشتراک لفظ دائم رهن بود» یعنی چه؟ ۰/۵
۱۶	مغالطه ابهام در مرجع ضمیر را توضیح دهید. ۱ نمره
۱۷	مشخص کنید بین هر یک از اشکال زیر کدام نسبت برقرار است؟ ۰/۷۵ الف)  (ب)  (ج) 
۱۸	تعریف مفهومی را شرح دهید. ۰/۵
۱۹	چه زمانی استقرای تمثیلی قوی تر و چه زمانی ضعیف تر است؟ ۱
۲۰	در کدام استدلال با مشاهده ی چند مورد جزئی به حکم کلی دست می یابیم؟ ۰/۵
۲۱	قضیه شرطی را تعریف کنید. ۰/۵
۲۲	منظور از جملات خبری صادق و جملات خبری کاذب چیست؟ ۰/۵
۲۳	یکی از شرایط تعریف صحیح «مانع بودن» است آن را توضیح داده و مثال بیاورید. ۰/۷۵
۲۴	نوع قضایای محصوره زیر را مشخص کنید. ۰/۵ آهن در اثر حرارت منبسط می شود. مادرها زن هستند.
« موفق باشید »	

- 1 - الف(غ ب)ص(ج)غ(د)ه(ص)و(غ)
- 2 - الف(علوم و دانش ها ب)متضمن لفظ پ(من وجه- تباین ت)مصادیق ث(ضعیف ج)قضیه
- 3 - الف ۳ ب ۲ ج ۱
- 4 - الف(تصدیق ب)تصور
- 5 - الف(ابهام در مرجع ضمیر ب)توسل به معنای ظاهری ج)اشتراک لفظ
- 6 - جزئی کلی کلی کلی
- 7 - من وجه - عدم ارتباط - تساوی
- 8 - انسان < آسیایی > ایرانی <
- 9 - الف(لغوی ب)مفهومی ج(مصادقی د)مصادقی
- 10 - الف(مانع نیست ب)واضح نیست ج(دوری است د)مانع نیست
- 11 - الف(تمثیلی ب)تعمیمی ج(استنتاج بهترین تبیین
- 12 - الف(تعمیم شتاب زده ب)تمثیل ناروا
- 13 - الف(شخصیه ب)محصوره
- 14 - موضوع: خالد بن ولید(رض) محمول:سیف الدین نسبت: است
- 15 - یعنی یکی از شایع ترین خطاهای ذهنی است.
- 16 - استفاد از کلمات دو پهلو و یا استفاده از ضمیری که مرجعش مشخص نباشد.
- 17 - الف(مطلق ب)تساوی ج(من وجه
- 18 - تعریفی که به تحلیل مفهوم مورد نظر می پردازد.
- 19 - هر چه وجه شباهت بیشتر باشد استدلال تمثیلی قوی تر و برعکس
- 20 - تمثیل
- 21 - قضیه ای که به اتصال و یا انفصال بین دو نسبت حکم کرده باشد.
- 22 - صادق = مطابق با واقعیت کاذب = عدم مطابقت با واقعیت
- 23 - تعریفی که مانع ورود اغیار شود.
- 24 - موجه کلی - موجه یا سالبه جزئی