



# مشاوره تحصیلی هیوا

تخصصی ترین سایت مشاوره کشور

مشاوره تخصصی ثبت نام مدارس ، برنامه ریزی درسی و آمادگی  
برای امتحانات مدارس

برای ورود به صفحه مشاوره مدارس کلیک کنید

برای ورود به صفحه نمونه سوالات امتحانی کلیک کنید

تماس با مشاور تحصیلی مدارس

۹۰۹۹۰۷۱۷۸۹



تماس از تلفن ثابت

دبيرستان دخترانه دكتر حسابي (دوره دوم)

سال تحصيلي ۹۹-۱۴۰۰

رشته: انساني

پايه: دهم

امتحان درس: اقتصاد

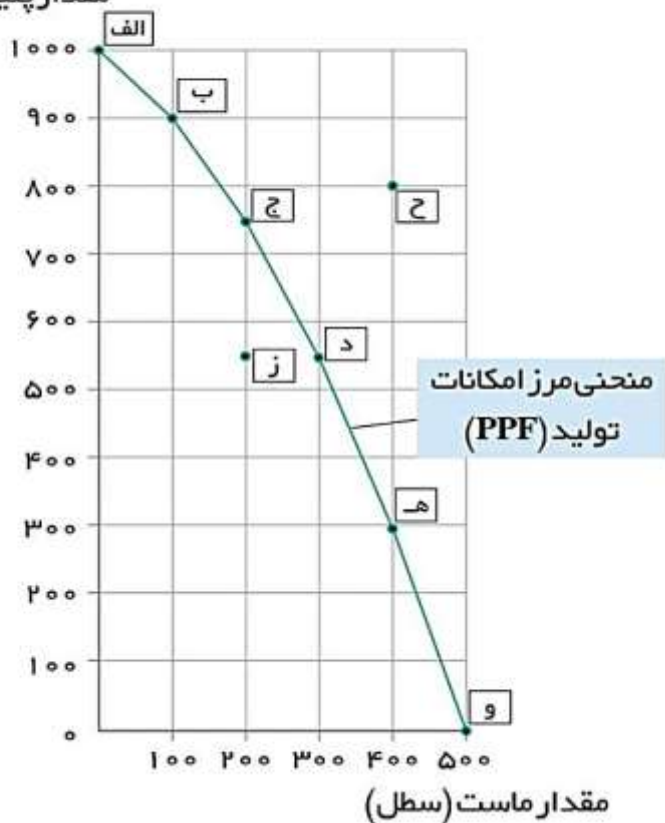
\*امتحان بصورت مجازي مي باشد و هر دانش آموز فقط تعداد محدودی از اين سوالات را به صورت شفاهي پاسخ مي دهد.

۱- کارآفرين به چه کسی اطلاق مي شود؟

۲- مزایای ایجاد شرکت را نام ببرید؟

۳- در شکل زیر هزینه فرصت حرکت از نقطه ی 'ج' به 'د' چیست؟

مقدار پنیر (بسته)



۴- اهداف دریافت مالیات چیست؟

دبيرستان دخترانه دكتور حسابي (دوره دوم)

سال تحصيلي ۱۴۰۰-۹۹

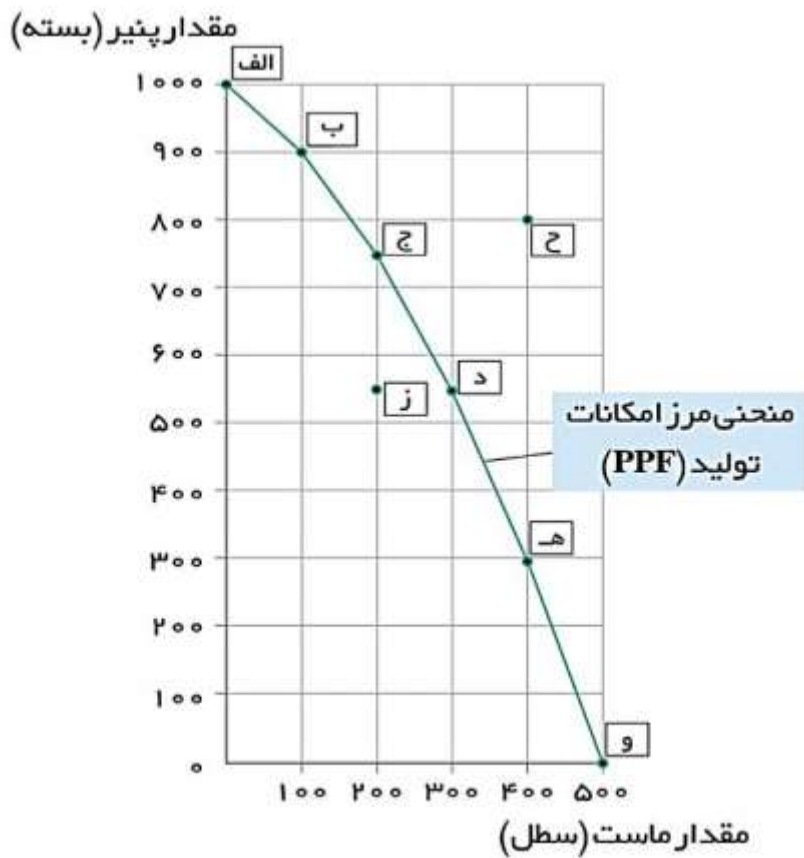
رشته: انساني

پايه: دهم

امتحان درس: اقتصاد

\*امتحان بصورت مجازي مي باشد و هر دانش آموز فقط تعداد محدودی از اين سوالات را به صورت شفاهي پاسخ مي دهد.

۵- قرارداد گات به چه دليل تشكيل شد؟



\*امتحان بصورت مجازی می باشد و هر دانش آموز فقط تعداد محدودی از این سوالات را به صورت شفاهی پاسخ می دهد.

۶- هزینه فرصت حرکت از نقطه 'د' به 'ه' چیست؟



۷- با توجه به جریان چرخشی تعاملات خانوارها، دولت، بناگاههای اقتصادی تکمیل کننده

عبارت ۱ و ۲ چیست؟

۸- با توجه به اطلاعات نتیجه عملکرد سالیانه بناگاه اقتصادی چیست؟

✓ خرید مواد اولیه ماهیانه ۱۰ میلیون تومان

✓ پول عوارض شهرداری و آب و برق و گاز و مالیات سالیانه ۲۰۰ میلیون تومان

✓ دستمزد ماهیانه هر کارگر ۱ میلیون تومان (مجموع ۱۵ کارگر)

✓ درآمد سالیانه ۱/۵ میلیارد تومان

دبیرستان دخترانه دکتر حسابی (دوره دوم)

سال تحصیلی ۹۹-۱۴۰۰

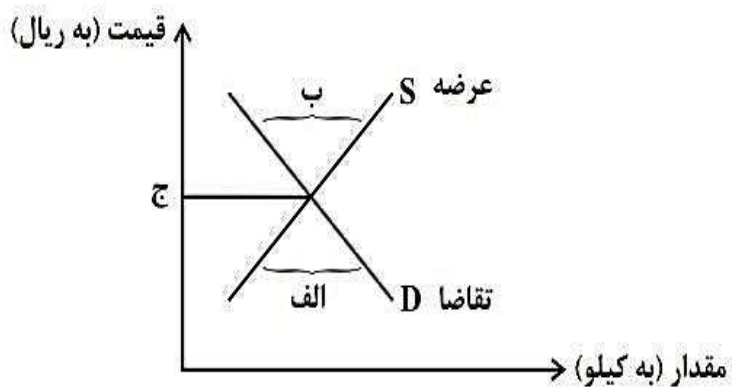
رشته: انسانی

پایه: دهم

امتحان درس: اقتصاد

\*امتحان بصورت مجازی می باشد و هر دانش آموز فقط تعداد محدودی از این سوالات را به صورت شفاهی پاسخ می دهد.

۹- به ترتیب چه مواردی به درستی الف و ب را کامل می کند؟



۱۰- مزایای کسب و کار شخصی را نام ببرید؟