



مشاوره تحصیلی هیوا

تخصصی ترین سایت مشاوره کشور

مشاوره تخصصی ثبت نام مدارس ، برنامه ریزی درسی و آمادگی
برای امتحانات مدارس

برای ورود به صفحه مشاوره مدارس کلیک کنید


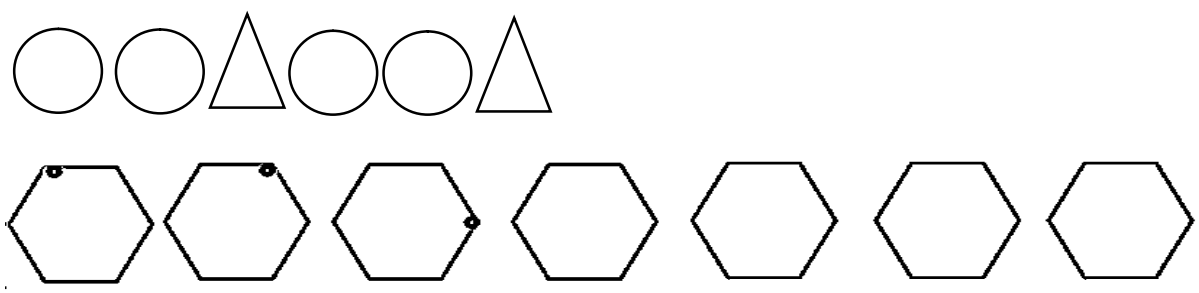

برای ورود به صفحه نمونه سوالات امتحانی کلیک کنید

تماس با مشاور تحصیلی مدارس

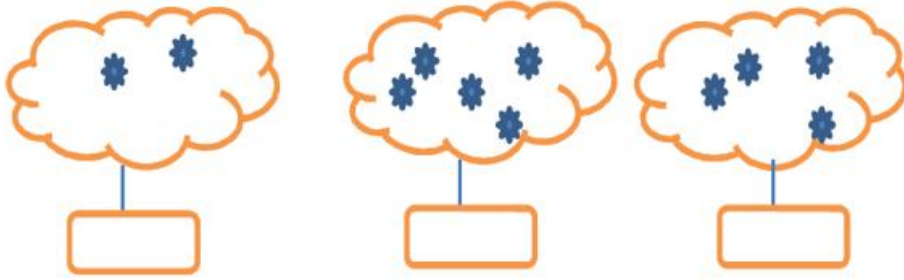
۹۰۹۹۰۷۱۷۸۹




تماس از تلفن ثابت

ردیف	شرح سوالات
۱	<p>دور عدد درست خط بکش.</p>  <p>۵ ۴ ۳ ۳ ۲ ۱ ۳ ۲ ۱</p>
۲	<p>الگو را ادامه بده.</p> 
۳	<p>شکل های سمت چپ و راست روی هم چند تا است ؟ با یک عدد نشان بده.</p>  <p>.....</p> <p>.....</p> <p>.....</p>

۵ عدد هر دسته را بنویس .



۶ اگر به تعداد شکلها ایستراستاز شکلها ایستچیردار یچند تا میماند عدد آنرا بنویس .



۷ جدول شگفت انگیز را کامل کن .

۱	۲		
۴			۱
۲	۱		۳
۳	۴	۱	۲

۲	۱	۴	۳
۳			۲
۱			۴
۴	۳	۲	۱

۸ دور دسته ی بیش تر را خط بکش .



باز خورد آموزگار :

نیاز مند به تلاش بیشتر ○

قابل قبول ☀

خوب ☀

خیلی خوب ☀